

Thầy giáo Hồ Khắc Vũ - GV dạy Toán cấp I-II. SĐT: 037.858.8250 TP Tam Kỳ - Quảng Nam
"Thành Công Có Duy Nhất Một Điểm Đến Nhưng Có Rất Nhiều Con Đường Để Đi"

TUYỂN TẬP

55 ĐỀ THI HỌC KỲ II LỚP 1 - MÔN TOÁN

Tập 01: 001-030



hokhaku

Tam Kỳ-Quảng Nam, tháng 02-2019

Tuyển Tập 55 Đề Thi Học Kỳ II Lớp 1 Năm học 2018-2019
Success has only one destination, but has a lot of ways to go

Thầy giáo Hồ Khắc Vũ – GV dạy Toán cấp I-II. SĐT: 037.858.8250 TP Tam Kỳ - Quảng Nam
“Thành Công Có Duy Nhất Một Điểm Đến Nhưng Có Rất Nhiều Con Đường Để Đi”
ĐỀ 001

1/- Điền số vào chỗ chấm : (1 điểm) .

a- 79; ; 81 ,.....;; ; 85 , ;..... ; ; 89 ;.....;

b- 10, 20,.....,....., 50,....., 70,.....,90

2/- Đúng ghi Đ, sai ghi S : (1 điểm) .

$$\begin{array}{r} 78 \\ - 35 \\ \hline 52 \end{array} \square$$
$$\begin{array}{r} 66 \\ - 21 \\ \hline 34 \end{array} \square$$
$$\begin{array}{r} 35 \\ + 13 \\ \hline 48 \end{array} \square$$
$$\begin{array}{r} 84 \\ + 12 \\ \hline 72 \end{array} \square$$

3/- Khoanh vào trước số nào em cho là đúng : (1 điểm)

Số liền sau số 46 là :

a - 45

b - 47

c - 48

4/- Viết các số : 72, 38, 64 (1 điểm)

a- Theo thứ tự từ bé đến lớn :

b- Theo thứ tự từ lớn đến bé :

5/- Tính nhẩm : (1,5 điểm) $75 - 4 = \dots\dots$; $51 + 37 = \dots\dots$

$$40 + 30 + 4 = \dots\dots$$

6/-Điền dấu <, =, > vào ô trống : (1,5 điểm)

$$60 - 20 \square 10 + 30 ; \quad 53 + 4 \square 53 - 4 \quad ; \quad 75 - 5 \square 75 - 4$$

7/-Đặt tính rồi tính : (1 điểm)

$$53 + 14 \quad ; \quad 85 - 64$$

.....

Tuyển Tập 55 Đề Thi Học Kỳ II Lớp 1 Năm học 2018-2019

Success has only one destination, but has a lot of ways to go

.....
.....
.....

8/- Một thanh gỗ dài 97 cm, bố em cưa bớt đi 22 cm. Hỏi thanh gỗ còn lại dài bao nhiêu xăng ti mét (2 điểm)

.....
.....
.....
.....
.....

Đáp án đề số 001

1)

a) 79; 80; 81; 82; 83; 84; 85; 86; 87; 88; 89; 90; 91

b) 10; 20; 30; 40; 50; 60; 70; 80; 90

2)

$$78 - 35 = 52 \quad S$$

$$35 + 13 = 48 \quad Đ$$

$$66 - 21 = 34 \quad S$$

$$84 + 12 = 72 \quad S$$

3) B

4) a) bé đến lớn: 38; 64; 72

b) lớn đến bé: 72; 64; 38

5) Tính nhẩm: $75 - 4 = 71$

$$51 + 37 = 88$$

$$40 + 30 + 4 = 74$$

$$6) 60 - 20 = 10 + 30$$

$$53 + 4 > 53 - 4$$

$$75 - 5 < 75 - 4$$

Thầy giáo Hồ Khắc Vũ – GV dạy Toán cấp I-II. SĐT: 037.858.8250 TP Tam Kỳ - Quảng Nam
“Thành Công Có Duy Nhất Một Điểm Đến Nhưng Có Rất Nhiều Con Đường Để Đi”

7) Mỗi câu đặt tính đúng được 0,5đ $53+14=67$ $85-64=21$

8) Số xentimet thanh gỗ còn lại là: $97-22=75(cm)$ Đáp số: $75cm$

ĐỀ 002

Bài 1. Đọc số hoặc viết số theo mẫu

a. Ba mươi hai : 32 Năm mươi:..... Mười tám:.....

b. 26: Hai mươi sáu 52:..... 44:.....

Bài 2 : Đặt tính rồi tính

$5 + 24$

$76 + 13$

$78 - 47$

$59 - 6$

.....

.....

.....

.....

.....

.....

.....

.....

.....

.....

.....

.....

Bài 3 : Tính

$22 + 6 - 7 = \dots$

$47 - 3 - 2 = \dots$

Bài 4. Điền số?

$23 + \dots = 28$

$65 - \dots = 60$

Bài 5 : Điền dấu : >, <, =

$50 + 6 \dots 50 - 6$

$45 \dots 54$

Tuyển Tập 55 Đề Thi Học Kỳ II Lớp 1 Năm học 2018-2019

Success has only one destination, but has a lot of ways to go

Thầy giáo Hồ Khắc Vũ – GV dạy Toán cấp I-II. SĐT: 037.858.8250 TP Tam Kỳ - Quảng Nam
“Thành Công Có Duy Nhất Một Điểm Đến Nhưng Có Rất Nhiều Con Đường Để Đi”

Bài 6 : Viết theo mẫu :

- a. Số 25 gồm 2 chục và 5 đơn vị
- b. Số 70 gồm ...chục và đơn vị
- c. Số 65 gồmchục và đơn vị

Bài 7. Điền dấu + , - và số thích hợp để có phép tính đúng

			=	
--	--	--	---	--

			=	
--	--	--	---	--

Bài 8 : Nam có 10 cái kẹo, Nam cho bạn 4 cái kẹo. Hỏi Nam còn mấy cái kẹo?

.....

.....

.....

.....

.....

.....

Bài 9 : Hồng gấp được 6 ngôi sao, Hoa gấp được 13 ngôi sao. Hỏi cả hai bạn gấp được tất cả bao nhiêu ngôi sao?

.....

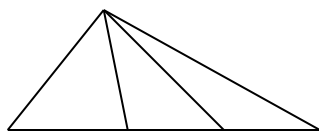
.....

.....

.....

Tuyển Tập 55 Đề Thi Học Kỳ II Lớp 1 Năm học 2018-2019
Success has only one destination, but has a lot of ways to go

Bài 10. Hình bên có..... hình tam giác



Đáp án đề số 002

- 1) a) Năm mươi: 50 Mười tám : 18
- b) 52: Năm mươi hai 44: Bốn mươi bốn
- 2) Mỗi câu đặt tính đúng được điểm tối đa
- $5+24=29$ $76+13=89$ $78-47=31$ $59-6=53$
- 3) Tính: $22+6-7=21$ $47-3-2=42$
- 4) $23+5=28$ $65-5=60$
- 5) $50+6 > 50-6$ $45 < 54$
- 6) b) Số 70 gồm 7 chục và 0 đơn vị
- c) Số 65 gồm 6 chục và 5 đơn vị
- 7) $4+3=7$ $9-5=4$
- 8) Số cái kẹo Nam còn lại là: $10-4=6$ (cái kẹo) Đáp số: 6 cái kẹo
- 9) Số ngôi sao cả hai bạn gấp được là: $6+13=19$ (ngôi sao)
- Đáp số: 19 ngôi sao
- 10) Hình bên có 6 tam giác

ĐỀ 003

Phần I: Trắc nghiệm (6 điểm)

Câu 1: (0,5điểm) Hãy khoanh vào chữ cái đặt trước đáp án đúng

a) $5\text{ cm} + 2\text{cm} + 1\text{cm} =$

A. 8

B. 7

C. 8cm

Tuyển Tập 55 Đề Thi Học Kỳ II Lớp 1 Năm học 2018-2019

Success has only one destination, but has a lot of ways to go

Thầy giáo Hồ Khắc Vũ – GV dạy Toán cấp I-II. SĐT: 037.858.8250 TP Tam Kỳ - Quảng Nam
“Thành Công Có Duy Nhất Một Điểm Đến Nhưng Có Rất Nhiều Con Đường Để Đi”

b) $40 - 20 + 10 =$

A. 20

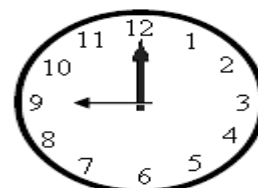
B. 30

C. 40

Câu 2: (0,5điểm)

Hãy khoanh vào số lớn nhất trong các số sau:

30; 35; 37; 41; 45; 49; 87; 75; 99; 12; 59.



Câu 3: (0.5 điểm) Đồng hồ chỉ mấy giờ ?

A. 9 giờ ;

B. 10 giờ;

C. 12 giờ ;

Câu 4: (0,5 điểm) Một tuần lễ có mấy ngày;

A. 5 ngày

B. 6 ngày

C. 7 ngày

Câu 5: (1 điểm)

a) Số liền sau của 59 là:

A. 58;

B. 60;

C. 61

b) Số liền trước của 90 là:

A. 88;

B. 89;

C. 91;

Câu 6: (1điểm) Trên cành có 30 con chim đậu, sau đó có 20 con bay đi. Hỏi trên cành còn lại bao nhiêu con chim?

A. 10 con chim.

B. 20 con chim

C. 30 con chim.

Câu 7 (1 điểm) Dãy số nào viết theo thứ tự từ bé đến lớn:

A: 69, 57, 82, 60 ,76;

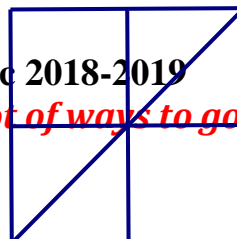
B: 57, 69, 82, 76, 60;

C: 57, 60, 69, 76, 82,

Câu 8: (1 điểm)

Tuyển Tập 55 Đề Thi Học Kỳ II Lớp 1 Năm học 2018-2019

Success has only one destination, but has a lot of ways to go



Thầy giáo Hồ Khắc Vũ – GV dạy Toán cấp I-II. SĐT: 037.858.8250 TP Tam Kỳ - Quảng Nam
“Thành Công Có Duy Nhất Một Điểm Đến Nhưng Có Rất Nhiều Con Đường Để Đi”

a) Có mấy hình vuông ở hình bên?

A. 4 ; B. 5 ; C. 6

b) Có mấy hình tam giác

A. 4 B. 5 C. 6

Phần II: TỰ LUẬN (4 điểm)

Câu 1: (1 điểm) Tính

$$\begin{array}{r} 70 \\ + \\ 3 \\ \hline \end{array}$$

b) $\begin{array}{r} 70 \\ + \\ 8 \\ \hline \end{array}$

c) $\begin{array}{r} 93 \\ - \\ 80 \\ \hline \end{array}$

d) $\begin{array}{r} 99 \\ - \\ 90 \\ \hline \end{array}$

.....
Câu 2: (0,5 điểm) Điền dấu >, <, = vào ô trống

a) $82 - 4$ $53 - 12$ b) $68 - 21$ $59 - 22$

Câu 3: (0,5 điểm) Số ?

..... - 30 = 50

35 + = 77

Câu 4: (2 điểm) Đàn gà nhà Lan có 74 con , trong đó có 32 con gà trống. Hỏi đàn gà nhà Lan có mấy con gà mái.

Bài giải

ĐÁP ÁN ĐỀ SỐ 003

I. Trắc nghiệm

1) a) C b) B

2. Số lớn nhất là: 99

3.A 4.C 5.a) B b) B

Tuyển Tập 55 Đề Thi Học Kỳ II Lớp 1 Năm học 2018-2019

Success has only one destination, but has a lot of ways to go

Thầy giáo Hồ Khắc Vũ – GV dạy Toán cấp I-II. SĐT: 037.858.8250 TP Tam Kỳ - Quảng Nam
“Thành Công Có Duy Nhất Một Điểm Đến Nhưng Có Rất Nhiều Con Đường Để Đi”

6.A 7C 8. a)B b) C

II. Tự luận

1) Mỗi câu đặt tính đúng được 0,25d

a) $70 + 3 = 73$ b) $70 + 8 = 78$ c) $93 - 80 = 13$ d) $99 - 90 = 9$

2) a) $82 - 4 > 53 - 12$ b) $68 - 21 > 59 - 22$

3) $80 - 30 = 50$ $35 + 42 = 77$

4) Số con gà mái của nhà Lan là: $74 - 32 = 42$ (con gà)

Đáp số: 42 con gà

Thầy giáo Hồ Khắc Vũ – GV dạy Toán cấp I-II. SĐT: 037.858.8250 TP Tam Kỳ - Quảng Nam
“Thành Công Có Duy Nhất Một Điểm Đến Nhưng Có Rất Nhiều Con Đường Để Đi”
ĐỀ 004

Phần I: Trắc nghiệm (7 điểm)

Khoanh tròn vào chữ cái đặt trước kết quả đúng:

Câu 1: (0,5điểm). “Số 81” đọc là: (M1)

- A. Tám một B. Tám mươi một C. Tám mươi một D. Tám một

Câu 2: (0,5điểm). Số gồm 6 chục và 5 đơn vị được viết là: (M1)

- A. 56 B. 65 C. 60 D. 605

Câu 3. (0,5điểm). Các số **51; 15; 7; 27** được xếp theo thứ tự từ bé đến lớn là: (M2)

- A. 7; 15; 27; 51 B. 51; 27; 15; 7 C. 51; 15; 27; 7 D. 7; 27; 15; 51

Câu 4. (0,5điểm). Trong các số: **56; 65; 18; 81**. Số bé nhất là: (M2)

- A. 56 B. 65 C. 18 D. 81

Câu 5. (0,5điểm). Trong các số: **65; 78; 37; 94**. Số lớn nhất là: (M2)

- A. 65 B. 78 C. 37 D. 94

Câu 6. (0,5điểm). Kết quả của phép tính: **56 + 30** là: (M1)

- A. 80 B. 86 C. 59 D. 95

Câu 7. (0,5điểm). Kết quả của phép tính: **84 - 54** là: (M1)

- A. 34 B. 54 C. 30 D. 34

Câu 8. (0,5điểm). Phép tính: **50 cm + 40 cm** có kết quả là: (M1)

- A. 90cm B. 90 C. 80cm D. 10cm

Câu 9: (0,5điểm). Bố đi công tác 1 tuần lễ và 2 ngày. Vậy bố đi công tác số ngày là: (M2)

- A. 8 ngày B. 9 ngày C. 7 ngày D. 5 ngày

Câu 10. (0,5điểm). Cho: $20 + \dots = 50 + 10$. Số cần điền vào chỗ chấm là số: (M3)

- A. 10 B. 20 C. 30 D. 40

Tuyển Tập 55 Đề Thi Học Kỳ II Lớp 1 Năm học 2018-2019

Success has only one destination, but has a lot of ways to go

Thầy giáo Hồ Khắc Vũ – GV dạy Toán cấp I-II. SĐT: 037.858.8250 TP Tam Kỳ - Quảng Nam
“Thành Công Có Duy Nhất Một Điểm Đến Nhưng Có Rất Nhiều Con Đường Để Đi”

Câu 11: (0,5điểm). Cho : $36 + \dots < 38$. Số cần điền vào chỗ chấm là số nào? (M3)

- A. 2 B. 1 C. 8 D. 10

Câu 12. (0,5điểm). Cho: $38 - 5 \dots\dots\dots 32$. Dấu thích hợp điền vào chỗ chấm là: (M2)

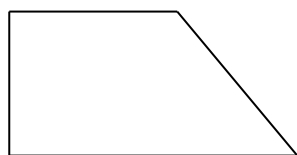
- A. = B. < C. > D. +

Câu 13. (0,5điểm). Hà có 45 viên bi. Hà cho Hùng 20 viên bi. Số bi Hà còn lại là: (M3)

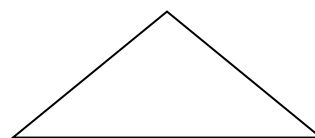
- A. 25 viên bi B. 56 viên bi C. 47 viên bi D. 65 viên bi

Câu 14. (0,5điểm). Kẻ thêm một đoạn thẳng vào trong hình bên để có: (M4)

- Một hình vuông và một hình tam giác



- Ba hình tam giác



Phần II: Tự luận (3 điểm)

Câu 15 (1điểm). Đặt tính rồi tính: (M1)

$35 + 40$

$19 - 9$

$14 + 3$

$67 - 32$

.....

.....

.....

.....

.....

.....

.....

.....

.....

.....

.....

.....

Câu 16. (0,5điểm). Tính: (M2) $40 + 3 + 4 = \dots\dots\dots$ $56 - 14 + 23 = \dots\dots\dots$

Câu 17. (1điểm). Lớp em có 38 học sinh, có 3 học sinh chuyển đi lớp khác. Hỏi lớp em còn bao nhiêu học sinh? (M3)

Tuyển Tập 55 Đề Thi Học Kỳ II Lớp 1 Năm học 2018-2019
Success has only one destination, but has a lot of ways to go

Thầy giáo Hồ Khắc Vũ – GV dạy Toán cấp I-II. SĐT: 037.858.8250 TP Tam Kỳ - Quảng Nam
"Thành Công Có Duy Nhất Một Điểm Đến Nhưng Có Rất Nhiều Con Đường Để Đi"
Bài giải

.....
.....
.....
Câu 18.(0,5điểm). Cho ba số **43; 68; 25** và các dấu + ; - ; = . Hãy viết các phép tính đúng.

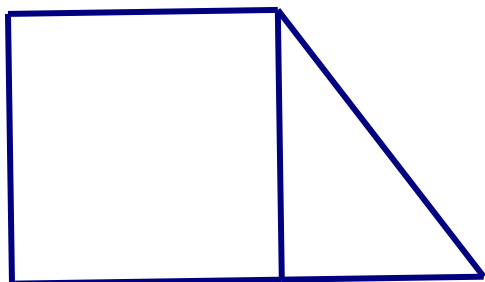
.....
.....
ĐÁP ÁN ĐỀ SỐ 004

I.Trắc nghiệm

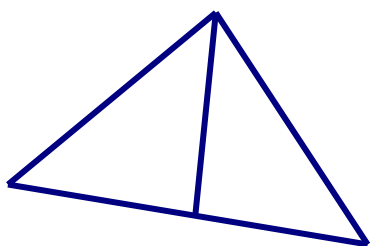
1.C 2.B 3.A 4.C 5.D 6.B 7.C 8.A 9.B 10.D

11.B 12.C 13.A

14. 1 hình vuông và 1 hình tam giác



Ba hình tam giác



II. TỰ LUẬN

15) Mỗi câu đặt tính đúng được 0,25 đ

$$35 + 40 = 75$$

$$19 - 9 = 10$$

$$14 + 3 = 17$$

$$67 - 32 = 35$$

16) Tính: $40 + 3 + 4 = 47$

$$56 - 14 + 23 = 65$$

17) Số học sinh lớp em còn lại là: $38 - 3 = 35$ (học sinh)

18) $43 + 25 = 68$; $25 + 43 = 68$

ĐỀ SỐ 005

Bài 1: Khoa có 1 tá bút chì, Lan có 12 cái bút chì. Vậy:

A. Khoa có nhiều bút chì hơn Lan.

B. Khoa có ít bút chì hơn Lan.

C. Khoa và Lan có số bút chì bằng nhau.

Bài 2: Số thích hợp điền vào chỗ chấm trong phép tính:

a) $\dots - 51 = 8$

A. 59

B. 43

C. 60

D. 63

b) $11 + \dots < 2 + 10$

A. 0

B. 1

C. 2

D. 0; 1

Bài 3: Lấy số lớn nhất có hai chữ số khác nhau trừ đi số bé nhất có hai chữ số thì được:

A. 68

B. 88

C. 98

D. 74

Bài 4: Bố đi công tác 1 tuần và 3 ngày, như vậy bố đã đi:

Tuyển Tập 55 Đề Thi Học Kỳ II Lớp 1 Năm học 2018-2019

Success has only one destination, but has a lot of ways to go

Thầy giáo Hồ Khắc Vũ – GV dạy Toán cấp I-II. SĐT: 037.858.8250 TP Tam Kỳ - Quảng Nam
“Thành Công Có Duy Nhất Một Điểm Đến Nhưng Có Rất Nhiều Con Đường Để Đi”

- A. 4 ngày B. 10 ngày C. 3 ngày D. 9 ngày

Bài 5: Viết phép cộng số lớn nhất có 1 chữ số với số bé nhất có 2 chữ số rồi tìm kết quả

.....

Bài 6: Viết phép trừ số lớn nhất có hai chữ số khác nhau trừ đi số bé nhất có hai chữ số giống nhau rồi tìm kết quả:

Bài 7: Nhà Nga có 1 đôi gà và 4 con vịt. Vậy nhà Nga có tất cả:

- A. 5 con B. 6 con C. 14 con D. 4 con

Bài 8: Cho ba chữ số 4; 7, 5 hãy viết các số có hai chữ số khác nhau:

.....

Bài 9: Điền dấu < > =

$13 + 25 \dots\dots 40$

$34 + 42 \dots\dots 42 + 34$

$89 - 77 \dots\dots 11$

$97 - 25 \dots\dots 86 - 13$

Bài 10: Đặt tính rồi tính :

$36 + 40$

$78 - 35$

$5 + 63$

$59 - 6$

.....

.....

.....

Bài 11: Số?

$90 + \dots = 95$

$70 + \dots = 90$

$65 + \dots = 69$

$95 - \dots = 90$

$70 - \dots = 50$

$65 - \dots = 62$

Bài 12: Mẹ có một bó hoa. Mẹ tặng bà 3 chục bông hoa và tặng chị 8 bông hoa. Hỏi mẹ đã tặng tất cả bao nhiêu bông hoa?

Bài giải

Tuyển Tập 55 Đề Thi Học Kỳ II Lớp 1 Năm học 2018-2019

Success has only one destination, but has a lot of ways to go

Bài 13: Cho các số: 0, 10, 20, 30, 40, 50, 60, 70, 80, 90. Hãy tìm các cặp hai số sao cho khi cộng hai số đó thì có kết quả là 80.

.....

.....

Bài 14: Cho các số: 0, 10, 20, 30, 40, 50, 60, 70, 80, 90. Hãy tìm các cặp hai số sao cho lấy số lớn trừ số bé thì có kết quả là 50.

.....

ĐÁP ÁN ĐỀ SỐ 005

1.C 2.a) A b) A 3.B 4.B 5) $9+10=19$ 6) $98-11=87$

7) B

8) Các số có hai chữ số khác nhau là: 47; 45; 75; 74; 54; 57

9) a) $13+25 < 40$ b) $34+42 = 42+34$ c) $89-77 > 11$ d) $97-25 < 86-13$

10) Mỗi câu đặt tính đúng được điểm tối đa

$$36+40=76$$

$$78-35=43$$

$$5+63=68$$

$$59-6=53$$

11) Số

$$90+5=95$$

$$70+20=90$$

$$65+4=69$$

$$95-5=90$$

$$70-20=50$$

$$65-3=62$$

12) 3 chục = 30

Số bông hoa mẹ đã tặng tất cả là: $30+8=38$ (bông hoa) Đáp số: 38 bông hoa.

13) Các cặp số cộng lại được 80 là:

Tuyển Tập 55 Đề Thi Học Kỳ II Lớp 1 Năm học 2018-2019

Success has only one destination, but has a lot of ways to go

Thầy giáo Hồ Khắc Vũ – GV dạy Toán cấp I-II. SĐT: 037.858.8250 TP Tam Kỳ - Quảng Nam
“Thành Công Có Duy Nhất Một Điểm Đến Nhưng Có Rất Nhiều Con Đường Để Đi”

0 + 80; 10 + 70; 20 + 60; 30 + 50

14) Các cặp số trừ ra có kết quả là 50 là :

90 – 40 ; 80 – 30 ; 70 – 20 ; 60 – 10 ; 50 – 0

ĐỀ SỐ 006

Bài 1. a) Khoanh vào số lớn nhất:

72 96 85 47

b) Khoanh tròn vào số bé nhất:

50 61 48 58

Bài 2. Khoanh vào chữ đặt trước kết quả trả lời đúng.

a) Số liền trước của số 70 là:

A. 71 B. 69 C. 60 D. 80

b) Số liền sau của số 99 là:

A. 98 B. 90 C. 89 D. 100

Bài 3. Đúng ghi đ, sai ghi s vào ô trống:

a) $77 - 7 - 0 = 77$ c) $65 - 33 < 33$

b) $90 + 5 > 94$ d) $63 = 36$

Bài 4. Đặt tính rồi tính:

52 + 37	26 + 63	76 + 20	68 - 31	75 - 45	87 - 50
.....
.....
.....

Tuyển Tập 55 Đề Thi Học Kỳ II Lớp 1 Năm học 2018-2019
Success has only one destination, but has a lot of ways to go

Bài 5. Tính

$26 + 32 - 45 = \dots\dots$

$77 \text{ cm} - 35 \text{ cm} + 26 \text{ cm} = \dots\dots\dots$

$68 - 40 - 26 = \dots\dots$

$57 \text{ cm} + 20 \text{ cm} + 12 \text{ cm} = \dots\dots\dots$

Bài 6. Điền dấu $>$, $<$, $=$?

$45 - 24 \dots\dots\dots 17 + 10$

$32 + 16 \dots\dots\dots 20 + 28$

$24 + 35 \dots\dots\dots 78 - 21$

$37 - 17 \dots\dots\dots 56 - 36$

Bài 7. Số?

$51 + \dots\dots\dots < 56$

$\dots\dots + 67 = 89$

$\dots\dots - 8 > 80$

$\dots\dots + 32 = 45 + \dots\dots$

Bài 8. Hai hộp bút chì có tất cả 7 chục cái. Hộp thứ nhất có 30 cái. Hỏi hộp thứ hai có bao nhiêu cái?

Bài giải 7 chục =

.....
.....
.....

Bài 9. Đoạn đường dài 78 cm. Con kiến đã đi được 50 cm. Hỏi con kiến còn phải đi bao nhiêu xăng ti mét nữa thì tới nơi?

Bài giải

.....
.....
.....

ĐÁP ÁN ĐỀ SỐ 006

Bài 1. a) 96

b) 48

Tuyển Tập 55 Đề Thi Học Kỳ II Lớp 1 Năm học 2018-2019

Success has only one destination, but has a lot of ways to go

Thầy giáo Hồ Khắc Vũ – GV dạy Toán cấp I-II. SĐT: 037.858.8250 TP Tam Kỳ - Quảng Nam
“Thành Công Có Duy Nhất Một Điểm Đến Nhưng Có Rất Nhiều Con Đường Để Đi”

Bài 2. a) B b) D

Bài 3. A) S b) Đ c) Đ d) S

Bài 4. Mỗi câu đặt tính đúng được điểm tối đa

$$\begin{array}{lll} 52 + 37 = 89 & 26 + 63 = 89 & 76 + 20 = 96 \\ 68 - 31 = 37 & 75 - 45 = 30 & 87 - 50 = 37 \end{array}$$

Bài 5. Tính

$$\begin{array}{ll} 26 + 32 - 45 = 13 & 77\text{cm} - 35\text{cm} + 26\text{cm} = 68\text{cm} \\ 68 - 40 - 26 = 2 & 57\text{cm} + 20\text{cm} + 12\text{cm} = 89\text{cm} \end{array}$$

Bài 6.

$$\begin{array}{ll} 45 - 24 < 17 + 10 & 32 + 16 = 20 + 28 \\ 24 + 35 > 78 - 21 & 37 - 17 = 56 - 36 \end{array}$$

Bài 7

$$51 + 2 < 56 \quad 22 + 67 = 89 \quad 89 - 8 > 80 \quad 45 + 32 = 45 + 32$$

Bài 8. 7 chục = 70

Số cái bút chì hộp thứ hai có là: $70 - 30 = 40$ (cái)

Đáp số: 40 cái

Bài 9. Số xăng ti mét còn phải bỏ là : $78 - 50 = 28$ (cm)

Đáp số: 28 cm

ĐỀ SỐ 007

Bài 1 : Tính : (1,5 đ)

$$16 \quad 55 \quad 76 \quad 27 \quad 38 \quad 100 \quad 75$$

Tuyển Tập 55 Đề Thi Học Kỳ II Lớp 1 Năm học 2018-2019

Success has only one destination, but has a lot of ways to go

+	-	+	+	+	-	-
3	33	14	9	62	80	48
.....

Bài 2: Tính : (1.5 đ)

$18 + 21 = \dots$ $82 + 12 = \dots$ $19 - 54 = \dots$ $16 - 7 = \dots$
 $53 + 14 + 1 = \dots$ $66 - 2 - 23 = \dots$ $78 - 35 + 4 = \dots$ $47 + 2 - 37 = \dots$

Bài 3: Viết phép tính thích hợp vào ô trống : (1 đ)

Có : 25 viên bi
Cho : 8 viên bi
Còn lại : ... viên bi?

Bài 4: Viết đề toán và giải theo tóm tắt sau: (2 đ)

Có : 42 quả cam
Thêm : 12 quả
Cho : 9 quả
Còn lại: ... quả?

Bài 5: > < = ? (0.5 đ)

a $76 \dots 67$ b $99 - 33 - 12 \dots 82$ c $11 + 31 \dots 78 - 53$ d $74 - 43 + 11 \dots 31 + 11$

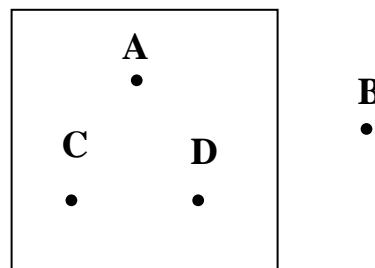
Bài 6: Đúng ghi Đ, sai ghi S: (1.5 đ)

Điểm A nằm ngoài hình vuông

Điểm B nằm trong hình vuông

Điểm C nằm trong hình vuông

Điểm D nằm ngoài hình vuông



Bài 7: (1 điểm)

Tuyển Tập 55 Đề Thi Học Kỳ II Lớp 1 Năm học 2018-2019

Success has only one destination, but has a lot of ways to go

Thầy giáo Hồ Khắc Vũ – GV dạy Toán cấp I-II. SĐT: 037.858.8250 TP Tam Kỳ - Quảng Nam
“Thành Công Có Duy Nhất Một Điểm Đến Nhưng Có Rất Nhiều Con Đường Để Đi”
Vẽ đoạn thẳng có độ dài 15cm.

ĐÁP ÁN ĐỀ SỐ 007

1) Mỗi câu đặt tính đúng được 0,25 điểm

$16 + 3 = 19$

$55 - 33 = 22$

$76 + 14 = 90$

$27 + 9 = 36$

$38 + 62 = 100$

$100 - 80 = 20$

$75 - 48 = 27$

2) Tính

$18 + 21 = 39$

$82 + 12 = 94$

$19 + 54 = 73$

$16 - 7 = 9$

$53 + 14 + 1 = 68$

$66 - 2 - 23 = 41$

$78 - 35 + 4 = 47$

$47 + 2 - 37 = 12$

3) $25 - 8 = 17$

4) Bài toán: Mẹ có 42 quả cam, mẹ mua thêm 12 quả nữa. Sau đó mẹ cho bà 9 quả. Hỏi mẹ còn lại bao nhiêu quả ?

Giải: Số quả cam mẹ còn lại là : $42 + 12 - 9 = 45$ (quả)

Đáp số: 45 quả

5) a) $76 > 67$

b) $99 - 33 - 12 < 82$

c) $11 + 31 > 78 - 53$

d) $74 - 43 + 11 = 31 + 11$

6) – Điểm A nằm ngoài hình vuông: Sai

- Điểm B nằm trong hình vuông: Sai

- Điểm C nằm trong hình vuông: Đúng

- Điểm D nằm ngoài hình vuông : Sai

7) 

ĐỀ SỐ 008

Bài 1 : a, Khoanh vào chữ cái trước câu trả lời đúng :

$70 - 20 =$

A , 2

B , 10

C, 50

b, Khoanh vào số lớn nhất : 63, 49, 25, 65

c, Khoanh vào số bé nhất : 15 ; 20 ; 19 ; 65

$d, 50 \text{ cm} + 3 \text{ cm} =$

A , 52 cm

B , 53 cm

C, 53

Tuyển Tập 55 Đề Thi Học Kỳ II Lớp 1 Năm học 2018-2019

Success has only one destination, but has a lot of ways to go

Thầy giáo Hồ Khắc Vũ – GV dạy Toán cấp I-II. SĐT: 037.858.8250 TP Tam Kỳ - Quảng Nam
“Thành Công Có Duy Nhất Một Điểm Đến Nhưng Có Rất Nhiều Con Đường Để Đi”

Bài 2 : a, Điền số thích hợp vào chỗ chấm

40 ; 41 ; ; ; 44 ; ; ; 47 ; ; 49

b, Viết các số

Hai mươi hai :

Ba mươi một :

c, Viết các số : 70 ; 50 ; 75 ; 82

Theo thứ tự từ lớn đến bé :

d, Viết các số từ 15 đến 25 :

Bài 3 : a, Đặt tính rồi tính

$$43 + 26$$

$$86 - 36$$

.....

.....

.....

.....

b, Tính : $24 + 5 - 8$

$56 - 20 - 4$

.....

.....

.....

c, Điền > ; < ; = vào chỗ chấm

Tuyển Tập 55 Đề Thi Học Kỳ II Lớp 1 Năm học 2018-2019

Success has only one destination, but has a lot of ways to go

Thầy giáo Hồ Khắc Vũ – GV dạy Toán cấp I-II. SĐT: 037.858.8250 TP Tam Kỳ - Quảng Nam
“Thành Công Có Duy Nhất Một Điểm Đến Nhưng Có Rất Nhiều Con Đường Để Đi”

34 50


78 69

72 $60 + 12$

Bài 4 :

a, Viết số thích hợp vào chỗ chấm :

Đồng hồ chỉ : giờ



b, Khoanh vào chữ cái trước các ngày em đi học ;

A, Chủ nhật ; thứ hai ; thứ ba ; thứ tư ; thứ năm ; thứ sáu ; thứ bảy

B, Thứ hai ; thứ ba ; thứ tư ; thứ năm ; thứ sáu

Bài 5 : Đúng ghi Đ, sai ghi S

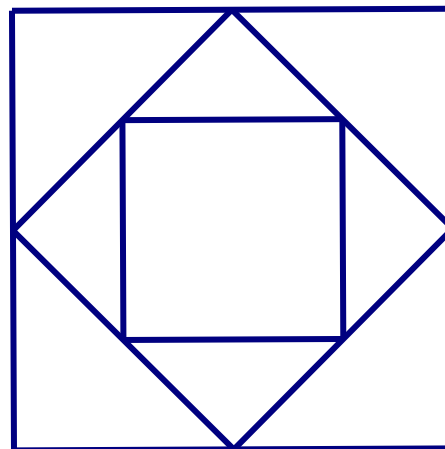
a, $60 \text{ cm} - 10 \text{ cm} = 50$

b, $60 \text{ cm} - 10 \text{ cm} = 50 \text{ cm}$

c, $60 \text{ cm} - 10 \text{ cm} = 40 \text{ cm}$

Bài 6 : Ở hình vẽ bên có :

- hình tam giác
- hình vuông



Bài 7 : a, Khoanh vào chữ cái trước câu trả lời

đúng

Tuyển Tập 55 Đề Thi Học Kỳ II Lớp 1 Năm học 2018-2019

Success has only one destination, but has a lot of ways to go

Thầy giáo Hồ Khắc Vũ – GV dạy Toán cấp I-II. SĐT: 037.858.8250 TP Tam Kỳ - Quảng Nam
“Thành Công Có Duy Nhất Một Điểm Đến Nhưng Có Rất Nhiều Con Đường Để Đi”

Tóm tắt

Có : 60 con gà

Bán : 30 con gà

Còn lại :.....con gà ?

A , 40 con gà

B , 30 con gà

C, 50 con gà

b, Bạn Hà có sợi dây dài 85 cm, bạn Hà cắt cho bạn Nam 25 cm . Hỏi sợi dây của bạn Hà còn lại bao nhiêu xăng – ti – mét ?

ĐÁP ÁN ĐỀ SỐ 008

Bài 1. a)C b)65 c)15 d)B

Bài 2. a)40;41;42;43;44;45;46;47;48;49

b) Viết số: Hai mươi hai : 22 Ba mươi một: 31

c) lớn đến bé: 82;75;70;50

d) Các số từ 15 đến 25: 15;16;17;18;19;20;21;22;23;24;25

Bài 3) a) Mỗi câu đặt tính đúng được điểm tối đa

$$43 + 26 = 69$$

$$86 - 36 = 50$$

b) Tính : $24 + 5 - 8 = 21$

$$56 - 20 - 4 = 32$$

c) $34 < 50$

$78 > 69$

$$72 = 60 + 12$$

Bài 4. a) Đồng hồ chỉ 11 giờ

b) B

Bài 5.

a) S

b) Đ

c) S

Tuyển Tập 55 Đề Thi Học Kỳ II Lớp 1 Năm học 2018-2019

Success has only one destination, but has a lot of ways to go

Thầy giáo Hồ Khắc Vũ – GV dạy Toán cấp I-II. SĐT: 037.858.8250 TP Tam Kỳ - Quảng Nam
“Thành Công Có Duy Nhất Một Điểm Đến Nhưng Có Rất Nhiều Con Đường Để Đi”

Bài 6. Hình bên có 8 hình tam giác , 3 hình vuông

Bài 7. a) B

b) Số xăng ti mét sợi dây của bạn Hà còn lại là: $85 - 25 = 60$ (cm)

Đáp số: 60 cm.

ĐỀ SỐ 009

A. Phần trắc nghiệm (6đ) (mỗi bài đúng được 1 điểm)
Khoanh vào chỗ trống trước câu trả lời đúng.

Bài 1 Kết quả của các phép tính sau:

a) $20 + 50$ là:

A. 30

B. 70

C. 50

b) $15 + 2$ là:

A. 14

B. 13

C. 17

c) $17 - 4$ là:

A. 11

B. 12

C. 13

d) $30 - 20$ là:

A. 10

B. 20

C. 30

Bài 2 Kết quả của các phép tính sau là:

a) $50 + 10 - 30$ là:

A. 60

B. 30

C. 40

b) $13 + 4 - 2$ là:

A. 14

B. 13

C. 15

Bài 3:

a) Khoanh vào số lớn nhất: 15, 19, 12, 16 là:

A. 19

B. 15

C. 12

Tuyển Tập 55 Đề Thi Học Kỳ II Lớp 1 Năm học 2018-2019

Success has only one destination, but has a lot of ways to go

.....
.....
Bài 2: Giỏ thứ nhất đựng 50 quả táo, giỏ thứ hai đựng 10 quả táo. Hỏi cả hai giỏ đựng bao nhiêu quả táo

Bài giải

.....
.....
.....
.....
ĐÁP ÁN ĐỀ SỐ 009

A. TRẮC NGHIỆM

- 1) a)B b)C c)C d)A
2) a)B b)C
3) a)A b)B
4) a)A b)C
5) a)A b)C
6) a) từ bé đến lớn: B b) từ lớn đến bé : A

B. TỰ LUẬN

- 1) Số quả bóng hai bạn có là : $14 + 3 = 17$ (quả bóng) Đáp số: 17 quả bóng
2) Số quả táo cả hai giỏ đựng là: $50 + 10 = 60$ (quả táo) Đáp số: 60 quả táo

ĐỀ SỐ 010

Câu 1: Khoanh vào chữ cái trước câu trả lời đúng:

a) Trong các số: 54, 86, 92 số nào lớn nhất:

- A. 54 B. 86 C. 92

b) Trong các số: 52, 67, 58 số nào bé nhất:

Tuyển Tập 55 Đề Thi Học Kỳ II Lớp 1 Năm học 2018-2019

Success has only one destination, but has a lot of ways to go

Thầy giáo Hồ Khắc Vũ – GV dạy Toán cấp I-II. SĐT: 037.858.8250 TP Tam Kỳ - Quảng Nam
“Thành Công Có Duy Nhất Một Điểm Đến Nhưng Có Rất Nhiều Con Đường Để Đi”

A. 67

B. 52

C. 58

Câu 2: Khoanh vào chữ cái trước kết quả đúng:

a) Số liền sau của 66 là:

A. 65

B. 67

C. 68

b) Số liền trước của 90 là:

A. 91

B. 98

C. 89

Câu 3: Tính $43 + 30 = ?$

A. 73

B. 70

C. 37

Câu 4: Tính

$$72 + 6 - 3 = \dots$$

$$40 \text{ cm} + 20 \text{ cm} - 10 \text{ cm} = \dots$$

Câu 5: Đặt tính rồi tính

$$30 + 40$$

$$78 - 3$$

$$6 + 52$$

$$84 - 20$$

.....

.....

.....

.....

.....

.....

.....

.....

.....

.....

.....

.....

Câu 6: Khoanh vào chữ cái trước kết quả đúng:

Trong các số 35; 71; 20; 80. Số tròn chục là:

A. 35; 20

B. 77; 80

C. 20; 80

Câu 7:

Khoanh vào chữ cái trước kết quả đúng:

“Số 55” đọc là:

A. năm năm

B. năm mươi lăm

C. năm mươi năm

Câu 8: Khoanh vào chữ cái trước kết quả đúng

$$93 + 4 - 2 = ?$$

A. 95

B. 96

C. 97

Tuyển Tập 55 Đề Thi Học Kỳ II Lớp 1 Năm học 2018-2019

Success has only one destination, but has a lot of ways to go

Thầy giáo Hồ Khắc Vũ – GV dạy Toán cấp I-II. SĐT: 037.858.8250 TP Tam Kỳ - Quảng Nam

“Thành Công Có Duy Nhất Một Điểm Đến Nhưng Có Rất Nhiều Con Đường Để Đi”

Câu 7: Khoanh vào chữ cái trước kết quả đúng: **0,5 điểm**

Số : “ 55: đọc là

B. năm mươi lăm

Câu 8: Khoanh vào chữ cái trước kết quả đúng: **0,5 điểm**

$93 + 4 - 2 = ?$

A. 95

Câu 9: Nhà Nga nuôi 49 con thỏ, mẹ đem bán đi 14 con thỏ. Hỏi nhà Nga còn lại bao nhiêu con thỏ? **2,0 điểm**

Bài giải

Số thỏ nhà Nga nuôi là:

$$49 - 14 = 35 \text{ (con)}$$

Đáp số: 35 con thỏ

Câu 10: **1,0 điểm**

Vẽ đoạn thẳng AB có độ dài 7 cm;



ĐỀ SỐ 011

Câu 1: Khoanh vào chữ cái trước kết quả đúng:

a) Trong các số: 65, 78, 94, 37 số nào lớn nhất

A. 37

B. 78

C. 94

b) Trong các số: 37, 78, 24, 65 số nào bé nhất

A. 37

B. 78

C. 24

Câu 2: Khoanh vào chữ cái trước kết quả đúng:

a) Số liền sau của 54 là:

A. 52

B. 55

C. 53

b) Số liền trước của 70 là:

Tuyển Tập 55 Đề Thi Học Kỳ II Lớp 1 Năm học 2018-2019

Success has only one destination, but has a lot of ways to go

Thầy giáo Hồ Khắc Vũ – GV dạy Toán cấp I-II. SĐT: 037.858.8250 TP Tam Kỳ - Quảng Nam
“Thành Công Có Duy Nhất Một Điểm Đến Nhưng Có Rất Nhiều Con Đường Để Đi”
Mỗi câu đúng 1 đ

Câu 1: Khoanh vào chữ cái trước kết quả đúng: 1đ

a) Trong các số: 65, 78, 94, 37 số nào lớn nhất. C. 94

b) Trong các số: 37, 78, 24, 65 số nào bé nhất. C. 24

Câu 2: Khoanh vào chữ cái trước kết quả đúng: 1đ

a) Số liền sau của 54 là: B. 55

b) Số liền trước của 70 là: B. 69

Câu 3: Tính $32 + 50 = ?$ A. 82

Câu 4: Tính M2

1 tuần =7.... ngày

$40\text{ cm} + 30\text{ cm} = .70\text{ cm}$

Câu 5: Đặt tính rồi tính:

Đặt tính đ (0,5 đ) ; tính đúng (0,5 đ)

Câu 6: Khoanh vào chữ cái trước kết quả đúng:

Trong các số 15; 66; 40; 09; 70. Số tròn chục là; C. 40; 70

Câu 7: Viết số hoặc đọc số theo mẫu (1 điểm)

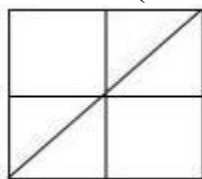
Câu 8: Nội đồng hồ với số giờ đúng: (1 điểm)

Câu 9: Lớp 1A có 35 bạn, trong đó có 21 bạn nữ. Hỏi lớp 1A có bao nhiêu bạn nam?

- **Câu lời giải và phép tính đúng: 0, 75 đ**

- **Đáp số đúng: 0,25 đ**

Câu 10: (1 điểm): Khoanh vào chữ cái đặt trước câu trả lời đúng



a) Có mấy hình tam giác. B. 6

b) Có mấy hình vuông: A. 5

Tuyển Tập 55 Đề Thi Học Kỳ II Lớp 1 Năm học 2018-2019

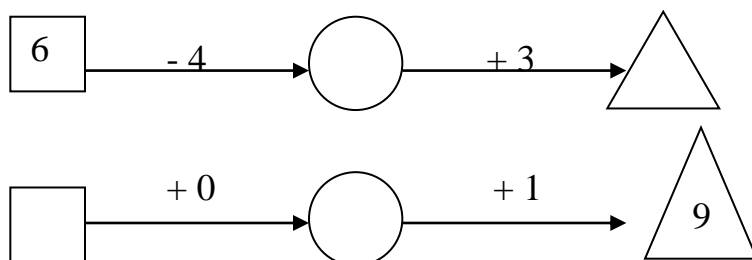
Success has only one destination, but has a lot of ways to go

ĐỀ SỐ 012

Bài 1. (1,5 điểm) Đúng ghi đ, sai ghi s vào ô trống

- | | | | |
|------------------|--------------------------|--------------------------|--------------------------|
| a. $28 + 0 = 28$ | <input type="checkbox"/> | d. $44 - 0 > 43$ | <input type="checkbox"/> |
| b. $17 + 1 > 19$ | <input type="checkbox"/> | e. $10 - 0 = 10$ | <input type="checkbox"/> |
| c. $3 + 3 < 6$ | <input type="checkbox"/> | f. $0 + 36 < 1 + 0 + 35$ | <input type="checkbox"/> |

Bài 2. (1 điểm) Số?



Bài 3. (1 điểm) Đặt tính rồi tính

$27 + 2$ $35 + 1$ $69 - 8$ $76 - 5$

Bài 4. (1 điểm) Tính

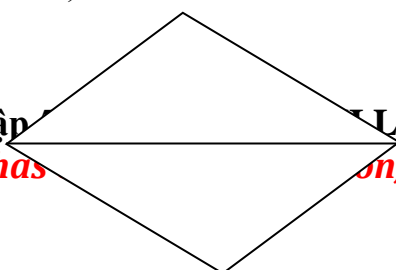
a. $43 + 4 - 3 = \dots\dots\dots$ b. $97 - 5 + 2 = \dots\dots\dots$

Bài 5. (1 điểm) a. Số liền trước 91 là:.....
 b. Số liền sau 69 là:.....

Bài 6. (1 điểm) Viết phép tính thích hợp
 Có 49 quả bóng.
 Bớt 3 quả bóng.
 Còn.....quả bóng?

--	--	--	--	--

Bài 7. (1 điểm) Nhìn hình điền số vào các câu trả lời sau :



a. Có..... đoạn thẳng.

b. Có hình tam giác.

Bài 8. (1 điểm) Mẹ chia kẹo cho hai anh em. Em được 25 cái kẹo, anh được ít hơn em 3 cái kẹo. Hỏi anh được mấy cái kẹo?

.....

.....

.....

Bài 9. (1,5 điểm) Ghi số thích hợp vào ô trống

	-		+		=	0
	+		-		=	9

ĐÁP ÁN ĐỀ SỐ 012

- 1) a)Đ b)S c)S d)Đ e)Đ f)S
 2) $6-4=2+3=5$ $8+0=8+1=9$
 3) Mỗi câu đặt tính đúng được 0,25đ
 $27+2=29$ $35+1=36$ $69-8=61$ $76-5=71$
 4) Tính
 a) $43+4-3=44$ b) $97-5+2=94$
 5) a) 90 b) 70
 6) $49-3=46$
 7) a) Có 5 đoạn thẳng b) có 2 hình tam giác
 8) Số cái kẹo anh có là : $25-3=22$ (cái kẹo) Đáp số: 22 cái kẹo
 9) $5-5+0=0$ $6+4-1=9$

ĐỀ SỐ 013

I. Phần trắc nghiệm (3 điểm):

Hãy chọn và khoanh vào chữ cái trước câu trả lời đúng:

Câu 1. (1 điểm) Số 73 là số liền trước của số nào?

- A. 69 B. 72 C. 74 D. 75

Câu 2. (1 điểm) Số chẵn bé hơn 5 và lớn hơn 2 là:

- A. 4 B. 6 C. 8

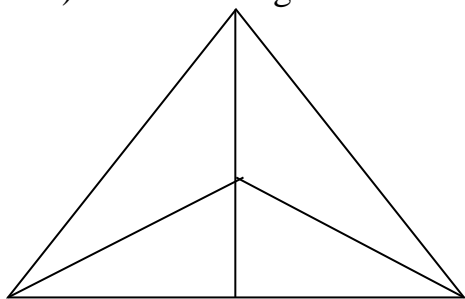
Câu 3. (1 điểm) Số hình tam giác có ở hình sau là:

A. 4

B. 5

C. 8

D. 6



II. Phần tự luận (7 điểm):

Câu 1. (1 điểm) Cho các số sau: 43, 12, 91, 57, 40, 9, 90.

a, Khoanh vào số tròn chục

b, Xếp các số trên theo thứ tự giảm dần.

Câu 2. (3 điểm)

a, Đặt tính rồi tính:

$$5 + 12$$

$$4 + 50$$

$$89 - 13$$

$$67 - 37$$

b, Tính: $11 + 23 - 20 = \dots\dots\dots$

$55\text{cm} - 12\text{cm} + 10\text{cm} = \dots\dots\dots$

Câu 3. (2 điểm) Nhà Lan nuôi gà và ngỗng. Lan đếm thấy tất cả có 38 con, trong đó có 20 con gà. Hỏi nhà Lan nuôi bao nhiêu con ngỗng?

Câu 4. (1 điểm) Vẽ đoạn thẳng có độ dài 6cm.

ĐÁP ÁN ĐỀ SỐ 013

I. Trắc nghiệm

1.C 2.A 3.C

II. TỰ LUẬN

1) a) các số tròn chục là : 40; 90

b) Sắp xếp giảm dần: 91;90;57;43;40;12;9

Câu 2. a) Mỗi câu đặt tính đúng được điểm tối đa

$$5+12=17$$

$$4+50=54$$

$$89-13=76$$

$$67-37=30$$

Thầy giáo Hồ Khắc Vũ – GV dạy Toán cấp I-II. SĐT: 037.858.8250 TP Tam Kỳ - Quảng Nam
“Thành Công Có Duy Nhất Một Điểm Đến Nhưng Có Rất Nhiều Con Đường Để Đi”

b) Tính : $11+23-20=13$ $55\text{cm}-12\text{cm}+10\text{cm}=53\text{cm}$

Câu 3. Số con ngỗng nhà Lan có là: $38 - 20 = 18$ (con) Đáp số: 18 con

6 cm

Câu 4 

ĐỀ SỐ 014

Câu 1: Em hãy khoanh tròn vào chữ cái trước kết quả đúng: (1 điểm)

a). Số nào bé nhất trong các số sau: 72, 68, 80, 38 là:

A. 72 B. 68 C. 80 D. 38

b). Số lớn nhất trong các số sau: 79, 60, 81, 75 là:

A. 79 B. 60 C. 81 D. 75

Câu 2: Em hãy khoanh tròn vào chữ cái trước kết quả đúng: (1 điểm)

a) Kết quả phép tính sau: $15 + 2 - 1 = \dots\dots?$

A. 17 B. 16 C. 14 D. 15

b) Điền số vào chỗ chấm để có phép tính đúng: $79 = 70 + \dots\dots\dots$

A. 8 B. 7 C. 9 D. 6

Câu 3: Em hãy khoanh tròn vào chữ cái trước kết quả đúng: (1 điểm)

a) Số cần điền tiếp vào dãy số? 80, 82, 84,..... 88

A. 83 B. 85 C. 86 D. 87

b) khoanh vào chữ cái trước câu trả lời đúng: $43 + 3 \dots\dots\dots 43 - 3$

A. > B. < C. =

Câu 4: Em hãy khoanh tròn vào chữ cái trước kết quả đúng: (1 điểm)

a) Dựa vào tóm tắt tìm đáp án.

Có: 35 bạn

Tuyển Tập 55 Đề Thi Học Kỳ II Lớp 1 Năm học 2018-2019

Success has only one destination, but has a lot of ways to go

Thầy giáo Hồ Khắc Vũ – GV dạy Toán cấp I-II. SĐT: 037.858.8250 TP Tam Kỳ - Quảng Nam
“Thành Công Có Duy Nhất Một Điểm Đến Nhưng Có Rất Nhiều Con Đường Để Đi”

Nữ: 20 bạn

Nam: Bạn ?

A. 13

B. 14

C. 12

D. 15

Câu 5: Đặt tính rồi tính? (1 điểm)

a/ $35 + 12$

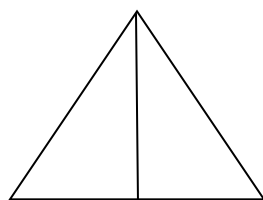
b/ $60 + 38$

c/ $50 + 2$

d/ $41 + 34$

.....
.....
.....
.....

Câu 6: Hình bên có mấy hình tam giác, ? (1 điểm)



Có hình tam giác.

Câu 7. Tính nhẩm? (1 điểm)

a/ $17 - 5 + 2 =$

b/ $16 - 2 + 1 =$

c/ $30\text{cm} + 10\text{cm} =$

d/ $17\text{cm} - 7\text{cm} =$

Câu 8: viết số 69 vào ô vuông thích hợp. (1 điểm)

a/

Chín mươi sáu

b/

sáu chín

c/

sáu mươi chín

Câu 9: Đọc chữ viết số, đọc số viết chữ: (1 điểm)

a/ Tám chục:

b/ 50:

c/ Sáu chục:

d/ 90:

Câu 10: giải toán có lời văn: (1 điểm)

Tuyển Tập 55 Đề Thi Học Kỳ II Lớp 1 Năm học 2018-2019

Success has only one destination, but has a lot of ways to go

Thầy giáo Hồ Khắc Vũ – GV dạy Toán cấp I-II. SĐT: 037.858.8250 TP Tam Kỳ - Quảng Nam
“Thành Công Có Duy Nhất Một Điểm Đến Nhưng Có Rất Nhiều Con Đường Để Đi”

Thành gấp được 12 máy bay, Tâm gấp được 14 máy bay. Hỏi cả hai bạn gấp được bao nhiêu máy bay?

Tóm tắt:

- Thành gấp được: 12 máy bay
- Tâm gấp được: 14 máy bay
- Cả hai bạn gấp được máy bay ?

Bài giải

ĐÁP ÁN ĐỀ SỐ 14

Câu	1	2	3	4	5	6	7	8	9
Ý đúng	C, d	b, c	a, c	d	a/ 47 ; b/ 98 ; c/ 52 ; d/ 75	3 hình	a/ 14 ; b/ 15 ; c/ 40cm ; d/ 10cm	c	a/ 80 ; b/ năm chục ; c/ 60 ; d/ chín chục

Câu 10 :

Bài giải

Số máy bay cả hai bạn gấp được là: 0.25

$$12 + 14 = 26 \text{ (máy bay)} \quad 0,5$$

$$\text{Đáp số} = 26 \text{ máy bay} \quad 0,25$$

ĐỀ SỐ 015

A. Hãy khoanh tròn vào chữ cái đặt trước kết quả đúng:

1. Số liền sau của số 79 là:

- A. 78 B. 80 C. 70 D. 81

2. Số lớn nhất có hai chữ số là:

- A. 9 B. 90 C. 99 D. 10

3. Số 55 đọc là:

- A. Năm mươi lăm B. Năm lăm C. Năm mươi năm.

4. Kết quả của phép tính: $14 + 3 - 7$ là:

- A. 17 B. 18 C. 24 D. 10

5. Số “Tám mươi ba” viết là:

- A. 38 B. 8 và 3 C. 83 D. 3 và 8.

6. Số lớn nhất có một chữ số cộng với số bé nhất có hai chữ số bằng:

- A. 19 B. 10 C. 99 D. 29

7. Dấu điền vào chỗ chấm của $47 \dots\dots\dots 40 + 7$ là:

- A. > B. < C. =

8. Một tuần lễ có mấy ngày:

- A. 5 ngày B. 6 ngày C. 7 ngày D. 24 ngày

9. Tổ em có 19 bạn, trong đó có 5 bạn nữ, hỏi tổ em có mấy bạn nam?

- A. 14 bạn B. 24 bạn C. 19 bạn

10. Lớp em có 21 bạn gái và 14 bạn trai. Hỏi lớp em có tất cả bao nhiêu bạn?

- A. 35 bạn B. 34 bạn C. 32 bạn

B. Tự luận:

Tuyên Tập 55 Đề Thi Học Kỳ II Lớp 1 Năm học 2018-2019

Success has only one destination, but has a lot of ways to go

Thầy giáo Hồ Khắc Vũ – GV dạy Toán cấp I-II. SĐT: 037.858.8250 TP Tam Kỳ - Quảng Nam
“Thành Công Có Duy Nhất Một Điểm Đến Nhưng Có Rất Nhiều Con Đường Để Đi”

.....

b) **Tính:** $40\text{ cm} + 16\text{ cm} = \dots\dots\dots$

$19\text{ cm} - 9\text{ cm} = \dots\dots\dots$

Bài 2: Viết các số: 34, 27, 91, 58.

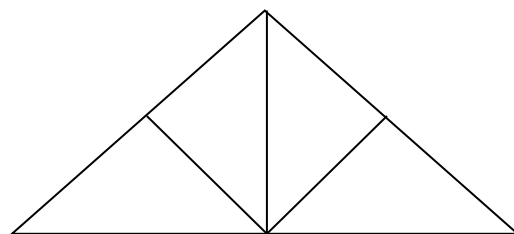
- Theo thứ tự từ bé đến lớn:

- Theo thứ tự từ lớn đến bé:

Bài 3: Viết số thích hợp vào chỗ chấm:

Trong hình vẽ bên có:

- a) hình vuông.
- b) hình tam giác.



Bài 4: Vườn nhà bà có 46 cây vải và nhãn, trong đó có 24 cây vải. Hỏi vườn nhà bà có bao nhiêu cây nhãn?

Bài giải:

Bài 5: Đồng hồ chỉ mấy giờ?

Thầy giáo Hồ Khắc Vũ – GV dạy Toán cấp I-II. SĐT: 037.858.8250 TP Tam Kỳ - Quảng Nam
“Thành Công Có Duy Nhất Một Điểm Đến Nhưng Có Rất Nhiều Con Đường Để Đi”



a) giờ
Bài 6: Số?

55	+		<	57
----	---	--	---	----



b) giờ

66	-		<	2
----	---	--	---	---

Bài 7: Số con dê trong sở thú là một số lớn nhất có hai chữ số giống nhau. Số dê đó là: con.

Bài 8: Cho 3 số: 22, 57, 35. Hãy viết 4 phép tính thích hợp từ 3 số đã cho.

ĐÁP ÁN ĐỀ SỐ 016

A. TRẮC NGHIỆM

1.B 2.C 3.A 4.D 5.C 6.A 7.C 8.C 9.A 10.A

B. TỰ LUẬN

1)a) Mỗi câu đặt tính đúng được điểm tối đa

62 + 23 = 85 25 + 41 = 66 87 - 5 = 82 78 - 23 = 55

b) Tính 40cm + 16cm = 56cm ; 19cm - 9cm = 10cm

Tuyển Tập 55 Đề Thi Học Kỳ II Lớp 1 Năm học 2018-2019
Success has only one destination, but has a lot of ways to go

Thầy giáo Hồ Khắc Vũ – GV dạy Toán cấp I-II. SĐT: 037.858.8250 TP Tam Kỳ - Quảng Nam
“Thành Công Có Duy Nhất Một Điểm Đến Nhưng Có Rất Nhiều Con Đường Để Đi”

Bài 2.

Từ bé đến lớn: 27;34;58;91 Từ lớn đến bé: 91;58;34;27

Bài 3. a) có 1 hình vuông b) có 7 hình tam giác

Bài 4. Số cây nhãn vườn nhà bà có là: $46 - 24 = 22$ (cây) Đáp số: 22 cây

Bài 5. a) 3 giờ b) 5 giờ

Bài 6. $55 + 1 < 57$ $66 - 65 < 2$

Bài 7. Số con dê là : 99 con

Bài 8 : $22 + 35 = 57$ $35 + 22 = 57$ $57 - 22 = 35$ $57 - 35 = 22$

ĐỀ SỐ 017

A. Hãy khoanh tròn vào chữ cái đặt trước kết quả đúng:

1. Số 89 gồm mấy chục và mấy đơn vị?

A. 9 chục và 8 đơn vị B. 8 chục và 9 đơn vị C. 8 và 9

2. $34\text{cm} + 5\text{cm} = ?$

A. 93cm B. 39 C. 84 D. 39cm

3. Dưới ao có 15 con vịt, trên bờ có 13 con vịt. Hỏi có tất cả bao nhiêu con vịt?

A. 22 con B. 26 con C. 28 con D. 19 con

4. Số liền trước của số nhỏ nhất có hai chữ số là số nào?

A. 10 B. 9 C. 11 D. 20

5. Số “Bốn mươi tư” viết là:

A. 40 B. 404 C. 04 D. 44.

6. $56 - 42 + 3 = :$

A. 23 B. 17 C. 14 D. 10

7. $20\text{cm} + 60\text{cm} - 50\text{cm} =$

A. 30 B. 80cm C. 30cm D. 40cm

8. Điền dấu thích hợp vào chỗ chấm: $35 - 4 \dots\dots\dots 11 + 20$.

A. > B. < C. =

9. Điền số vào chỗ chấm: $50 + \dots\dots\dots = 78$

A. 18 B. 28 C. 8 D. 23

10. Lan hái được 36 bông hoa cúc và hoa hồng. Trong đó số bông hoa hồng Lan hái được là 1 chục bông. Hỏi Lan hái được bao nhiêu bông hoa cúc?

Tuyển Tập 55 Đề Thi Học Kỳ II Lớp 1 Năm học 2018-2019

Success has only one destination, but has a lot of ways to go

Thầy giáo Hồ Khắc Vũ – GV dạy Toán cấp I-II. SĐT: 037.858.8250 TP Tam Kỳ - Quảng Nam
"Thành Công Có Duy Nhất Một Điểm Đến Nhưng Có Rất Nhiều Con Đường Để Đi"

A. 37 bông.

B. 35 bông

C. 26 bông

D. 16 bông

11. Hai anh em đi câu cá, Anh câu được 13 con cá, em câu được 12 con cá. Hỏi hai anh em câu được bao nhiêu con cá?

A. 15 con.

B. 25 con

C. 10 con

D. 5 con

B. Tự luận:

Bài 1: a) Đặt tính rồi tính:

$12 + 65$

$45 - 4$

$2 + 60$

$99 - 52$

.....

.....

.....

.....

.....

.....

.....

.....

.....

.....

.....

.....

b) Tính: $43 \text{ cm} + 16 \text{ cm} = \dots\dots\dots$

$79 \text{ cm} - 5 \text{ cm} = \dots\dots\dots$

Bài 2: Viết các số: 14, 67, 87, 23, 45.

- Theo thứ tự từ bé đến lớn:

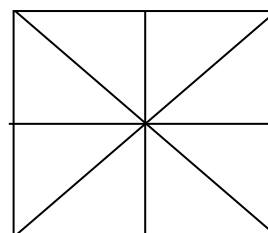
- Theo thứ tự từ lớn đến bé:

Bài 3: Viết số thích hợp vào chỗ chấm:

Trong hình vẽ bên có:

a) hình vuông.

b) hình tam giác.



Bài 4: Một cửa hàng có 85 chiếc xe đạp, cửa hàng đã bán được 3 chục chiếc. Hỏi cửa hàng còn lại bao nhiêu chiếc xe đạp?

Bài giải:

--	--	--	--	--	--	--	--	--	--	--	--	--	--	--	--

Tuyển Tập 55 Đề Thi Học Kỳ II Lớp 1 Năm học 2018-2019

Success has only one destination, but has a lot of ways to go

Thầy giáo Hồ Khắc Vũ – GV dạy Toán cấp I-II. SĐT: 037.858.8250 TP Tam Kỳ - Quảng Nam
“Thành Công Có Duy Nhất Một Điểm Đến Nhưng Có Rất Nhiều Con Đường Để Đi”

$12 + 65 = 77$

$45 - 4 = 41$

$2 + 60 = 62$

$99 - 52 = 47$

b) Tính : $43\text{cm} + 16\text{cm} = 59\text{cm}$; $79\text{cm} - 5\text{cm} = 74\text{cm}$

Bài 2.

Bé đến lớn: 14;23;45;67;87

lớn đến bé: 87;67;45;23;14

Bài 4. 3 chục = 30

Số chiếc xe đạp cửa hàng còn lại là: $85 - 30 = 55$ (chiếc)

Đáp số: 55 chiếc

Bài 5. a) $21 + 25 = 46$

b) Mẹ có 21 bông hoa , bà có 25 bông hoa. Hỏi cả bà và mẹ có bao nhiêu bông hoa ?

ĐỀ SỐ 018

A. Hãy khoanh tròn vào chữ cái đặt trước kết quả đúng:

1. Số liền sau của số 53 là:

A. 54

B. 52

C. 50

D. 55

2. Số bé nhất có hai chữ số là:

A. 9

B. 90

C. 99

D. 10

3. Số 65 đọc là:

A. Sáu mươi lăm

B. Sáu lăm

C. Sáu mươi năm.

4. Kết quả của phép tính: $26 + 3 - 7$ là:

A. 27

B. 28

C. 24

D. 22

5. Số “Chín mươi sáu” viết là:

A. 96

B. 9 và 6

C. 69

D. 6 và 9.

6. Số lớn nhất có một chữ số cộng với số bé nhất có hai chữ số bằng:

A. 19

B. 10

C. 99

D. 29

7. Dấu điền vào chỗ chấm của $47 \dots\dots 42 + 7$ là:

A. >

B. <

C. =

8. Một tuần lễ em đi học mấy ngày:

Tuyển Tập 55 Đề Thi Học Kỳ II Lớp 1 Năm học 2018-2019

Success has only one destination, but has a lot of ways to go

Thầy giáo Hồ Khắc Vũ – GV dạy Toán cấp I-II. SĐT: 037.858.8250 TP Tam Kỳ - Quảng Nam
“Thành Công Có Duy Nhất Một Điểm Đến Nhưng Có Rất Nhiều Con Đường Để Đi”

- A. 5 ngày B. 6 ngày C. 7 ngày D. 24 ngày

9. Tổ em có 19 bạn, trong đó có 11 bạn nữ, hỏi tổ em có mấy bạn nam?

- A. 8 bạn B. 8 bạn C. 30 bạn

10. Lớp em có 23 bạn gái và 14 bạn trai. Hỏi lớp em có tất cả bao nhiêu bạn?

- A. 37 bạn B. 31 bạn C. 54 bạn

B. Tự luận:

Bài 1: a) Đặt tính rồi tính:

65 + 23

54 + 41

87 – 15

78 – 7

.....

.....

.....

.....

.....

.....

.....

.....

.....

.....

.....

.....

b) **Tính:** 44 cm + 14 cm =

69 cm – 5 cm =

Bài 2: Viết các số: 36, 25, 27, 72.

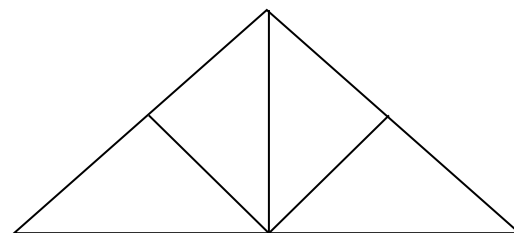
- Theo thứ tự từ bé đến lớn:

- Theo thứ tự từ lớn đến bé:

Bài 3: Viết số thích hợp vào chỗ chấm:

Trong hình vẽ bên có:

- a) hình vuông.
 b) hình tam giác.



Bài 4: Lan có sợi dây dài 75 cm, Lan cắt đi 41 cm. Hỏi sợi dây còn lại bao nhiêu xăng-ti-mét?

Bài giải:

Tuyển Tập 55 Đề Thi Học Kỳ II Lớp 1 Năm học 2018-2019

Success has only one destination, but has a lot of ways to go

Thầy giáo Hồ Khắc Vũ – GV dạy Toán cấp I-II. SĐT: 037.858.8250 TP Tam Kỳ - Quảng Nam
“Thành Công Có Duy Nhất Một Điểm Đến Nhưng Có Rất Nhiều Con Đường Để Đi”

Bài 5: Trên sân có 35 con gà và hai chục con vịt. Hỏi trên sân có tất cả bao nhiêu con gà và vịt?

Bài giải:

6. Bài 6: +, -?

70		13	=	83
----	--	----	---	----

32		21	=	11
----	--	----	---	----

ĐÁP ÁN ĐỀ SỐ 18

A. TRẮC NGHIỆM

- 1.A 2.D 3.A 4.D 5.A 6.A 7.B 8A 9B 10.A

Tuyển Tập 55 Đề Thi Học Kỳ II Lớp 1 Năm học 2018-2019
Success has only one destination, but has a lot of ways to go

Thầy giáo Hồ Khắc Vũ – GV dạy Toán cấp I-II. SĐT: 037.858.8250 TP Tam Kỳ - Quảng Nam
“Thành Công Có Duy Nhất Một Điểm Đến Nhưng Có Rất Nhiều Con Đường Để Đi”
B.TỰ LUẬN

1a) Học sinh đặt tính đúng được điểm tối đa

$$65 + 23 = 89$$

$$54 + 41 = 95$$

$$87 - 15 = 72$$

$$78 - 7 = 71$$

b) Tính : $44\text{cm} + 14\text{cm} = 58\text{cm}$

$69\text{cm} - 5\text{cm} = 64\text{cm}$

2) Từ bé đến lớn : 25; 27; 36; 72

Từ lớn đến bé: 72; 36; 27; 25

3) a) có 1 hình vuông ; b) có 7 hình tam giác

4) Số xăng ti mét sợi dây còn lại là : $75 - 41 = 34$ (con)

Đáp số : 34 con.

5) 2 chục = 20 .

Số con gà và vịt trên sân có tất cả là : $35 + 20 = 55$ (con)

Đáp số: 55 con.

6) $70 + 13 = 83$

$32 - 21 = 11$

ĐỀ SỐ 019

A. Hãy khoanh tròn vào chữ cái đặt trước kết quả đúng:

1. Số liền sau của số 79 là:

A. 78

B. 80

C. 70

D. 81

2. Số lớn nhất có hai chữ số tròn chục là:

A. 10

B. 90

C. 99

D. 98

3. Số 75 đọc là:

A. Bảy mươi lăm

B. Bảy lăm

C. Bảy mươi năm.

4. Kết quả của phép tính: $24 + 13 - 6$ là:

A. 31

B. 43

C. 33

D. 30

5. Số “Hai mươi chín” viết là:

A. 29

B. 2 và 9

C. 92

D. 9 và 2.

6. Số lớn nhất có hai chữ số khác nhau trừ đi số bé nhất có hai chữ số giống nhau bằng:

A. 87

B. 88

C. 89

D. 99

7. Dấu điền vào chỗ chấm của $86 \dots\dots 40 + 53$ là:

A. >

B. <

C. =

Tuyển Tập 55 Đề Thi Học Kỳ II Lớp 1 Năm học 2018-2019

Success has only one destination, but has a lot of ways to go

Thầy giáo Hồ Khắc Vũ – GV dạy Toán cấp I-II. SĐT: 037.858.8250 TP Tam Kỳ - Quảng Nam
“Thành Công Có Duy Nhất Một Điểm Đến Nhưng Có Rất Nhiều Con Đường Để Đi”

8. Một tuần lễ được nghỉ mấy ngày:

A. 5 ngày

B. 2 ngày

C. 6 ngày

D. 7 ngày

9. Lớp 1A, 1B và 1C có 39 bạn nam, trong đó lớp 1A có 12 bạn nam, lớp 1C có 14 bạn nam, hỏi lớp 1B có bao nhiêu bạn nam?

A. 13 bạn

B. 26 bạn

C. 27 bạn

10. Cho các số: 89, 98, 79, 87, 97. Số lớn nhất trong các số đó là:

A. 89

B. 98

C. 97

D. 87

B. Tự luận:

Bài 1: a) Đặt tính rồi tính:

$65 + 23$

$67 - 41$

$57 - 5$

$52 - 22$

.....

.....

.....

.....

.....

.....

.....

.....

.....

.....

.....

.....

b) Tính: $43 \text{ cm} + 16 \text{ cm} = \dots\dots\dots$

$79 \text{ cm} - 23 \text{ cm} = \dots\dots\dots$

Bài 2: Viết các số: 34, 27, 91, 58, 54.

- Theo thứ tự từ bé đến lớn:

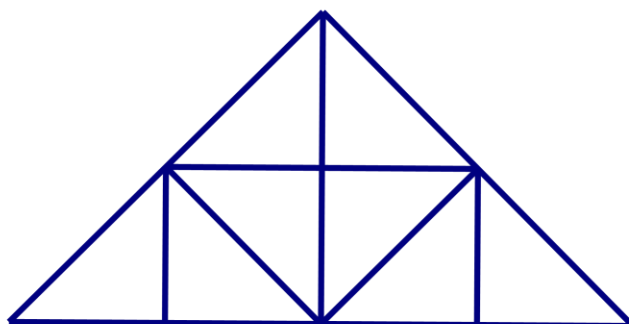
- Theo thứ tự từ lớn đến bé:

Bài 3: Viết số thích hợp vào chỗ chấm:

Trong hình vẽ bên có:

a) hình vuông.

b) hình tam giác.



Tuyển Tập 55 Đề Thi Học Kỳ II Lớp 1 Năm học 2018-2019

Success has only one destination, but has a lot of ways to go

Thầy giáo Hồ Khắc Vũ – GV dạy Toán cấp I-II. SĐT: 037.858.8250 TP Tam Kỳ - Quảng Nam
“Thành Công Có Duy Nhất Một Điểm Đến Nhưng Có Rất Nhiều Con Đường Để Đi”
 Bài 4: Vườn nhà bà có 48 cây vải và nhãn, trong đó có 22 cây vải. Hỏi vườn nhà bà có bao nhiêu cây nhãn?

Bài giải:

Bài 5: Vẽ thêm kim đồng hồ để đồng hồ chỉ:



8 giờ



4 giờ

Bài 6: Số?

45	+		<	46
----	---	--	---	----

66	-		>	65
----	---	--	---	----

Bài 7: Số con gà bà nuôi là một số lớn nhất có hai chữ số trừ đi số bé nhất có hai chữ số. Số gà đó là: con.

Bài 8: Cho 3 số: 22, 57, 35. Hãy viết 4 phép tính thích hợp từ 3 số đã cho.

Tuyển Tập 55 Đề Thi Học Kỳ II Lớp 1 Năm học 2018-2019

Success has only one destination, but has a lot of ways to go

ĐÁP ÁN ĐỀ SỐ 19

A. TRẮC NGHIỆM

1B 2B 3A 4A 5A 6A 7B 8B 9A 10B

B. TỰ LUẬN

1)a) Mỗi câu đặt tính đúng được điểm tối đa

$$65 + 23 = 88$$

$$67 - 41 = 26$$

$$57 - 5 = 52$$

$$52 - 22 = 30$$

b) Tính: $43\text{cm} + 16\text{cm} = 59\text{cm}$

$$79\text{cm} - 23\text{cm} = 56\text{cm}$$

2) Từ bé đến lớn: 27;34;54;58;91 từ lớn đến bé: 91;58;54;34;27

3) Trong hình có 3 hình vuông, 17 hình tam giác

4) Số cây nhãn vườn nhà bà có là : $48 - 22 = 26$ (cây) Đáp số: 26 cây.

5) Học sinh tự vẽ

a) Kim ngắn số 8, kim dài số 12

b) Kim ngắn số 4, kim dài số 12

6) $45 + 0 < 46$

$$66 - 0 > 65$$

7) 89 con

8)

$$22 + 35 = 57$$

$$57 - 22 = 35$$

$$35 + 22 = 57$$

$$57 - 35 = 22$$

ĐỀ SỐ 020

A. Hãy khoanh tròn vào chữ cái đặt trước kết quả đúng:

1. Số 78 gồm mấy chục và mấy đơn vị?

Tuyển Tập 55 Đề Thi Học Kỳ II Lớp 1 Năm học 2018-2019

Success has only one destination, but has a lot of ways to go

Thầy giáo Hồ Khắc Vũ – GV dạy Toán cấp I-II. SĐT: 037.858.8250 TP Tam Kỳ - Quảng Nam
“Thành Công Có Duy Nhất Một Điểm Đến Nhưng Có Rất Nhiều Con Đường Để Đi”

- A. 7 chục và 8 đơn vị B. 8 chục và 7 đơn vị C. 7 và 8
2. $35\text{ cm} + 3\text{ cm} = ?$
A. 65cm B. 38 C. 65 cm D. 38 cm
3. Dưới ao có 26 con vịt, trên bờ có 13 con vịt. Hỏi có tất cả bao nhiêu con vịt?
A. 14 con B. 26 con C. 13 con D. 39 con
4. Số liền trước của số nhỏ nhất có hai chữ số giống nhau là số nào?
A. 10 B. 9 C. 11 D. 99
5. Số “Bốn mươi tư” viết là:
A. 40 B. 404 C. 04 D. 44.
6. $33 + 42 - 3 =$
A. 72 B. 27 C. 45 D. 42
7. $45\text{ cm} + 52\text{ cm} - 23\text{ cm} =$
A. 65 B. 74cm C. 77cm D. 72 cm
8. Điền dấu thích hợp vào chỗ chấm: $35 + 4 \dots\dots\dots 21 + 18$.
A. > B. < C. =
9. Điền số vào chỗ chấm: $52 + \dots\dots\dots = 78$
A. 18 B. 28 C. 8 D. 26
10. Lan hái được 36 bông hoa cúc và hoa hồng. Trong đó số bông hoa hồng Lan hái được là 2 chục bông. Hỏi Lan hái được bao nhiêu bông hoa cúc?
A. 16 bông. B. 56 bông C. 34 bông D. 38 bông
11. Hai anh em đi câu được 35 con cá, em câu được 12 con cá. Hỏi anh câu được bao nhiêu con cá?
A. 32 con. B. 47 con C. 23 con D. 41 con

B. Tự luận:

Bài 1: a) Đặt tính rồi tính:

15 + 64	45 - 3	22 + 60	99 - 57
.....
.....
.....
.....

b) Tính: $45\text{ cm} + 12\text{ cm} = \dots\dots\dots$ $79\text{ cm} - 52\text{ cm} = \dots\dots\dots$

Tuyển Tập 55 Đề Thi Học Kỳ II Lớp 1 Năm học 2018-2019

Success has only one destination, but has a lot of ways to go

Thầy giáo Hồ Khắc Vũ – GV dạy Toán cấp I-II. SĐT: 037.858.8250 TP Tam Kỳ - Quảng Nam
“Thành Công Có Duy Nhất Một Điểm Đến Nhưng Có Rất Nhiều Con Đường Để Đi”
 Bài 2: Viết các số: 22, 27, 72, 69, 96.

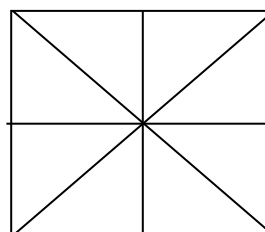
- Theo thứ tự từ bé đến lớn:

- Theo thứ tự từ lớn đến bé:

Bài 3: Viết số thích hợp vào chỗ chấm:

Trong hình vẽ bên có:

- a) hình vuông.
- b) hình tam giác.



Bài 4: Sau khi bán được 3 chục chiếc xe đạp cửa hàng còn 24 chiếc. Hỏi cửa hàng có tất cả bao nhiêu chiếc xe đạp?

Bài giải:

Bài 5: a. Viết dấu và số thích hợp để có phép tính đúng?

			=	35
--	--	--	---	----

b. Nêu đề toán phù hợp với phép tính trên.

ĐÁP ÁN ĐỀ SỐ 020

A. TRẮC NGHIỆM

1.A 2.D 3.D 4.A 5.D 6.A 7.B 8.C 9.D 10.A 11.C

B.TỰ LUẬN

1)a) Học sinh đặt tính đúng được điểm tối đa

$15 + 64 = 79$ $45 - 3 = 42$ $22 + 60 = 82$ $99 - 57 = 42$

b) Tính: $45\text{ cm} + 12\text{ cm} = 57\text{ cm}$ $79\text{ cm} - 52\text{ cm} = 27\text{ cm}$

Bài 2. Từ bé đến lớn: 22; 27; 69; 72; 96 Từ lớn đến bé: 96; 72; 69; 27; 22

Bài 3. a) có 5 hình vuông ; b) có 16 hình tam giác

Bài 4. 3 chục = 30

Số xe đạp cửa hàng có tất cả là : $24 + 30 = 54$ (chiếc) Đáp số: 54 chiếc

Bài 5 a) $12 + 23 = 35$

b) bài toán: An có 12 cây kẹo, Bảo có 23 cây kẹo. Hỏi cả 2 bạn có bao nhiêu cái kẹo ?

ĐỀ SỐ 021

Câu 1. (0,5 điểm) Số liền sau của 25 là số nào? Khoanh vào đáp án đúng:

A. 24 B. 26 C. 34

Câu 2. (0.5 điểm) Điền số thích hợp vào chỗ chấm:

$22 + 50 = \dots\dots\dots$ $\dots\dots\dots + 18 = 39$

Câu 3. (0,5 điểm) Một tuần lễ có mấy ngày? Khoanh vào đáp án đúng:

A. 5 ngày B. 6 ngày C. 7 ngày D. 8 ngày

Câu 4: (0,5 điểm) Tính

$12 + 12 = \dots\dots\dots$

$25 + 11 = \dots\dots\dots$

$91 - 20 = \dots\dots\dots$

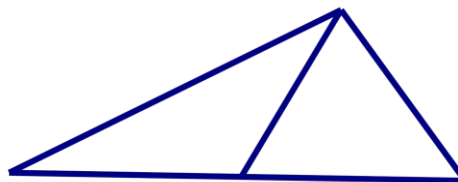
$8 \text{ chục} - 30 = \dots\dots\dots$

Câu 5. (1 điểm)

Điền số thích hợp vào chỗ chấm:

Hình bên có. ...hình tam giác

và đoạn thẳng.



Câu 6. (1 điểm) Đúng ghi Đ, sai ghi S:

<input type="checkbox"/>
<input type="checkbox"/>
<input type="checkbox"/>
<input type="checkbox"/>

a) $24 + 24 = 84$

b) $78 - 15 - 11 = 52$

c) An cao hơn Hùng, Hùng cao hơn Tuấn, vậy An cao nhất.

d) 1 con gà và 3 con vịt có 4 cái chân.

Câu 7. (2 điểm) Đặt tính rồi tính:

$30 + 40$

$99 - 9$

$14 + 3$

$60 - 30$

.....

.....

.....

.....

Câu 8. (2 điểm) Giải bài toán sau:

Lớp 1A vẽ được 32 bức tranh, lớp 1B vẽ được 23 bức tranh. Hỏi cả hai lớp vẽ được bao nhiêu bức tranh?

Câu 9. (1 điểm) +, - ?

$$99 \dots 13 = 86$$

$$51 \dots 23 = 74$$

Câu 10. (1 điểm)

a) Hoa có 39 con tem, Hoa cho bạn Mai 4 con tem, cho bạn Linh 13 con tem. Hỏi Hoa còn bao nhiêu con tem?

Trả lời: Hoa còn con tem

b) Điền số thích hợp vào chỗ chấm:

$$14 + 4 - 6 < 15 - \dots + 2 < 18 - 6 + 2$$

ĐÁP ÁN ĐỀ SỐ 021

1.B 2. $22 + 50 = 72$; $21 + 18 = 39$ **3.C**

4. $12 + 12 = 24$ $25 + 11 = 36$ $91 - 20 = 71$ 8 chục - 30 = 50

Câu 5. Hình bên có 3 tam giác và 6 đoạn thẳng

Câu 6. a) S b) Đ c) Đ d) S

Câu 7. Mỗi câu đặt tính đúng được 0,5 đ

$30 + 40 = 70$ $99 - 9 = 90$ $14 + 3 = 17$ $60 - 30 = 30$

Câu 8. Số bức tranh 2 lớp vẽ được là : $32 + 23 = 55$ (bức tranh) Đáp số: 55 bức tranh.

Câu 9. $99 - 13 - 86$; $51 + 23 = 74$

Câu 10. a) Hoa còn 22 con tem

b) $14 + 4 - 6 < 15 - 4 + 2 < 18 - 6 + 2$

ĐỀ SỐ 022

Tuyển Tập 55 Đề Thi Học Kỳ II Lớp 1 Năm học 2018-2019

Success has only one destination, but has a lot of ways to go

Thầy giáo Hồ Khắc Vũ – GV dạy Toán cấp I-II. SĐT: 037.858.8250 TP Tam Kỳ - Quảng Nam
“Thành Công Có Duy Nhất Một Điểm Đến Nhưng Có Rất Nhiều Con Đường Để Đi”

Bài 1: a) Viết số thích hợp vào chỗ chấm:

67; 68; 69;;;; ; 74;;
.....;; 90; 91; 92;;;;;;;; 100.

b) Viết các số:

Hai mươi ba:; Năm mươi tư:; Bảy mươi một:;
Tám mươi lăm:; Sáu mươi chín:; Một trăm:

Bài 2: a) Viết các số 70; 50; 75; 82;

Theo thứ tự từ lớn đến bé:

b) Viết các số: 97; 88; 77; 48

Theo thứ tự từ bé đến lớn:

Bài 3: Viết số thích hợp vào ô trống:

$$\begin{array}{cc} \square + 24 = 24 & 35 - \square = 35 \\ 30 + \square < 32 & 15 + \square > 25 \end{array}$$

Bài 4: Đặt tính rồi tính:

46 + 20	43 + 34	85 – 42	98 – 48
.....
.....
.....

Thầy giáo Hồ Khắc Vũ – GV dạy Toán cấp I-II. SĐT: 037.858.8250 TP Tam Kỳ - Quảng Nam
“Thành Công Có Duy Nhất Một Điểm Đến Nhưng Có Rất Nhiều Con Đường Để Đi”

Bài 5: Tính:

a) $11 + 4 - 5 = \dots\dots$; $24 + 5 - 9 = \dots\dots$

b) $24 \text{ cm} - 4 \text{ cm} + 30 \text{ cm} = \dots\dots\dots$; $30 \text{ cm} + 7 \text{ cm} - 37 \text{ cm} = \dots\dots\dots$

Bài 6: Nhà em nuôi 23 con gà và 15 con vịt. Hỏi nhà em có tất cả bao nhiêu con gà và con vịt?

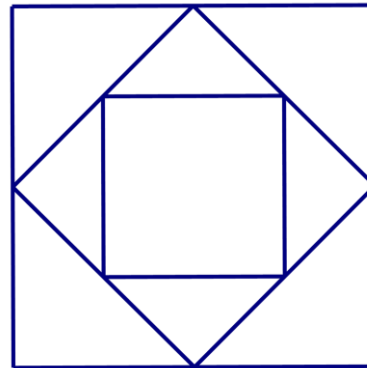
Bài giải

.....
.....
.....

Bài 7: Viết số thích hợp vào chỗ chấm:

Hình bên có:

- hình tam giác.
- hình vuông.



ĐÁP ÁN ĐỀ SỐ 022

1) a) 67; 68; 69; 70; 71; 72; 73; 74; 75
88; 89;;;; 93; 94; 95; 96; 97; 98; 99;

b) Viết các số:

hai mươi ba : 23 Năm mươi tư: 54 Bảy mươi một: 71

Tuyển Tập 55 Đề Thi Học Kỳ II Lớp 1 Năm học 2018-2019

Success has only one destination, but has a lot of ways to go

Thầy giáo Hồ Khắc Vũ – GV dạy Toán cấp I-II. SĐT: 037.858.8250 TP Tam Kỳ - Quảng Nam
“Thành Công Có Duy Nhất Một Điểm Đến Nhưng Có Rất Nhiều Con Đường Để Đi”

Tám mươi lăm: 85 Sáu mươi chín: 69 Một trăm: 100

2) a) lớn đến bé: 82;75;70;50 b) bé đến lớn: 48;77;88;97

3) $0+24=24$ $35-0=35$ $30+1<32$ $15+20>25$

Bài 4. Mỗi câu đặt tính đúng được điểm tối đa

$46+20=66$ $43+34=77$ $85-42=43$ $98-48=50$

Bài 5. a) $11+4-5=10$; $24+5-9=20$

b) $24\text{cm}-4\text{cm}+30\text{cm}=50\text{cm}$; $24+5-9=20$

Bài 6. Số con gà và vịt nhà em nuôi tất cả là: $23+15=38(\text{con})$ Đáp số: 38 con.

Bài 7. Có 8 hình tam giác , có 3 hình vuông .

ĐỀ SỐ 023

A\ Trắc nghiệm

Khoanh vào chữ cái có đáp án đúng nhất

Câu 1: Số lớn nhất có hai chữ số

a) 89 b) 99 c) 100

Câu 2 : Đúng ghi Đ, sai ghi S

a	$\begin{array}{r} 75 \\ - 5 \\ \hline \end{array}$	b	$\begin{array}{r} 75 \\ - 5 \\ \hline \end{array}$	c	$\begin{array}{r} 75 \\ - 5 \\ \hline \end{array}$
	70		75		25

Tuyển Tập 55 Đề Thi Học Kỳ II Lớp 1 Năm học 2018-2019

Success has only one destination, but has a lot of ways to go

Câu 3 : 1 tuần lễ có mấy ngày ?

- a) 6 ngày
- b) 7 ngày
- c) 8 ngày

Câu 4 : Số liền trước của 99 là:

- a) 89
- b) 98
- c) 100

B\ Bài tập

Câu 1 : Tính

a) $\begin{array}{r} 63 \\ + \\ 25 \\ \hline \end{array}$	b) $\begin{array}{r} 31 \\ + \\ 6 \\ \hline \end{array}$	c) $\begin{array}{r} 62 \\ - \\ 62 \\ \hline \end{array}$	d) $\begin{array}{r} 94 \\ - \\ 34 \\ \hline \end{array}$
---	--	---	---

Câu 2 : Điền dấu >, <, =

$30 + 4$ ___ 44 $45 + 5$ ___ $3 + 45$ 55 ___ $50 + 4$

Câu 3 : Cho các số 25, 52, 35, 75 xếp các số theo thứ tự :

- a) Từ lớn đến bé :
- b) Từ bé đến lớn :

Câu 4 : Trong sân bay có 25 chiếc máy bay, đã có 5 chiếc máy bay cất cánh. Hỏi trong sân bay còn lại mấy chiếc máy bay ?

ĐÁP ÁN ĐỀ SỐ 023

A. TRẮC NGHIỆM

Tuyển Tập 55 Đề Thi Học Kỳ II Lớp 1 Năm học 2018-2019

Success has only one destination, but has a lot of ways to go

Thầy giáo Hồ Khắc Vũ – GV dạy Toán cấp I-II. SĐT: 037.858.8250 TP Tam Kỳ - Quảng Nam
“Thành Công Có Duy Nhất Một Điểm Đến Nhưng Có Rất Nhiều Con Đường Để Đi”

1. a) B 2) a) Đ b. S c. S 3B 4.B

B.BÀI TẬP

1) a) $63 + 25 = 88$ b) $31 + 6 = 37$ c) $62 - 62 = 0$ d) $94 - 34 = 60$

2) $30 + 4 < 44$ $45 + 5 > 3 + 45$ $55 > 50 + 4$

Câu 3. a) Từ lớn đến bé: 75;52;35;25 b) Từ bé đến lớn: 25;35;52;75

Câu 4. Số chiếc máy bay sân bay còn lại là : $25 - 5 = 20$ (chiếc) Đáp số: 20 chiếc

ĐỀ SỐ 024

I. Trắc nghiệm (3 điểm)

Khoanh vào đáp án đúng

1. Số liền trước và số liền sau của số 17 là:

a, 15 và 16 b, 15 và 18 c, 16 và 18 d, 15 và 17

2. Số gồm 8 chục và 2 đơn vị là:

a, 28 b, 92 c, 82 d, 80

3. Phép cộng $19 + 9$ có kết quả bằng:

a, 18 b, 29 c, 28 d, 39

II. Tự luận (7 điểm)

Bài 1: Đặt tính rồi tính (4 điểm)

a, $38 + 7$ b, $54 - 8$ c, $72 - 3$ d, $28 + 6$

.....

Tuyển Tập 55 Đề Thi Học Kỳ II Lớp 1 Năm học 2018-2019

Success has only one destination, but has a lot of ways to go

Thầy giáo Hồ Khắc Vũ – GV dạy Toán cấp I-II. SĐT: 037.858.8250 TP Tam Kỳ - Quảng Nam
“Thành Công Có Duy Nhất Một Điểm Đến Nhưng Có Rất Nhiều Con Đường Để Đi”

.....
.....

Bài 2: Nối phép tính với kết quả đúng: (2 điểm)

17 - 9
34 + 7
77 - 9
29 + 6

68
35
8
41

Bài 3: Đúng ghi Đ, sai ghi S vào ô trống: (2 điểm)

a, $39 + 23 = 52$

b, $43 - 5 = 48$

c, $12 + 23 = 45$

d, $26 - 9 = 15$

ĐÁP ÁN ĐỀ SỐ 024

I. Trắc nghiệm 1.a)C 2)C 3)C

II. Tự luận

Tuyển Tập 55 Đề Thi Học Kỳ II Lớp 1 Năm học 2018-2019

Success has only one destination, but has a lot of ways to go

Thầy giáo Hồ Khắc Vũ – GV dạy Toán cấp I-II. SĐT: 037.858.8250 TP Tam Kỳ - Quảng Nam
“Thành Công Có Duy Nhất Một Điểm Đến Nhưng Có Rất Nhiều Con Đường Để Đi”

1) a) $38+7=45$ b) $54-8=46$ c) $72-3=69$ d) $28+6=34$

2) Nối: $17-9=8$ $34+7=41$ $77-9=68$ $29+6=35$

3 a) S b) S c) S d) S

ĐỀ SỐ 025

BÀI 1 : Viết số (2điểm)

a) Viết các số từ 89 đến 100:

.....

b) Viết số vào chỗ chấm:

Số liền trước của 99 là ; 70 gồm chục và đơn vị

Số liền sau của 99 là ; 81 gồm chục và đơn vị

BÀI 2 : (3điểm)

a) Tính nhẩm : $3 + 36 = \dots\dots\dots$; $45 - 20 = \dots\dots\dots$; $50 + 37 = \dots\dots\dots$; $99 - 9 = \dots\dots\dots$

b) Đặt tính rồi tính :

$$51 + 27$$

$$78 - 36$$

.....

.....

.....

.....

.....

.....

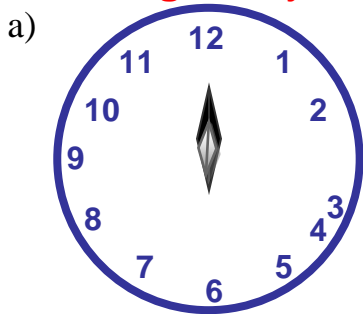
c) Tính :

$17 + 14 - 14 = \dots\dots\dots$; $38 \text{ cm} - 10\text{cm} = \dots\dots\dots$

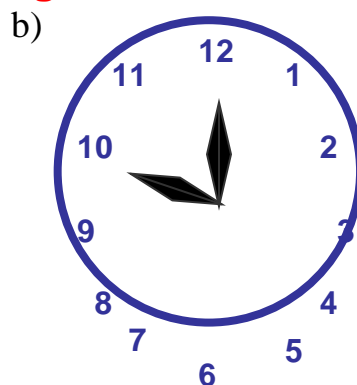
BÀI 3 : Đồng hồ chỉ mấy giờ ? (1điểm)

Tuyển Tập 55 Đề Thi Học Kỳ II Lớp 1 Năm học 2018-2019

Success has only one destination, but has a lot of ways to go



..... giờ



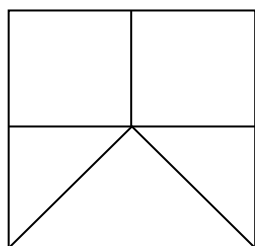
..... giờ

BÀI 4 :

>
<
=

 79 74 ; 56 50 + 6
 (1điểm) 60 95 ; 32 - 2 32 + 2

BÀI 5 : (1điểm)



Hình vẽ bên có : hình tam giác
 hình vuông

BÀI 6 : Trong vườn nhà em có 26 cây cam và cây bưởi, trong đó có 15 cây cam. Hỏi trong vườn nhà em có bao nhiêu cây bưởi ?

Giải

.....

ĐÁP ÁN ĐỀ SỐ 025

BÀI 1 : Viết số (2điểm)

a) Viết các số từ 89 đến 100:

89;90;91;92;93;94;95;96;97;98;99;100 Viết số vào chỗ chấm:

Số liền trước của 99 là 98 ; 70 gồm 7 chục và 0 đơn vị

Số liền sau của 99 là 100 ; 81 gồm 8 chục và 1 đơn vị

2) a) $3+36=39$ $45-20=25$ $50+37=87$ $99-9=90$

b) $51+27=78$ $78-36=42$

c) $17+14-14=17$ $38cm-10cm=28cm$

3) a) 6 giờ b) 10 giờ

4) > ; = ; <

$79 > 74$ $56 = 50 + 6$ $60 < 95$ $32 - 2 < 32 + 2$

Bài 5. Hình bên có: 3 hình tam giác, 3 hình vuông

Bài 6. Số cây bưởi vườn nhà em có là : $26 - 15 = 11$ (cây) Đáp số: 11 cây.

ĐỀ SỐ 026

1. Đặt tính rồi tính :

$56 + 43$

$79 - 2$

$4 + 82$

$65 - 23$

.....
.....
.....

2. Tính : $40 + 20 - 40 = \dots\dots\dots$; $38 - 8 + 7 = \dots\dots\dots$

$55 - 10 + 4 = \dots\dots\dots$; $25 + 12 + 2 = \dots\dots\dots$

Thầy giáo Hồ Khắc Vũ – GV dạy Toán cấp I-II. SĐT: 037.858.8250 TP Tam Kỳ - Quảng Nam
“Thành Công Có Duy Nhất Một Điểm Đến Nhưng Có Rất Nhiều Con Đường Để Đi”

$25\text{cm} + 14\text{cm} = \dots\dots\dots$; $56\text{cm} - 6\text{cm} + 7\text{cm} = \dots\dots\dots$

$48\text{ cm} + 21\text{cm} = \dots\dots\dots$; $74\text{cm} - 4\text{cm} + 3\text{cm} = \dots\dots\dots$

3. Nam có 36 viên bi gồm bi xanh và bi đỏ, trong đó có 14 viên bi xanh. Hỏi Nam có mấy viên bi đỏ ? Giải

.....
.....
.....

4. Một cửa hàng có 95 quyển vở , cửa hàng đã bán 40 quyển vở . Hỏi cửa hàng còn lại bao nhiêu quyển vở ? Giải

.....
.....
.....

5 Một quyển sách có 65 trang, Lan đã đọc hết 35 trang. Hỏi Lan còn phải đọc bao nhiêu trang nữa thì hết quyển sách ? Giải

.....
.....
.....

Thầy giáo Hồ Khắc Vũ – GV dạy Toán cấp I-II. SĐT: 037.858.8250 TP Tam Kỳ - Quảng Nam
“Thành Công Có Duy Nhất Một Điểm Đến Nhưng Có Rất Nhiều Con Đường Để Đi”
ĐÁP ÁN ĐỀ SỐ 026

1) Mỗi câu đặt tính đúng được điểm tối đa

$56 + 43 = 99$

$79 - 2 = 77$

$4 + 82 = 86$

$65 - 23 = 42$

2) Tính:

$40 + 20 - 40 = 20$

$38 - 8 + 7 = 37$

$55 - 10 + 4 = 49$

$25 + 12 + 2 = 39$

$25\text{ cm} + 14\text{ cm} = 39\text{ cm}$

$56\text{ cm} - 6\text{ cm} + 7\text{ cm} = 57\text{ cm}$

$48\text{ cm} + 21\text{ cm} = 69\text{ cm}$

$74\text{ cm} - 4\text{ cm} + 3\text{ cm} = 73\text{ cm}$

3) Số viên bi đỏ Nam có là: $36 - 14 = 22$ (viên bi)

Đáp số: 22 viên bi

4) Số quyển vở cửa hàng còn lại là: $95 - 40 = 55$ (quyển vở)

Đáp số: 55 quyển vở

5) Số trang sách Lan còn phải đọc là: $65 - 35 = 30$ (trang)

Đáp số: 30 trang.

ĐỀ SỐ 027

1. a) Viết các số Bốn mươi lăm : ; Năm mươi tư :

b) Đọc số và viết thành chữ 69 : ; 100 :

c) Khoanh tròn số bé nhất : 61 ; 38 ; 41 ; 90

d) Viết các số 19 ; 81 ; 74 ; 36 theo thứ tự từ lớn đến bé :

.....

2. a) Nối số với phép tính thích hợp :

80

60

40

20

$84 - 4$

$40 - 20$

$40 + 20$

$30 + 10$

Tuyển Tập 55 Đề Thi Học Kỳ II Lớp 1 Năm học 2018-2019

Success has only one destination, but has a lot of ways to go

b) Đặt tính rồi tính :

$63 + 32$

$88 - 25$

$72 + 16$

$49 - 39$

.....
.....
.....

c) Tính : $35 + 40 - 5 = \dots\dots\dots$; $94 - 3 + 5 = \dots\dots\dots$

$60\text{cm} + 5\text{cm} = \dots\dots\dots$; $60\text{cm} - 40\text{cm} = \dots\dots\dots$

3. Mẹ mua 20 quả trứng , sau đó mẹ mua thêm 1 chục quả trứng nữa .Hỏi mẹ mua tất cả bao nhiêu quả trứng ?

Bài giải

.....
.....

ĐÁP ÁN ĐỀ SỐ 027

1) a) Bốn mươi lăm: 45 ; Năm mươi tư: 54

b) 69: sáu mươi chín ; 100: Một trăm

c) Số bé nhất: 38

d) Từ lớn đến bé: 81;74;36;19

Bài 2.

a) $84 - 4 = 80$ $40 - 20 = 20$ $40 + 20 = 60$ $30 + 10 = 40$

2b) Mỗi câu đặt tính đúng được điểm tối đa

$63 + 32 = 95$

$88 - 25 = 63$

$72 + 16 = 88$

$49 - 39 = 10$

2c) Tính:

Tuyển Tập 55 Đề Thi Học Kỳ II Lớp 1 Năm học 2018-2019

Success has only one destination, but has a lot of ways to go

Thầy giáo Hồ Khắc Vũ – GV dạy Toán cấp I-II. SĐT: 037.858.8250 TP Tam Kỳ - Quảng Nam
“Thành Công Có Duy Nhất Một Điểm Đến Nhưng Có Rất Nhiều Con Đường Để Đi”

$$35 + 40 - 5 = 70$$

$$94 - 3 + 5 = 96$$

$$60 \text{ cm} + 5 \text{ cm} = 65 \text{ cm}$$

$$60 \text{ cm} - 40 \text{ cm} = 20 \text{ cm}$$

3) 1 chục = 10

Số quả trứng mẹ mua tất cả là : $20 + 10 = 30$ quả

Đáp số: 30 quả

ĐỀ SỐ 028

1. a) Viết các số Năm mươi : ; Ba mươi một :

b) Đọc số : 78 : ; 99 :

c) Khoanh tròn số lớn nhất : 76 ; 67 ; 91 ; 89

d) Viết các số 96 ; 87 ; 78 ; 91 theo thứ tự từ bé đến lớn :

.....

2 a) Đặt tính rồi tính :

$$6 + 52$$

$$37 - 25$$

$$66 + 22$$

$$89 - 7$$

.....

.....

.....

b) Tính : $35 + 40 - 75 = \dots\dots\dots$; $94 - 14 + 4 = \dots\dots\dots$

$80 \text{ cm} + 10 \text{ cm} = \dots\dots\dots$; $35 \text{ cm} - 20 \text{ cm} = \dots\dots\dots$

3. Trong vườn có 35 cây bưởi và cây táo , trong đó có 15 cây bưởi. Hỏi trong vườn có mấy cây táo ?

Bài giải

.....

Tuyển Tập 55 Đề Thi Học Kỳ II Lớp 1 Năm học 2018-2019

Success has only one destination, but has a lot of ways to go

.....
.....
4. Nhà Lan nuôi 24 con gà và 25 con vịt. Hỏi nhà Lan nuôi tất cả bao nhiêu con gà và vịt ?

Bài giải

ĐÁP ÁN ĐỀ SỐ 028

- .1) a) Năm mươi: 50 Ba mươi một: 31
b) Đọc số: 78: Bảy mươi tám 99: Chín mươi chín
c) Số lớn nhất: 91
d) Viết từ bé đến lớn : 78; 87; 91; 96.

2) a) Mỗi câu đặt tính đúng được điểm tối đa

$$6 + 52 = 58 \qquad 37 - 25 = 12 \qquad 66 + 22 = 88 \qquad 89 - 7 = 82$$

b) Tính:

$$35 + 40 - 75 = 0 \qquad 94 - 14 + 4 = 84 \qquad 80 \text{ cm} + 10 \text{ cm} = 90 \text{ cm} \qquad 35 \text{ cm} - 20 \text{ cm} = 15 \text{ cm}$$

3) Số cây táo trong vườn có là: $35 - 15 = 20$ (cây) Đáp số: 20 cây

4) Số con gà và vịt nhà Lan nuôi là: $24 + 25 = 49$ (con) Đáp số: 49 con.

ĐỀ SỐ 029

1 : Viết số

a) Viết các số từ 89 đến 100 :

Tuyển Tập 55 Đề Thi Học Kỳ II Lớp 1 Năm học 2018-2019

Success has only one destination, but has a lot of ways to go

Thầy giáo Hồ Khắc Vũ – GV dạy Toán cấp I-II. SĐT: 037.858.8250 TP Tam Kỳ - Quảng Nam
“Thành Công Có Duy Nhất Một Điểm Đến Nhưng Có Rất Nhiều Con Đường Để Đi”

b) Viết số vào chỗ chấm :

Số liền trước của 90 là ; 17 gồm chục và đơn vị

Số liền sau của 99 là ; 50 gồm chục và đơn vị

c) Viết các số tròn chục :

2 : a) Tính nhẩm : $3 + 36 = \dots\dots\dots$ $45 - 20 = \dots\dots\dots$ $50 + 37 = \dots\dots\dots$

$99 - 9 = \dots\dots\dots$ $17 - 16 = \dots\dots\dots$ $3 + 82 = \dots\dots\dots$

$17 + 14 - 14 = \dots\dots\dots$; $38 \text{ cm} - 10\text{cm} = \dots\dots\dots$

b) Đặt tính rồi tính :

$$51 + 27$$

$$78 - 36$$

$$84 - 4$$

$$91 + 7$$

.....

.....

.....

.....

.....

.....

.....

.....

.....

.....

.....

.....

3. Viết > ; < ; =

$39 \dots\dots\dots 74$; $89 \dots\dots\dots 98$; $56 \dots\dots\dots 50 + 6$

$68 \dots\dots\dots 66$; $99 \dots\dots\dots 100$; $32 - 2 \dots\dots\dots 32 + 2$

4. Một đoạn dây dài 18cm , bị cắt ngắn đi 5cm . Hỏi đoạn dây còn lại dài mấy xăng ti mét ?

Giải

.....
.....

Tuyển Tập 55 Đề Thi Học Kỳ II Lớp 1 Năm học 2018-2019

Success has only one destination, but has a lot of ways to go

Thầy giáo Hồ Khắc Vũ – GV dạy Toán cấp I-II. SĐT: 037.858.8250 TP Tam Kỳ - Quảng Nam
“Thành Công Có Duy Nhất Một Điểm Đến Nhưng Có Rất Nhiều Con Đường Để Đi”
ĐÁP ÁN ĐỀ SỐ 029

Câu 1: a) Các số từ 89 đến 100 là:

89;90;91;92;93;94;95;96;97;98;99;100

b) Viết vào chỗ chấm

Số liền trước của 90 là 89 ; 17 gồm 1 chục và 7 đơn vị

Số liền sau của 99 là 100 ; 50 gồm 5 chục và 0 đơn vị

c) các số tròn chục : 10;20;30;40;50;60;70;80;90

2) a) Tính nhẩm: $3 + 36 = 39$ $45 - 20 = 25$ $50 + 37 = 87$

$99 - 9 = 90$ $17 - 16 = 1$ $3 + 82 = 85$

$17 + 14 - 14 = 17$; $38 \text{ cm} - 10 \text{ cm} = 28 \text{ cm}$

b) Mỗi câu đặt tính đúng được điểm tối đa

$51 + 27 = 78$ $78 - 36 = 42$ $84 - 4 = 80$ $91 + 7 = 98$

Câu 3. > ;=;<

$39 < 74$ $89 < 98$ $56 = 50 + 6$
 $68 > 66$ $99 < 100$ $32 - 2 < 32 + 2$

Câu 4. Số xăng ti mét đoạn dây còn lại là: $18 - 5 = 13$ (cm) Đáp số: 13 cm

ĐỀ SỐ 030

Câu 1: a,Viết các số có 1 chữ số ?

.....

Tuyển Tập 55 Đề Thi Học Kỳ II Lớp 1 Năm học 2018-2019
Success has only one destination, but has a lot of ways to go

Thầy giáo Hồ Khắc Vũ – GV dạy Toán cấp I-II. SĐT: 037.858.8250 TP Tam Kỳ - Quảng Nam
“Thành Công Có Duy Nhất Một Điểm Đến Nhưng Có Rất Nhiều Con Đường Để Đi”

b, Số lớn nhất có 1 chữ số là số nào ?

.....

c, Những số nào ở giữa số 6 và số 12 ?

.....

Câu 2: a, Số nhỏ nhất có 2 chữ số là số nào ?

.....

b, Số lớn nhất có 2 chữ số là số nào ?

.....

c, Số nhỏ nhất có 2 chữ số khác nhau là số nào ?

.....

Câu 3: Minh nói: “Các số có 1 chữ số đều nhỏ hơn 10”. Sang lại nói:

“10 lớn hơn tất cả các số có 1 chữ số”. Hai bạn nói có đúng không?

Trả lời:

Câu 4: Cho ba số 7; 3 và 10. Hãy dùng dấu + ; - để viết thành các phép tính đúng.

Trả lời:

.....

.....

Câu 5: An hơn Tùng 3 tuổi. Biết rằng An 10 tuổi. Hỏi Tùng bao nhiêu tuổi?

Tuyển Tập 55 Đề Thi Học Kỳ II Lớp 1 Năm học 2018-2019

Success has only one destination, but has a lot of ways to go

Giải:

.....
.....
.....

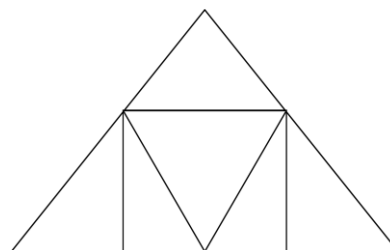
Câu 6:

a, Có bao nhiêu hình chữ nhật ?

Có tất cả số hình chữ nhật là

b, Có bao nhiêu hình tam giác ?

Có tất cả số hình tam giác là



ĐÁP ÁN ĐỀ SỐ 030

Câu 1) a) Các số có 1 chữ số là: 0;1;2;3;4;5;6;7;8;9

b) Số lớn nhất có 1 chữ số: 9

c) Những số ở giữa số 6 và số 12 : 7;8;9;10;11

Câu 2) a) Số nhỏ nhất có 2 chữ số: 10

b) Số lớn nhất có hai chữ số: 99

c) Số nhỏ nhất có 2 chữ số khác nhau là: 10

Câu 3. Hai bạn Minh và Sang nói đúng

Câu 4. $7+3=10$ $10-3=7$ $3+7=10$ $10-7=3$

Tuyển Tập 55 Đề Thi Học Kỳ II Lớp 1 Năm học 2018-2019

Success has only one destination, but has a lot of ways to go

Thầy giáo Hồ Khắc Vũ – GV dạy Toán cấp I-II. SĐT: 037.858.8250 TP Tam Kỳ - Quảng Nam
“Thành Công Có Duy Nhất Một Điểm Đến Nhưng Có Rất Nhiều Con Đường Để Đi”

Câu 5. Số tuổi của Tùng là : $10 + 3 = 13$ (tuổi) Đáp số: 13 tuổi

Câu 6. a) Có 1 hình chữ nhật b) Có 9 hình tam giác.