

Thầy giáo Hồ Khắc Vũ – GV dạy Toán cấp I-II. SĐT: 037.858.8250 TP Tam Kỳ - Quảng Nam  
"Thành Công Có Duy Nhất Một Điểm Đến Nhưng Có Rất Nhiều Con Đường Để Đi"

# TUYỂN TẬP

55 ĐỀ THI HỌC KỲ II LỚP 2 - MÔN TOÁN

Tập 01: 001-030



*hokhacvu*

Tam Kỳ-Quảng Nam, tháng 02-2019

Tuyển Tập 55 Đề Thi Học Kỳ II Lớp 2 Năm học 2018-2019

*Success has only one destination, but has a lot of ways to go*

ĐỀ SỐ 01

TRƯỜNG TIỂU HỌC      ĐỀ KIỂM TRA CUỐI HỌC KÌ II NĂM HỌC 2017-2018

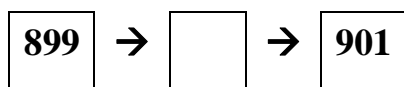
.....  
\_\_\_\_\_

MÔN: TOÁN - LỚP 2

Thời gian làm bài: 60 phút

(Không kể thời gian giao đề)

Câu 1. Số trong ô trống là:



A. 890

B. 900

C. 898

Câu 2. Số 860 được viết thành tổng là:

A.  $800 + 6$

B.  $800 + 60$

C.  $80 + 60$

Câu 3. Số?

$$20\text{dm} + 500\text{dm} = \dots\dots\dots$$

A. 70dm

B. 520dm

C. 250dm

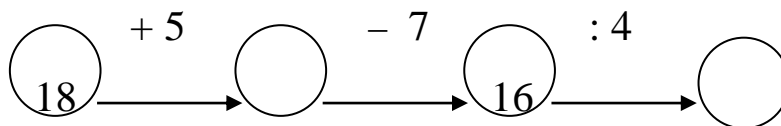
Câu 4. Một hình tam giác có 3 cạnh bằng nhau và mỗi cạnh bằng 6cm. Vậy chu vi hình tam giác đó là?

A. 18

B. 18cm

C. 16cm

Câu 5. Số?







Câu 2: (1 điểm) Đây là tờ lịch tháng 9:

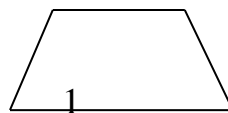
	Thứ hai	Thứ ba	Thứ tư	Thứ năm	Thứ sáu	Thứ bảy	Chủ nhật
11		1	2	3	4	5	6
	7	8	9	10	11	12	13
	14	15	16	17	18	19	20
	21	22	23	24	25	26	27
	28	29	30				

Ngày sinh nhật của bạn Lan là ngày 10 tháng 9 vậy ngày sinh nhật của Lan là ngày thứ mấy?


- A. thứ ba                      B. thứ tư                      C. thứ năm                      D. thứ sáu

Câu 3. (1 điểm) Đúng ghi Đ, Sai ghi S:

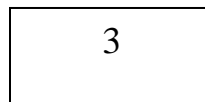
a.  Hình 1 là hình tứ giác



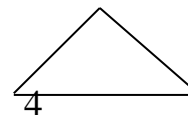
b.  Hình 2 là hình tam giác



c.  Hình 3 là hình chữ nhật



d.  Hình 4 là hình tứ giác



Câu 4. (1 điểm) Số thích hợp để điền vào chỗ chấm là:

$$50\text{cm} = \dots\text{dm}$$

- A. 10                      B. 5                      C. 30.                      D. 1

Câu 5: Tính (2 điểm)

$$33 - 15 + 9 =$$

$$60 - 25 - 7 =$$

=

=

**Câu 6: Tìm  $x$  (1 điểm)**

$$x - 27 = 36$$

$$50 - x = 26$$

.....

.....

**Câu 7: (2 điểm)**

Lớp 2A có 21 học sinh nam, biết số học sinh nữ của lớp ít hơn số học sinh nam là 7 bạn. Hỏi lớp 2A có bao nhiêu học sinh nữ?

Bài giải

.....

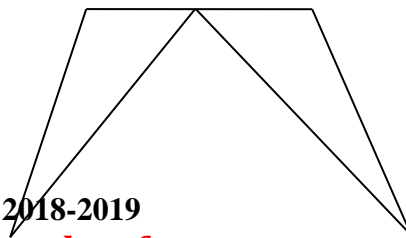
.....

.....

**Câu 8: (1 điểm) Khoanh vào chữ đặt trước câu trả lời đúng**

Trong hình bên:

- a) Có ..... hình tam giác
- b) Có ..... hình tứ giác



**Thầy giáo Hồ Khắc Vũ – GV dạy Toán cấp I-II. Sđt: 037.858.8250 TP Tam Kỳ - Quảng Nam**  
**“Thành Công Có Duy Nhất Một Điểm Đến Nhưng Có Rất Nhiều Con Đường Để Đi”**

---

**Tuyển Tập 55 Đề Thi Học Kỳ II Lớp 2 Năm học 2018-2019**  
***Success has only one destination, but has a lot of ways to go***

**ĐÁP ÁN ĐỀ SỐ 002**

1.C 2.C 3. a)Đ b)S c)Đ d)S 4.B

5/

$$35 - 15 + 9$$

$$= 20 + 9$$

$$= 29$$

Câu 6

$$x - 27 = 36$$

$$x = 36 + 27$$

$$x = 63$$

$$60 - 25 - 7$$

$$= 35 - 7$$

$$= 28$$

$$50 - x = 26$$

$$x = 50 - 26$$

$$x = 24$$

Câu 7. Số học sinh nữ của lớp 2A là :  $21 - 7 = 14$  (học sinh)

Đáp số: 14 học sinh

Câu 8. a) Có 3 hình tam giác b) có 3 hình tứ giác

**ĐỀ SỐ 03**

**TRẮC NGHIỆM:**

**Hãy khoanh tròn vào chữ A , B , C , D đặt trước câu trả lời đúng.**

**Câu 1:** Số 612 được đọc là:

A. Sáu một hai B. Sáu trăm mười hai

C. Sáu trăm mười D. Sáu trăm hai một

**Câu 2:** Hình trên đã tô màu là:



A.  $\frac{1}{2}$  B.  $\frac{1}{4}$  C.  $\frac{1}{3}$  D.  $\frac{1}{5}$

**Câu 3:** Kết quả của phép tính:  $27\text{km} + 46\text{km} = \dots$

A. 73km B. 53km C. 63km D. 76km

**Câu 4:** Chọn số thích hợp điền vào chỗ trống:  $6\text{dm} = \dots\text{cm}$

A. 6000 B. 6 C. 600 D. 60

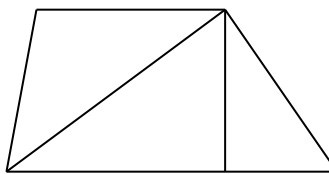
**Tuyển Tập 55 Đề Thi Học Kỳ II Lớp 2 Năm học 2018-2019**

***Success has only one destination, but has a lot of ways to go***



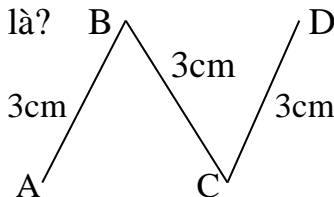
**Câu 5:** Hình bên có mấy hình tam giác?

- A. 3      B. 4      C. 5      D. 6



**Câu 6:** Độ dài đường gấp khúc ABCD là?

- A. 6cm    B. 7cm    C. 8cm    D. 9cm



**TỰ LUẬN**

1) a) Đồng hồ chỉ mấy giờ?

.....



a) Ngày 12 tháng 4 năm 2017 là thứ mấy?

Tháng 4 năm 2017						
Thứ hai	Thứ ba	Thứ tư	Thứ năm	Thứ sáu	Thứ bảy	Chủ nhật
					1	2
3	4	5	6	7	8	9
10	11	12	13	14	15	16
17	18	19	20	21	22	23
24	25	26	27	28	29	30

2) Đặt tính rồi tính:

a)  $26 + 37$

b)  $453 + 524$

.....  
 .....

3) Tìm x:

$x : 6 = 8$

.....  
 .....

4) Tính:

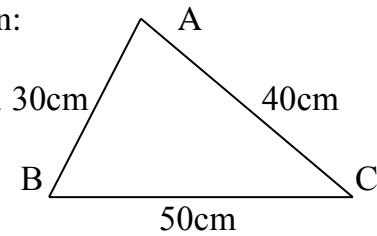
$5 \times 7 - 18 =$

.....  
.....  
5) Một bao gạo cân nặng 5kg. Hỏi 10 bao gạo như thế cân nặng bao nhiêu ki – lô – gam?

Bài giải:

.....  
.....  
.....  
.....  
6) Tính chu vi hình tam giác ABC ở hình bên:

Bài giải:



## ĐÁP ÁN ĐỀ SỐ 003

### I. TRẮC NGHIỆM

1B 2C 3A 4D 5B 6D

### II. TỰ LUẬN

1) a) 7 giờ 15 phút                      b) Ngày 12 tháng 4 năm 2017 là thứ tư

2) Mỗi câu đặt tính đúng được điểm tối đa

a)  $26 + 37 = 63$

b)  $453 + 324 = 977$

3)  $x : 6 = 8$

$x = 8 \times 6$

$x = 48$

4)  $5 \times 7 - 18$

$= 35 - 18$

$= 17$

5) Số kilogram gạo 10 bao cân nặng là :  $5 \times 10 = 50$  (kg gạo)                      Đáp số: 50 kg gạo

6) Chu vi tam giác ABC là :  $30 + 40 + 50 = 120$  (cm)                      Đáp số: 120 cm

## ĐỀ SỐ 004

Câu 1:  $1 \text{ m} = \dots \text{ cm}$  ? Số thích hợp cần điền vào chỗ trống là: ( M2- 0.5)

a . 10 cm

b. 100 cm

c. 1000 cm

d . 1 cm

Câu 2:  $0 : 4 = ?$  Kết quả của phép tính là: ( M1- 0,5)

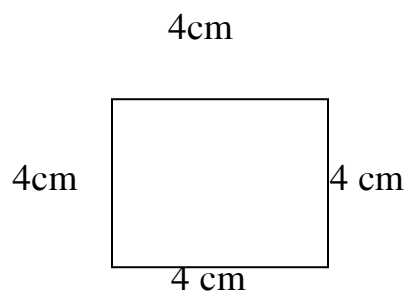
a. 0

b. 1

c. 4

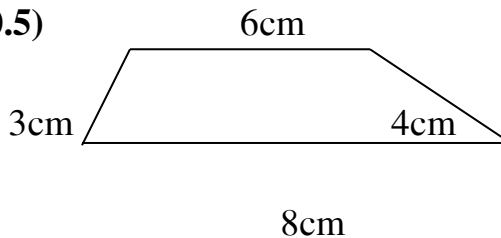
d. 40

Câu 3: (0,5đ) Độ dài đường gấp khúc sau là : ( M1- 1)



- a. 16 cm                      b. 20 cm                      c. 15 cm                      d. 12 cm

Câu 4: Chu vi hình tứ giác sau là: ( M2- 0.5)



- a. 19cm                      b. 20cm                      c. 21cm                      d. 22cm

Câu 5 : Đặt tính rồi tính ( M2- 2)

- a)  $465 + 213$                       b)  $857 - 432$                       c)  $56 - 19$                       d)  $34 + 46$

.....  
.....  
.....

Câu 6: Tính ( M1- 1)

$5 \times 0 = \dots\dots\dots$      $32 : 4 = \dots\dots\dots$      $21 : 3 = \dots\dots\dots$      $5 \times 8 = \dots\dots\dots$

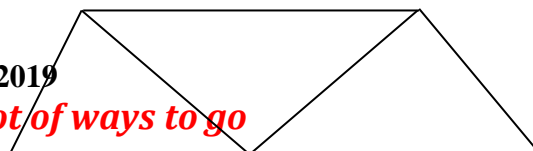
Câu 7: Viết tiếp vào chỗ chấm cho thích hợp ( M3- 1)

Lớp 2 C có 21 học sinh nữ. Số học sinh nữ nhiều hơn số học sinh nam là 6 em.  
Hỏi lớp 2 C có bao nhiêu học sinh nam ?

Trả lời: Lớp 2C có số học sinh nam là: .....

Câu 8: Hình bên có ..... hình tứ giác ( M1- 0.5)

Hình bên có ..... hình tam giác



**Câu 9: Bài toán : ( M3- 2)**

Một bác thợ may dùng 16 m vải để may 4 bộ quần áo giống nhau. Hỏi để may một bộ quần áo như thế cần bao nhiêu mét vải ?

**Bài giải**

.....

.....

.....

**Câu 10: Viết số lớn nhất có ba chữ số và số bé nhất có ba chữ số.(M4 -1)**

.....

.....

**ĐÁP ÁN ĐỀ SỐ 004**

1.B 2.A 3.A 4.C

5.Mỗi câu đặt tính đúng được điểm tối đa

a)  $465 + 213 = 678$

b)  $857 - 432 = 425$

c)  $56 - 19 = 37$

d)  $34 + 46 = 80$

**Tuyển Tập 55 Đề Thi Học Kỳ II Lớp 2 Năm học 2018-2019**

***Success has only one destination, but has a lot of ways to go***

Câu 6.  $5 \times 0 = 0$        $32 : 4 = 8$        $21 : 3 = 7$        $5 \times 8 = 40$

Câu 7. Lớp 2C có 15 học sinh nam

Câu 8. Hình bên có 3 tứ giác , 3 tam giác

Câu 9. Số mét vải 1 bộ quần áo may là :  $16 : 4 = 4$  (m vải)    Đáp số: 4 m vải

Câu 10. Số lớn nhất có 3 chữ số: 999      Số bé nhất có 3 chữ số : 100

### **ĐỀ SỐ 05**

#### **I. Phần trắc nghiệm:**

**Khoanh tròn vào chữ cái trước câu trả lời đúng.**

**Câu 1:** Số: **647** , đọc là: ( M1 : 1đ )

- A. Sáu trăm bốn mươi bảy.
- B. Sáu bốn bảy.
- C. Sáu trăm bốn bảy.
- D. Sáu bốn mươi bảy.

**Câu 2:** Đồng hồ chỉ mấy giờ? ( M1 : 1đ )

- A. 3 giờ
- B. 3 giờ 12 phút
- C. 12 giờ
- D. 12 giờ 15 phút



**Câu 3:** Kết quả đúng của phép tính  $457 + 322 = ?$  ( M2 : 1đ )

- A. 779
- B. 135
- C. 677
- D. 579

**Câu 4:**  $10m + 20m + 15m = \dots\dots\dots m$  ? ( M2 : 1đ )

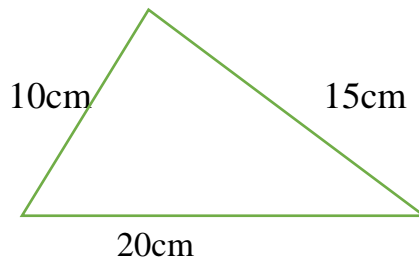
- A. 30
- B. 35
- C. 45
- D. 40

**Câu 5:** Các số 500; 279; 730; 158 được viết theo thứ tự từ bé đến lớn là: ( M3 : 1đ )

- A. 500; 279; 158; 730
- B. 158; 279; 500; 730
- C. 730; 500; 279; 158
- D. 730; 279; 500; 158

**Câu 6:** Hình tam giác có độ dài các cạnh lần lượt là 10cm; 15cm và 2cm. Thì chu vi là:( M3 : 1đ )

- A. 25dm
- B. 35cm
- C. 30cm
- D. 45cm



**II. Phần tự luận:**( 4đ )

**Câu 7:** Tính nhẩm: ( M1 : 1đ )

$4 \times 9 = \dots\dots$

$5 \times 7 = \dots\dots$

$24 : 3 = \dots\dots$

$45 : 5 = \dots\dots$

**Câu 8:** Đặt tính rồi tính: ( M2 : 1đ )

$748 + 241$

$486 - 206$

.....  
.....  
.....  
.....

.....  
.....  
.....  
.....

**Câu 9:** Tìm y: ( M3 : 1đ )

Số câu	<b>1</b>	<b>2</b>	<b>3</b>	<b>4</b>	<b>5</b>	<b>6</b>
Đáp án	<b>A</b>	<b>A</b>	<b>A</b>	<b>C</b>	<b>B</b>	<b>D</b>
	$y \times 4 = 28$			$y : 3 = 5$		

.....

.....

.....

.....

**Câu 10:** Giải bài toán sau: ( M4 : 1đ )

Bể thứ nhất chứa được 865l nước, bể thứ hai chứa được ít hơn bể thứ nhất 210l nước. Hỏi bể thứ hai chứa được bao nhiêu lít nước ?

**Bài giải**

.....

.....

.....

.....

**ĐÁP ÁN ĐỀ SỐ 05**

**I. Phần trắc nghiệm:( 6 điểm )**

\* Khoanh tròn đúng mỗi câu được 1 điểm:

**II. Phần tự luận:( 4 điểm )**

Câu 7: Tính nhẩm: ( Thực hiện đúng mỗi phép tính chấm 0,25 điểm.)

$4 \times 9 = 36$

$24 : 3 = 8$

$5 \times 7 = 35$

$45 : 5 = 9$

Câu 8: Đặt tính rồi tính: ( Tính đúng mỗi phép tính được 0,5 điểm.)

$$\begin{array}{r} 748 \\ + 241 \\ \hline 989 \end{array}$$

$$\begin{array}{r} 486 \\ - 206 \\ \hline 280 \end{array}$$

Câu 9: Tìm y: ( Tính đúng mỗi bài được 0,5 điểm; HS làm đúng mỗi bước trong bài chấm 0,25 điểm )

$y \times 4 = 28$

$y : 3 = 5$

$y = 28 : 4$

$y = 5 \times 3$

$y = 7$

$y = 15$

Câu 10: Bài toán:

- Học sinh viết đúng câu lời giải cho 0,25 điểm
- Học sinh viết đúng phép tính, tính đúng cho 0,5 điểm

**Tuyển Tập 55 Đề Thi Học Kỳ II Lớp 2 Năm học 2018-2019**

***Success has only one destination, but has a lot of ways to go***



- Học sinh viết đáp số đúng cho 0,25 điểm.

**Bài giải:**

Số lít nước bể thứ hai chứa được là:  
( Bể thứ hai chứa được số lít nước là : )

$$865 - 210 = 655 \text{ ( lít )}$$

Đáp số: 655 lít nước

**ĐỀ SỐ 06**

**Câu 1:** (1 điểm): Khoanh vào trước kết quả đúng nhất:

a) Số liền trước số 525 là:

- A. 526                      B. 400                      C. 524                      D. 600

b) Giá trị của số 2 trong số 525 là:

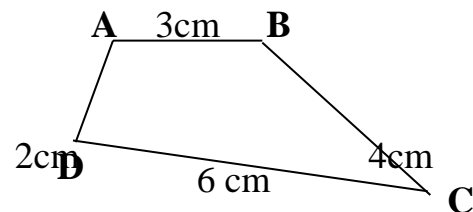
- A. 25                      B. 200                      C. 52                      D. 20

**Câu 2:** (1 điểm) Viết (theo mẫu):

Viết số	Đọc số
105	Một trăm linh năm
429	
	Chín trăm bốn mươi lăm

**Câu 3:** (1 điểm) Cho hình tứ giác như hình vẽ

Tính chu vi của hình tứ giác ABCD.



**Bài giải**



A. 20 kg gạo

B. 2 kg gạo

**Câu 6:** (1 điểm): Tính

a)  $3 \times 6 + 5 = \dots\dots\dots$

b)  $4 \times 5 : 2 = \dots\dots\dots$

.....

.....

**Câu 7:** (1 điểm) Cho bảng ô bên. Hãy điền số thích hợp vào ô trống sao cho tổng các số ở các hàng ngang, cột dọc, đường chéo đều bằng 27.

11		
	9	17
15	5	

**Câu 8:** (1 điểm) Bé Tâm cao 1m. Bé Thanh thấp hơn bé Tâm 3cm. Hỏi bé Thanh cao bao nhiêu?

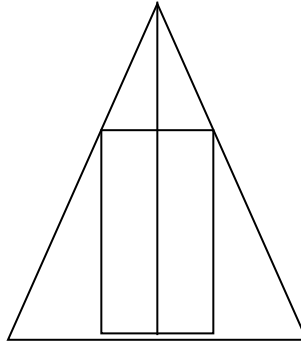
**Bài giải**



**Câu 9:** (1 điểm) Số ? Trong hình bên:

a) Có ..... hình tam giác.

b) Có ..... hình chữ nhật.



**Câu 10:** (1 điểm) Viết số thích hợp vào chỗ chấm:

a) 95; 100; 105; .....

b) 254; 244; 234; .....

- Hết -

### ĐÁP ÁN ĐỀ SỐ 06

**Câu 1:** 1 điểm

a) **C** (0,5 điểm); b) **D** (0,5 điểm).

**Câu 2:** Mỗi ô viết đúng 0,5 điểm

Viết số	Đọc số
429	<b>Bốn trăm hai mươi chín</b>

<b>945</b>	Chín trăm bốn mươi lăm
------------	------------------------

**Câu 3:** 1 điểm

Chu hình tứ giác ABCD là: (0,25 điểm)

$$3 + 4 + 6 + 2 = 15 \text{ (cm)} \text{ (0,5 điểm)}$$

Đáp số: 15 cm (0,25 điểm)

**Câu 4:** 1 điểm

a) 0,5 điểm

$$735 < 739 \text{ (0,25 điểm)}$$

$$927 = 900 + 27 \text{ (0,25 điểm)}$$

b) 0,5 điểm

$$\begin{array}{r} 45 \\ + 37 \\ \hline 82 \end{array} \text{ (0,25 điểm)}$$

$$\begin{array}{r} 986 \\ - 264 \\ \hline 722 \end{array} \text{ (0,25 điểm)}$$

**Câu 5:** 1 điểm

a) **Đ** (0,5 điểm); b) **S** (0,5 điểm).

**Câu 6:** 1 điểm

$$\begin{aligned} \text{a) } 3 \times 6 + 5 &= 18 + 5 \text{ (0,25 điểm)} \\ &= 23 \text{ (0,25 điểm)} \end{aligned}$$

$$\begin{aligned} \text{b) } 4 \times 5 : 2 &= 20 : 2 \text{ (0,25 điểm)} \\ &= 10 \text{ (0,25 điểm)} \end{aligned}$$

**Câu 7:** 1 điểm

Mỗi ô điền đúng : 0,25 điểm

11	13	3
1	9	17
15	5	7

**Câu 8:** 1 điểm

$$1\text{m} = 100\text{cm} \text{ (0,25 điểm)}$$

Chiều cao bé Thanh là: (0,25 điểm)

$$100 - 3 = 97 \text{ (cm)} \text{ (0,25 điểm)}$$

Đáp số: 97 cm (0,25 điểm)

**Câu 9:** 1 điểm

a) Có 7 hình tam giác (0,5 điểm)

b) Có 3 hình chữ nhật (0,5 điểm)

**Câu 10:** 1 điểm

a) 110 (0,5 điểm)

b) 224 (0,5 điểm)

ĐỀ SỐ 07

Khoanh vào chữ cái đặt trước câu trả lời đúng:

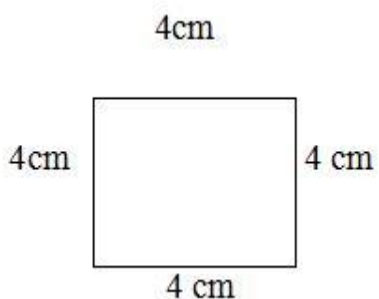
Câu 1: 1 m = ..... cm?

A. 10 cm

B. 100 cm

C. 1000 cm

Câu 2: Độ dài đường gấp khúc sau là:



A. 20 cm

B. 12 cm

C. 16 cm

Câu 3:  $40 + 40$    $20 + 60$ . Dấu cần điền vào ô trống là:

A. <

B. >

C. =

Câu 4: Khoanh vào chữ cái đặt trước câu trả lời đúng:

Số 785 viết thành tổng các trăm, chục, đơn vị là:

A.  $700+80$

B.  $700+50$

C.  $700+80+5$

Câu 5: Đặt tính rồi tính

a)  $257 + 312$

b)  $629 + 40$

c)  $318 - 106$

d)  $795 - 58$

.....

.....

.....

.....

.....  
.....

**Câu 6:** Tính

a)  $10 \text{ kg} + 36 \text{ kg} - 21 \text{ kg} = \dots\dots\dots$

b)  $18 \text{ cm} : 2 + 45 \text{ cm} = \dots\dots\dots$

**Bài 7:** Tìm x

a/  $X : 4 = 5$

$3 \times X = 24$

x = .....

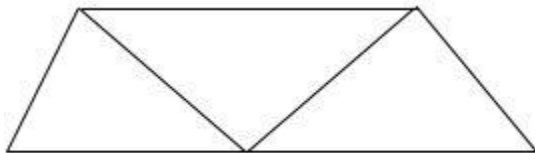
x = .....

x = .....

x = .....

**Câu 8:** Hình bên có ..... hình tứ giác

Hình bên có ..... hình tam giác



**Câu 9:** Bài toán:

Một bác thợ may dùng 16 m vải để may 4 bộ quần áo giống nhau. Hỏi để may một bộ quần áo như thế cần bao nhiêu mét vải?





**ĐỀ SỐ 08**

**Câu 1** (1 điểm)

a) (0,5 điểm). Viết các số sau :

- Chín trăm hai mươi lăm .....

- Ba trăm mười : .....

b) (0,5 điểm). Đọc các số sau :

705 : .....

640 : .....

**Câu 2** (1 điểm). Khoanh tròn vào chữ đặt trước câu trả lời đúng nhất.

a) Số liền trước của số 700 là số :

A. 701

B. 698

C. 699

b) Trong các số 485, 348, 384, số bé nhất :

A. 485

B. 348

C. 384.

**Câu 3** (1,5 điểm). Tính nhẩm :

$3 \times 9 = \dots\dots\dots$

$27 : 3 = \dots\dots\dots$

$5 \times 8 = \dots\dots\dots$

$35 : 5 = \dots\dots\dots$

$4 \times 7 = \dots\dots\dots$

$32 : 4 = \dots\dots\dots$

**Câu 4** : (2 điểm). Đặt tính rồi tính.

a.  $456 + 13$

.....

.....

.....

b.  $876 - 270$

.....

.....

.....

c.  $74 + 26$

.....

.....

.....

d.  $53 - 19$

.....

.....

.....

**Câu 5**: (1 điểm) Tìm X

$X \times 4 = 24$

.....

.....

$X : 9 = 5$

.....

.....

**Câu 6** : (1 điểm). Xem lịch rồi cho biết :

<b>12</b>	Thứ hai		7	14	21	28
	Thứ ba	1	8	15	22	29
	Thứ tư	2	9	16	23	30
	Thứ năm	3	10	17	24	31
	Thứ sáu	4	11	18	25	
	Thứ bảy	5	12	19	26	
	Chủ nhật	6	13	20	27	




### ĐÁP ÁN ĐỀ SỐ 008

1) a) Chín trăm hai mươi lăm: 925

Ba trăm mười: 310

b) 705: Bảy trăm linh năm      640: Sáu trăm bốn mươi

Câu 2. a)    C                      b) B

Câu 3

$$3 \times 9 = 27 \quad 27 : 3 = 9 \quad 5 \times 8 = 40 \quad 35 : 5 = 7 \quad 4 \times 7 = 28 \quad 32 : 4 = 8$$

Câu 4. Mỗi câu đặt tính đúng được 0,5đ

$$a) 456 + 13 = 469 \quad b) 876 - 270 = 606$$

$$c) 74 + 26 = 100 \quad d) 53 - 19 = 34$$

Câu 5.

$$x \times 4 = 24$$

$$x : 9 = 5$$

$$x = 24 : 4$$

$$x = 5 \times 9$$

$$x = 6$$

$$x = 45$$

Câu 6. – Tháng 12 có 31 ngày      - có 5 ngày thứ ba

Câu 7. a) có 5 hình tam giác      có 3 hình chữ nhật

Câu 8. Số kilogram mận nhà bác Năm thu hoạch là

**Tuyển Tập 55 Đề Thi Học Kỳ II Lớp 2 Năm học 2018-2019**

***Success has only one destination, but has a lot of ways to go***

$$359 - 140 = 219 \text{ (kg mận)}$$

Đáp số: 219 kg mận

### ĐỀ SỐ 09

#### I. PHẦN TRẮC NGHIỆM: (2 điểm)

Khoanh vào chữ cái đặt trước kết quả đúng.

**Câu 1:** Số bé nhất có hai chữ số là :

a) 19

b) 12

c) 10

**Câu 2:** Số liền sau của 899 là số :

a) 809

b) 900

c) 889

**Câu 3:** Dãy số nào sau đây xếp theo thứ tự từ bé đến lớn :

a) 54 , 45 , 33 , 28

b) 45 , 33 , 28 , 54

c) 28 , 33, 45 , 54

**Câu 4:**  $1 \text{ dm} = \dots\dots\dots \text{cm}$

a) 100

b) 10

c) 1

#### II. PHẦN TỰ LUẬN: (8 điểm)

**Câu 1:** Tính : (1 điểm)

$$2 \times 3 =$$

$$5 \times 2 =$$

$$0 : 4 =$$

$$3 \times 4 =$$

$$6 : 3 =$$

$$10 : 5 =$$

$$3 : 3 =$$

$$12 : 4 =$$

**Câu 2:** Đặt tính rồi tính : (1 điểm)

$$68 + 26$$

$$80 - 60$$

$$635 + 241$$

$$295 - 105$$

.....  
.....  
.....

**Câu 3:** Tìm x: (1,5 điểm)

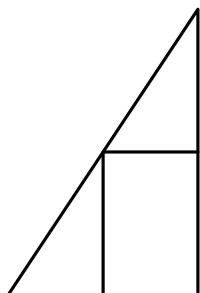
$$x + 12 = 21$$

$$x : 5 = 3$$

$$52 - x = 15$$

.....  
.....  
.....

**Câu 4:** (0,5 điểm) Hình bên :

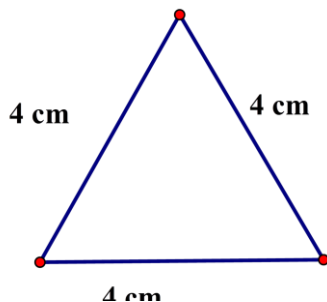


- Có ... hình tam giác
- Có ... hình tứ giác

**Câu 5:** (1,5 điểm) Có 50 học sinh chia đều thành 5 tổ. Hỏi mỗi tổ có mấy học sinh?

.....  
.....  
.....

**Câu 6:** (1,5 điểm) Cho đường gấp khúc có các kính thước nêu ở hình vẽ dưới đây. Tính độ dài của đường gấp khúc đó?



.....  
.....  
.....

**Câu 7: (1 điểm)**

Tìm một số, biết rằng số đó nhân với 2 thì bằng 2 nhân với 3.

.....  
.....  
.....  
.....  
.....  
.....

Hết.....

**ĐÁP ÁN ĐỀ SỐ 09**

**I.PHẦN TRẮC NGHIỆM: (2 điểm)**

**Đúng mỗi câu 0,25 điểm**

**Câu 1:** Số bé nhất có hai chữ số là :

c) 10

**Câu 2:** Số liền sau của 899 là số :

b) 900

**Câu 3:** Dãy số xếp theo thứ tự từ bé đến lớn :

**Tuyển Tập 55 Đề Thi Học Kỳ II Lớp 2 Năm học 2018-2019**

***Success has only one destination, but has a lot of ways to go***

c) 28 , 33, 45 , 54

**Câu 4:** 1dm = .....cm

b) 10

## II. PHẦN TỰ LUẬN: (8 điểm)

**Câu 1:** (1điểm) Đúng 2 phép tính được 0,25 điểm

$$2 \times 3 = 6$$

$$5 \times 2 = 10$$

$$0 : 4 = 0$$

$$3 \times 4 = 12$$

$$6 : 3 = 2$$

$$10 : 5 = 2$$

$$3 : 3 = 1$$

$$12 : 4 = 3$$

**Câu 2:** (1 điểm) Đặt tính và tính đúng mỗi phép tính được 0,25 điểm

$$68 + 26$$

$$80 - 60$$

$$635 + 241$$

$$295 - 105$$

$$68$$

$$80$$

$$635$$

$$295$$

+

-

+

-

$$26$$

$$\underline{60}$$

$$\underline{241}$$

$$\underline{105}$$

$$\hline 94$$

$$20$$

$$876$$

$$190$$

**Câu 3:** (1,5 điểm) Tính đúng mỗi phép tính được 0,5 điểm

$$x + 12 = 21$$

$$x : 5 = 3$$

$$52 - x = 15$$

$$x = 21 - 12$$

$$x = 3 \times 5$$

$$x = 52 - 15$$

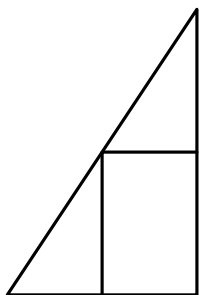


$$x = 9$$

$$x = 15$$

$$x = 37$$

**Câu 4: (0,5 điểm)** Hình bên :



- Có 3 hình tam giác
- Có 3 hình tứ giác

**Câu 5: (1,5 điểm)**

Viết đúng lời giải 0,5 điểm

Viết đúng phép tính 0,5 điểm

Viết đúng đáp số và tên đơn vị 0,5 điểm

**Bài giải:**

*Mỗi tổ có số học sinh là:*

$$50 : 5 = 10 \text{ ( học sinh)}$$

**Đáp số: 10 học sinh**

**Câu 6: (1,5 điểm)**

Viết đúng lời giải 0,5 điểm

Viết đúng phép tính 0,5 điểm

Viết đúng đáp số và tên đơn vị 0,5 điểm

**Bài giải:**

**Độ dài đường gấp khúc đó là:**

$$4 \times 3 = 12 \text{ (cm)}$$

**Đáp số: 12 cm**

Lưu ý: Còn có cách giải khác bằng phép tính cộng :  $4 + 4 + 4 = 12 \text{ (cm)}$

**Câu 7: (1 điểm)**

Gọi số cần tìm là a, ta có:

$$a \times 2 = 2 \times 3$$

$$a \times 2 = 6$$

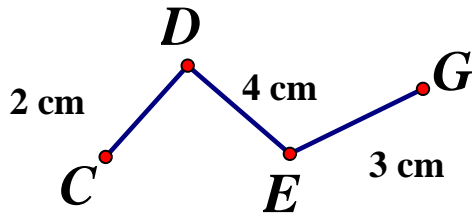
$$a = 6 : 2$$

$$a = 3$$

Vậy số cần tìm là: 3







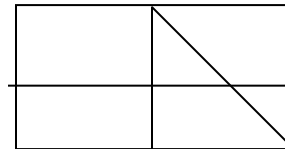
Đường gấp khúc trên có tên là:.....

Đường gấp khúc trên có độ dài là:.....

Bài 10. Số ?

a) Hình bên có ..... hình chữ nhật

b) Hình bên có ..... hình tam giác



**ĐÁP ÁN ĐỀ SỐ 010**

1A    2B    3C    4a) C    b) B

$5) 3 \times 6 = 18$	$4 \times 5 = 20$	$24 : 4 = 6$
$5 \times 7 = 35$	$2 \times 5 = 10$	$35 : 5 = 7$
$4 \times 9 = 36$	$36 : 4 = 9$	$18 : 3 = 6$

$6) 4 \times 8 - 7$	$36 : 4 + 19$
$= 32 - 7$	$= 9 + 19$
$= 25$	$= 28$

$7) 3 \times x = 21$	$x : 6 = 4$
$x = 21 : 3$	$x = 4 \times 6$
$x = 7$	$x = 24$

8) Số quyển truyện 8 học sinh mượn là :  $3 \times 8 = 24$  (quyển truyện)

Đáp số: 24 quyển truyện

Bài 9. Đường gấp khúc có tên : CDEG                      Đường gấp khúc có độ dài : 9 cm

Bài 10: Hình bên có 9 hình chữ nhật, 4 hình tam giác.

### ĐỀ SỐ 11

\*Khoanh vào chữ cái đặt trước kết quả đúng của câu 1, 2, 3:

**Câu 1: (1 điểm - M1):**

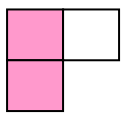
a) Số liền sau của 999 là:

A. 900                      B. 990                      C. 1000                      D. 998


b) Số lớn nhất có ba chữ số là:

A. 900                      B. 990                      C. 1000                      D. 999

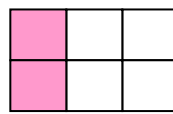
**Câu 2: (1 điểm – M2):** A Hình được tô màu  $\frac{1}{3}$  số ô vuông là:



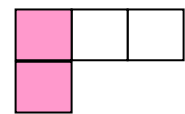
A



B

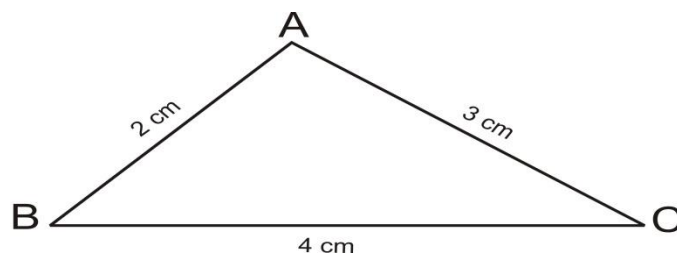


C



D

**Câu 3: (1 điểm – M1):** Cho hình tam giác có độ dài ba cạnh như hình dưới:



Chu vi của hình tam giác ABC là:

A. 7 cm                      B. 12 cm                      C. 9 cm                      D. 24 cm

**Câu 4 (1 điểm – M1)** Đọc, viết các số thích hợp ở bảng sau:

Đọc số	Viết số
Bảy trăm hai mươi ba	.....
Tám trăm mười lăm	.....
.....	421
.....	505

**Câu 5:(1điểm – M2)** Điền số thích hợp vào chỗ chấm:

1m = .....cm

3m = .....dm

1km = .....m

1000mm = .....m

**Câu 6: (1 điểm – M2)** Đặt tính rồi tính:

39 + 14

532 + 261

72 - 34

718 – 205

.....  
 .....  
 .....  
 .....

**Câu 7: (1 điểm – M2)** Tính:

a) 28 + 56 – 47

b) 3 x 6 : 2

.....  
 .....  
 .....

**Câu 8: (1 điểm – M1)** Tìm x:

a)  $X \times 5 = 50$

b)  $X : 7 = 4$

.....  
.....  
.....  
.....

**Câu 9: (1,5 điểm- M3):** Một lớp học có 32 học sinh, xếp đều thành 4 hàng. Hỏi mỗi hàng có bao nhiêu học sinh ?

Bài giải:

.....  
.....  
.....  
.....  
.....  
.....  
.....

**Câu 10: (0,5 điểm – M4):** Có một số khi lấy số đó nhân với 8 thì bằng 40.

Vậy số đó là:.....

### **ĐÁP ÁN ĐỀ SỐ 11**

**Câu 1:** a) ý c

b) ý d

**Câu 2:** ý b

**Câu 3:** ý c

**Câu 4:**



Đọc số	Viết số
Bảy trăm hai mươi ba	<b>723</b>
Tám trăm mười lăm	<b>815</b>
<b>Bốn trăm hai mươi một</b>	421
<b>Năm trăm linh năm</b>	505

**Câu 5:**

$$1\text{m} = 100\text{ cm}$$

$$3\text{m} = 30\text{ dm}$$

$$1\text{km} = 1000\text{ m}$$

$$1000\text{mm} = 1\text{ m}$$

Lưu ý: Mỗi ý 0,25 điểm.

**Câu 6:**

$$39 + 14$$

$$532 + 261$$

$$72 - 34$$

$$718 - 205$$

$$39$$

$$532$$

$$72$$

$$718$$

+

+

-

-

$$\underline{14}$$

$$\underline{261}$$

$$\underline{34}$$

$$\underline{205}$$

$$53$$

$$793$$

$$38$$

$$513$$

Lưu ý: Mỗi câu tính 0,25 điểm.

**Câu 7:**

a)  $28 + 56 - 47$

b)  $3 \times 6 : 2$

$$= 84 - 47$$

$$= 18 : 2$$

$$= 37$$

$$= 9$$

Lưu ý: Mỗi bước tính 0,25 điểm.

**Câu 8:**

Tuyển Tập 55 Đề Thi Học Kỳ II Lớp 2 Năm học 2018-2019

**Success has only one destination, but has a lot of ways to go**

a)  $X \times 5 = 50$

$X = 50 : 5$

$X = 10$

b)  $X : 7 = 4$

$X = 4 \times 7$

$X = 28$

*Lưu ý: Mỗi bước tính 0,25 điểm.*

**Câu 9:**

**Bài giải**

Mỗi hàng có số học sinh là:

$32 : 4 = 8$  (học sinh)

Đáp số: 8 học sinh

*Lưu ý: Mỗi bước tính 0,5 điểm.*

**Câu 10:**

Gọi số đó là X, a có:

$X \times 8 = 40$

$X = 40 : 8$

$X = 5$

Vậy số đó là: 5

**ĐỀ SỐ 12**

Bài 1: Tính nhẩm.

$2 \times 6 = \dots\dots$

$18 : 2 = \dots\dots$

$4 \times 6 = \dots\dots$

$10 : 5 = \dots\dots$

$3 \times 6 = \dots\dots$

$24 : 4 = \dots\dots$

$5 \times 7 = \dots\dots$

$20 : 4 = \dots\dots$

Bài 2: Đặt tính rồi tính.

$654 + 344$

$342 - 212$

$729 + 113$

$474 - 463$

.....

.....

.....

.....

**Tuyển Tập 55 Đề Thi Học Kỳ II Lớp 2 Năm học 2018-2019**

***Success has only one destination, but has a lot of ways to go***

Bài 3: So sánh

<	302 ... 310	321 ... 298
>	658 ... 648	30 - 3 ... 40 - 3
=	599 ... 597 + 2	1000 ... 998 + 2

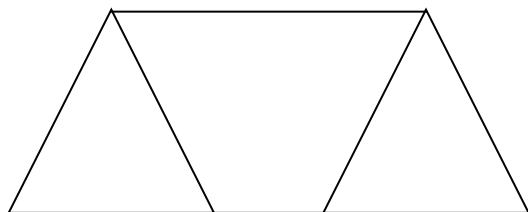
Bài 4:

Một trường tiểu học có 265 học sinh nam và 234 học sinh nữ. Hỏi trường tiểu học đó có tất cả bao nhiêu học sinh ?

Bài 5:

Khoanh vào chữ cái đặt trước kết quả đúng.

Số hình tứ giác có trong hình vẽ là ?



- A. 1
- B. 2
- C. 3
- D. 4

### **ĐÁP ÁN ĐỀ SỐ 012**

1. Tính nhẩm:

$2 \times 6 = 12$

$18 : 2 = 9$

$4 \times 6 = 24$

$10 : 5 = 2$

$3 \times 6 = 18$

$24 : 4 = 6$

$5 \times 7 = 35$

$20 : 4 = 5$

2. Mỗi câu đặt tính đúng được điểm tối đa

$654 + 344 = 998$

$342 - 212 = 130$

$729 + 113 = 842$

$474 - 463 = 11$

**Tuyển Tập 55 Đề Thi Học Kỳ II Lớp 2 Năm học 2018-2019**

***Success has only one destination, but has a lot of ways to go***

3) So sánh

$$302 < 310 \quad 321 > 298 \quad 658 > 648$$
$$30 - 3 < 40 - 3 \quad 599 = 597 + 2 \quad 1000 = 998 + 2$$

4) Số học sinh trường đó có là:  $265 + 234 = 499$  (học sinh) Đáp số: 499 học sinh

5) D

### ĐỀ SỐ 13

**Câu 1.** Tính nhẩm

a)  $4 \times 7 = \dots$       b)  $5 \times 9 = \dots$       c)  $36 : 4 = \dots$       d)  $27 : 3 = \dots$

**Câu 2.** Đọc, viết các số (theo mẫu)

Viết số

355

402

250

Đọc số

Ba trăm năm mươi lăm

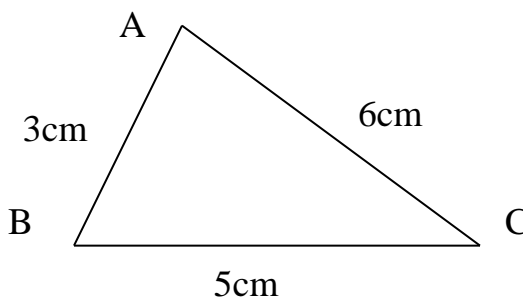
Sáu trăm bảy mươi tám

Chín trăm chín mươi chín

**Câu 3.** Độ dài đường gấp khúc ABC là:

Khoanh vào đáp án đúng:

- A. 12cm      B. 13cm  
C. 14cm      D. 15cm



**Câu 4.** Đặt tính rồi tính

a)  $315 + 243$

b)  $64 + 505$

c)  $668 - 426$

d)  $978 - 52$

.....  
.....  
.....

**Câu 5.** Điền số thích hợp vào chỗ chấm:

a)  $10\text{cm} = \dots \text{mm}$

b)  $19\text{dm} = \dots \text{cm}$

c)  $5\text{m } 5\text{dm} = \dots \text{dm}$

d)  $31\text{dm } 5\text{cm} = \dots \text{cm}$

**Câu 6.** Tìm x:

a)  $x + 115 = 238$

b)  $x - 75 = 114$

.....  
.....

**Câu 7.** Viết các số 123; 167; 169; 131; 148 theo thứ tự từ bé đến lớn.

.....

**Câu 8.** Hai đội công nhân cùng tham gia làm một con đường. Đội thứ nhất làm được 398m đường, đội thứ hai làm được 521m đường. Hỏi cả hai đội làm được bao nhiêu mét đường?

Bài giải

.....  
.....  
.....  
.....  
.....  
.....  
.....  
.....  
.....  
.....

**Câu 9.** Một hình tứ giác có số đo các cạnh lần lượt là: 17cm, 20cm, 26cm và 3dm. Tính chu vi hình tứ giác đó.

**Tuyển Tập 55 Đề Thi Học Kỳ II Lớp 2 Năm học 2018-2019**

***Success has only one destination, but has a lot of ways to go***

Trả lời: Chu vi hình tứ giác đó là:.....

**Câu 10.** a) Hải có một số bi. Nếu Toàn cho Hải một số bi bằng đúng số bi của Hải đang có thì Hải có 12 viên bi. Hỏi lúc đầu Hải có bao nhiêu viên bi?

.....  
.....  
.....  
.....  
.....

b) Người ta đem đựng một số lít dầu vào các can nhỏ. Nếu đựng vào mỗi can 4 lít thì được tất cả 7 can và còn thừa lại 3 lít. Tính tổng số dầu đó.

.....  
.....  
.....  
.....

### **ĐÁP ÁN ĐỀ SỐ 013**

1. Tính nhẩm

a)  $4 \times 7 = 28$

b)  $5 \times 9 = 45$

c)  $36 : 4 = 9$

d)  $27 : 3 = 9$

2

Viết số

Đọc số

355

Ba trăm năm mươi lăm

402

Bốn trăm linh hai

678

Sáu trăm bảy mươi tám

250

Hai trăm năm mươi

999

Chín trăm chín mươi chín

Câu 3. C

**Tuyển Tập 55 Đề Thi Học Kỳ II Lớp 2 Năm học 2018-2019**

***Success has only one destination, but has a lot of ways to go***

Câu 4. Mỗi câu đặt tính đúng được điểm tối đa

a)  $315 + 243 = 558$

b)  $64 + 505 = 569$

c)  $668 - 426 = 242$

d)  $978 - 52 = 926$

Câu 5.

a)  $10\text{ cm} = 100\text{ mm}$

b)  $19\text{ dm} = 190\text{ cm}$

c)  $5\text{ m } 5\text{ dm} = 55\text{ dm}$

d)  $31\text{ dm } 5\text{ cm} = 315\text{ cm}$

Câu 6.

a)  $x + 115 = 238$

b)  $x - 75 = 114$

$x = 238 - 115$

$x = 114 + 75$

$x = 123$

$x = 189$

Câu 7. Bé đến lớn: 123; 131 ; 148 ; 167 ; 169

Câu 8. Số mét đường cả hai đội làm được là :  $398 + 521 = 919$  (m đường)

Đáp số: 919 m đường

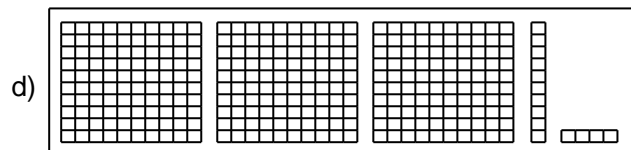
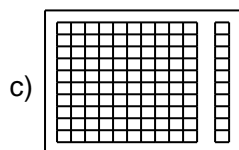
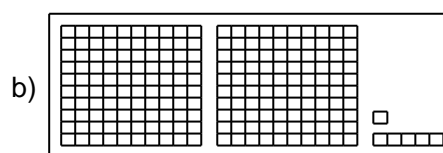
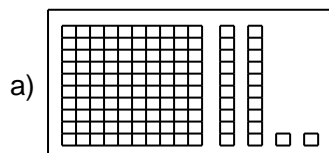
Câu 9. Chu vi tứ giác là : 93cm

Câu 10. a) Số bi lúc đầu Hải có là :  $12 : 2 = 6$  (viên bi)      Đáp số: 6 viên bi

b) Tổng số dầu có là :  $4 \times 7 + 3 = 31$  (l dầu)      Đáp số: 31 l dầu

## ĐỀ SỐ 14

**Câu 1:** Viết số dưới mỗi hình sau cho thích hợp: (1 điểm)



**Câu 2:** (1 điểm)

>
<
=

$368 \square 468$

$708 \square 708$

$512 \square 215$

$493 \square 489$

**Câu 3:**(2 điểm)

a) Tính:

$$\begin{array}{r} 613 \\ + 325 \\ \hline \end{array}$$

$$\begin{array}{r} 504 \\ + 63 \\ \hline \end{array}$$

$$\begin{array}{r} 739 \\ - 31 \\ \hline \end{array}$$

$$\begin{array}{r} 197 \\ - 56 \\ \hline \end{array}$$

b) Tính nhẩm:

$36 : 4 =$

$5 \times 5 =$

$60 : 3 =$

$3 \times 7 =$

$20 : 2 =$

$9 \times 5 =$

**Câu 4:**Viết số thích hợp vào chỗ chấm: (1 điểm)

$3m = \dots \text{ cm}$

$40\text{mm} = \dots \text{ cm}$

$1000m = \dots \text{ km}$

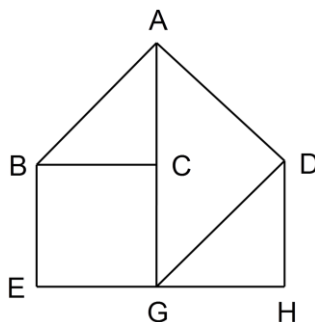
$70\text{dm} = \dots \text{ m}$

**Câu 5:**Đàn gà có 275 con, đàn vịt ít hơn đàn gà 21 con. Hỏi đàn vịt có bao nhiêu con? (1 điểm)

**Câu 6:**(1 điểm) Hình vẽ bên có:

a) ... hình tam giác ...

b) ... hình tứ giác ...



**Câu 7:**Tính: (1 điểm)

$100 \text{ đồng} + 500 \text{ đồng} =$

$800 \text{ đồng} + 100 \text{ đồng} =$

$1000 \text{ đồng} - 200 \text{ đồng} =$

$900 \text{ đồng} - 400 \text{ đồng} =$

**Câu 8:**(1 điểm)

Đ
S

$574 = 500 + 70 + 4 \square$

$850 = 800 + 5 \square$

$999 = 900 + 90 + 9 \square$

$330 = 300 + 10 + 3 \square$

**Câu 9:**Nối □ với số ở ○ cho thích hợp: (1 điểm)

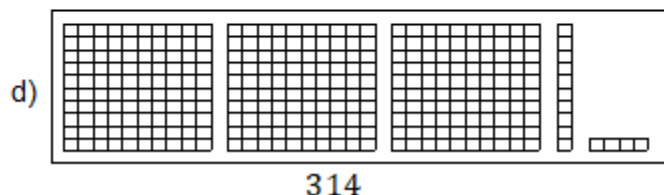
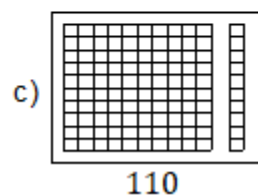
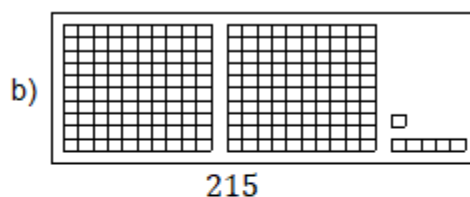
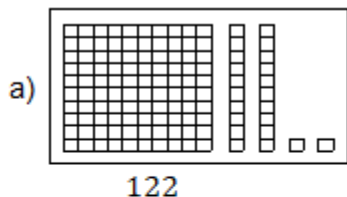


$$342 < 316 + \square < 362$$

- (42) (23) (31) (40) (50) (32)

**ĐÁP ÁN ĐỀ SỐ 14**

**Câu 1:**



**Câu 2:**

$$368 < 468$$

$$708 = 708$$

$$512 > 215$$

$$493 > 489$$

**Câu 3:**

a)

$$\begin{array}{r} 613 \\ + 325 \\ \hline 938 \end{array}$$

$$\begin{array}{r} 504 \\ + 63 \\ \hline 567 \end{array}$$

$$\begin{array}{r} 739 \\ - 31 \\ \hline 708 \end{array}$$

$$\begin{array}{r} 197 \\ - 56 \\ \hline 141 \end{array}$$

b)

$$\begin{array}{l} 36 : 4 = 9 \\ 3 \times 7 = 21 \end{array}$$

$$\begin{array}{l} 5 \times 5 = 25 \\ 20 : 2 = 10 \end{array}$$

$$\begin{array}{l} 60 : 3 = 20 \\ 9 \times 5 = 45 \end{array}$$

**Câu 4:**

$$\begin{array}{l} 3\text{m} = 300\text{ cm} \\ 1000\text{m} = 1\text{ km} \end{array}$$

$$\begin{array}{l} 40\text{mm} = 4\text{ cm} \\ 70\text{dm} = 7\text{ m} \end{array}$$

**Câu 5:**

Bài giải

Đàn vịt có số con là :

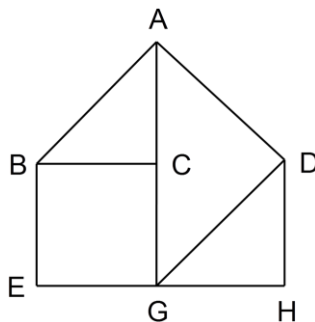
$$275 - 21 = 254 \text{ (con)}$$

Đáp số : 254 con

**Câu 6:**

a) Có 3 hình tam giác ...

b) Có 3 hình tứ giác ...



**Câu 7:**

$$100 \text{ đồng} + 500 \text{ đồng} = 600 \text{ đồng}$$

$$1000 \text{ đồng} - 200 \text{ đồng} = 800 \text{ đồng}$$

$$100 \text{ đồng} = 900 \text{ đồng}$$

$$400 \text{ đồng} = 500 \text{ đồng}$$

**Câu 8:**

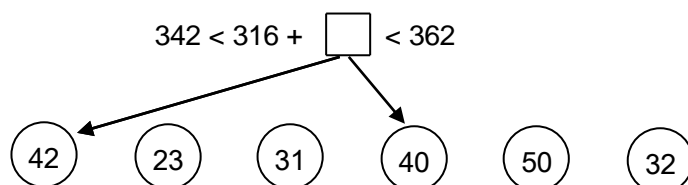
$$574 = 500 + 70 + 4 \quad \boxed{\text{Đ}}$$

$$850 = 800 + 5 \quad \boxed{\text{S}}$$

$$999 = 900 + 90 + 9 \quad \boxed{\text{Đ}}$$

$$330 = 300 + 10 + 3 \quad \boxed{\text{S}}$$

**Câu 9:**



## ĐỀ SỐ 15

**Câu 1:**  $\boxed{\text{Số}}$ ? (1 điểm)

a) 462 ; ... ; ... ; 465 ; 466 ; ... ; ... ; ... ; 470

b) 991 ; ... ; 993 ; ... ; ... ; 996 ; ... ; 998 ; ...

**Câu 2:**(1 điểm)

a) Viết các số 543 , 345 , 453 , 534 theo thứ tự từ bé đến lớn.

b) Viết các số 610 , 478 , 461 , 915 theo thứ tự từ lớn đến bé.

**Câu 3:**(1 điểm)

$\begin{array}{ c } \hline > \\ \hline < \\ \hline = \\ \hline \end{array} ?$	$368 \quad \square \quad 468$	$708 \quad \square \quad 708$
	$512 \quad \square \quad 215$	$493 \quad \square \quad 489$

**Câu 4:**Đặt tính rồi tính: (1 điểm)

$$53 + 714$$

$$896 - 622$$

$$773 - 61$$

$$121 + 58$$

.....  
 .....  
**Câu 5:** Tính nhẩm: (2 điểm)

$90 : 3 =$

$20 \times 2 =$

$80 : 2 =$

$7 \times 5 =$

$4 \times 6 : 3 =$

$40 : 4 \times 5 =$

$4 \times 9 + 7 =$

$21 : 3 \times 2 =$

**Câu 6:** Viết số thích hợp vào chỗ ô chấm: (1 điểm)

$6\text{cm} = \dots \text{mm}$

$5\text{m} = \dots \text{dm}$

$80\text{dm} = \dots \text{m}$

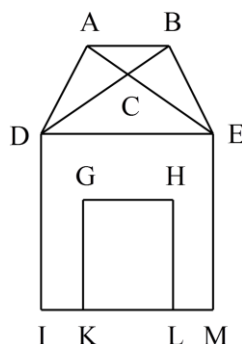
$1000\text{mm} = \dots \text{m}$

**Câu 7:** Bố cao 172cm, mẹ thấp hơn bố 11cm. Hỏi mẹ cao bao nhiêu xăng-ti-mét? (1 điểm)

**Câu 8:** Hình vẽ bên có: (1 điểm)

a) ... hình tam giác

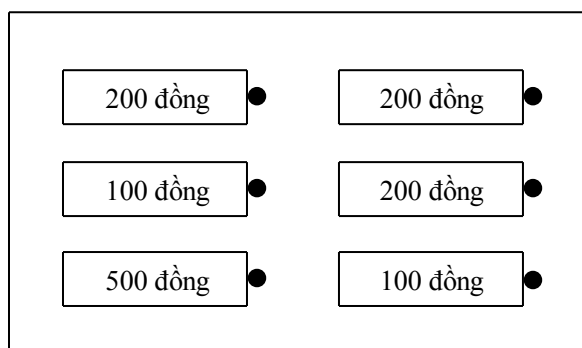
b) ... hình tứ giác



**Câu 9:** Nối các tờ giấy bạc ở bên trái cho đúng với số tiền ở bên phải:

Các tờ giấy bạc

Số tiền



700 đồng

### ĐÁP ÁN ĐỀ SỐ 15

#### Câu 1:

- a) 462 ; 463 ; 464 ; 465 ; 466 ; 467 ; 468 ; 469 ; 470  
b) 991 ; 992 ; 993 ; 994 ; 995 ; 996 ; 997 ; 998 ; 999

#### Câu 2:

- a) 345, 453, 534, 543.  
b) 915, 610, 478, 461.

#### Câu 3:

$$368 < 468$$

$$708 = 708$$

$$512 > 215$$

$$493 > 489$$

#### Câu 4:

$$\begin{array}{r} + 53 \\ 714 \\ \hline 767 \end{array}$$

$$\begin{array}{r} - 896 \\ 622 \\ \hline 274 \end{array}$$

$$\begin{array}{r} - 773 \\ 61 \\ \hline 712 \end{array}$$

$$\begin{array}{r} + 121 \\ 58 \\ \hline 179 \end{array}$$

#### Câu 5:

$$90 : 3 = 30$$

$$20 \times 2 = 40$$

$$80 : 2 = 40$$

$$7 \times 5 = 35$$

$$4 \times 6 : 3 = 8$$

$$40 : 4 \times 5 = 50$$

$$4 \times 9 + 7 = 43$$

$$21 : 3 \times 2 = 14$$

#### Câu 6:

$$6\text{cm} = 60\text{ mm}$$

$$5\text{m} = 50\text{ dm}$$

$$80\text{dm} = 8\text{ m}$$

$$1000\text{mm} = 1\text{ m}$$

#### Câu 7:

Bài giải

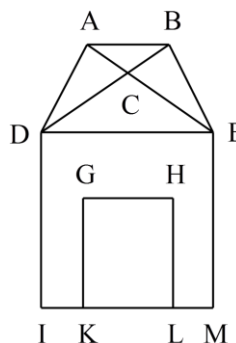
Mẹ cao số cm là :

$$172 - 11 = 161(\text{cm})$$

Đáp số : 161cm

#### Câu 8:

- a) Có 8 hình tam giác  
b) Có 3 hình tứ giác





$$5\text{m} = \dots \text{dm}$$

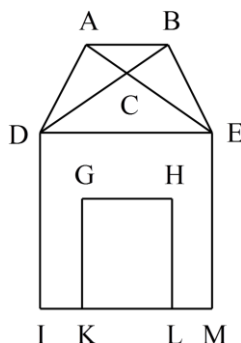
$$1000\text{mm} = \dots \text{m}$$

**Câu 7:** Bố cao 172cm, mẹ thấp hơn bố 11cm. Hỏi mẹ cao bao nhiêu xăng-ti-mét? (1 điểm)

**Câu 8:** Hình vẽ bên có: (1 điểm)

c) ... hình tam giác

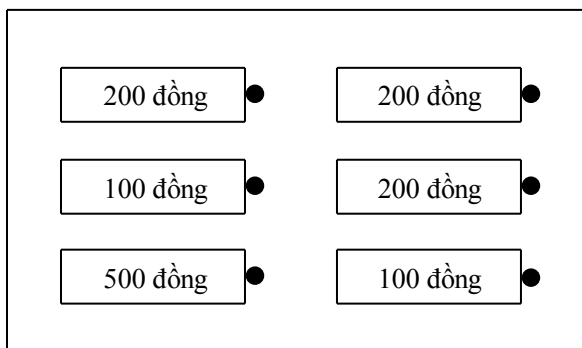
d) ... hình tứ giác



**Câu 9:** Nối các tờ giấy bạc ở bên trái cho đúng với số tiền ở bên phải:

Các tờ giấy bạc

Số tiền



700 đồng

## ĐÁP ÁN ĐỀ SỐ 16

### Câu 1:

c) 462 ; 463 ; 464 ; 465 ; 466 ; 467 ; 468 ; 469 ; 470

d) 991 ; 992 ; 993 ; 994 ; 995 ; 996 ; 997 ; 998 ; 999

### Câu 2:

c) 345, 453, 534, 543.

d) 915, 610, 478, 461.

### Câu 3:

$$368 < 468$$

$$708 = 708$$

$$512 > 215$$

$$493 > 489$$

### Câu 4:

$$\begin{array}{r} + 53 \\ 714 \\ \hline 767 \end{array}$$

$$\begin{array}{r} - 896 \\ 622 \\ \hline 274 \end{array}$$

$$\begin{array}{r} - 773 \\ 61 \\ \hline 712 \end{array}$$

$$\begin{array}{r} + 121 \\ 58 \\ \hline 179 \end{array}$$

### Câu 5:

$$90 : 3 = 30$$

$$20 \times 2 = 40$$

$$80 : 2 = 40$$

$$7 \times 5 = 35$$

$$4 \times 6 : 3 = 8$$

$$40 : 4 \times 5 = 50$$

$$4 \times 9 + 7 = 43$$

$$21 : 3 \times 2 = 14$$

### Câu 6:

$$6\text{cm} = 60\text{ mm}$$

$$5\text{m} = 50\text{ dm}$$

$$80\text{dm} = 8\text{ m}$$

$$1000\text{mm} = 1\text{ m}$$

### Câu 7:

Bài giải

Mẹ cao số cm là :

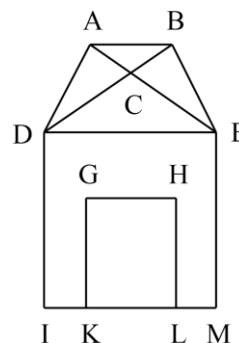
$$172 - 11 = 161(\text{cm})$$

Đáp số : 161cm

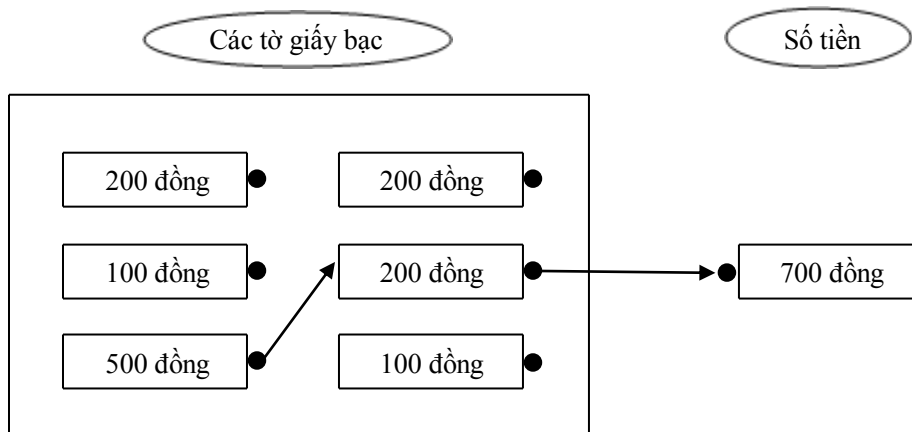
### Câu 8:

c) Có 8 hình tam giác

d) Có 3 hình tứ giác



**Câu 9:**



**ĐỀ SỐ 17**

**Câu 1:** Nối các số ở bên trái với cách đọc số ở bên phải sao cho thích hợp: (1 điểm)

( 637 )	Năm trăm mười
( 209 )	Ba trăm bảy mươi sáu
( 510 )	Sáu trăm ba mươi bảy
( 376 )	Hai trăm linh chín
( 842 )	Tám trăm bốn mươi hai

**Câu 2:** (1 điểm)

> < =	?	999m		1km	829cm		81dm
		37dm4cm		374cm	6m8dm		70dm

**Câu 3:** Tính: (1 điểm)

$\begin{array}{r} 754 \\ - \\ \hline 441 \end{array}$	$\begin{array}{r} 987 \\ - \\ \hline 66 \end{array}$	$\begin{array}{r} 202 \\ + \\ \hline 236 \end{array}$	$\begin{array}{r} 131 \\ + \\ \hline 114 \end{array}$
---	--	---	---

**Câu 4:** Tìm x (1 điểm)

Tuyển Tập 55 Đề Thi Học Kỳ II Lớp 2 Năm học 2018-2019

**Success has only one destination, but has a lot of ways to go**



a)  $x + 73 = 100$

b)  $849 - x = 415$

**Câu 5:** Tính nhẩm: (2 điểm)

$24m : 3 =$

$18 : 2 =$

$9mm \times 4 =$

$4 \times 4 =$

$15m : 5 =$

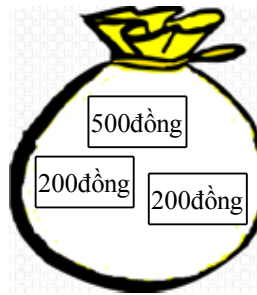
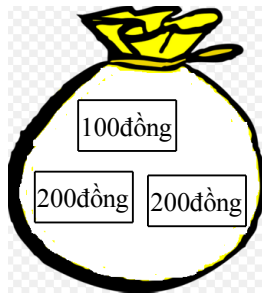
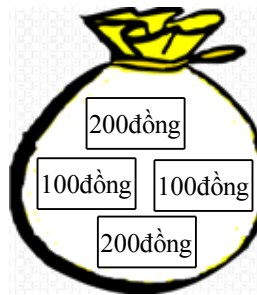
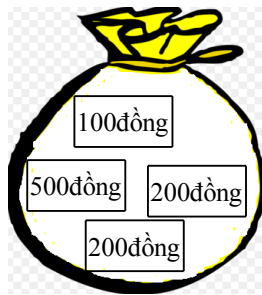
$50 : 5 =$

$60dm : 2 =$

$16 : 2 =$

**Câu 6:** Thùng thứ nhất chứa được 134l nước, thùng thứ hai chứa được nhiều hơn thùng thứ nhất 25l nước. Hỏi thùng thứ hai chứa được bao nhiêu lít nước? (1 điểm)

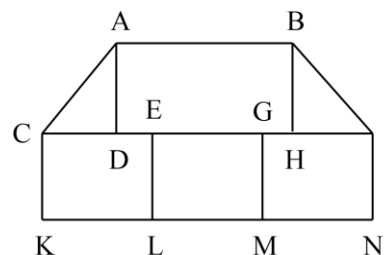
**Câu 7:** (1 điểm) Mỗi túi có bao nhiêu tiền?



**Câu 8:** Trên hình vẽ bên: (1 điểm)

a) Có  hình tam giác

b) Có  hình tứ giác



**Câu 9:** Tìm đủ 4 số thích hợp điền vào

$151 > \square > 146$

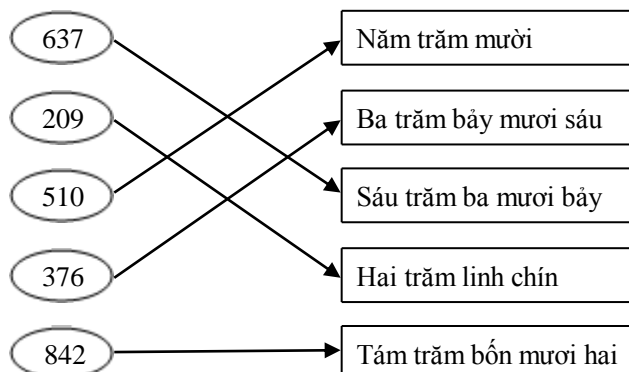
$151 > \square > 146$

$151 > \square > 146$

$151 > \square > 146$

### ĐÁP ÁN ĐỀ SỐ 17

#### Câu 1:



#### Câu 2:

$$999\text{m} < 1\text{km}$$

$$829\text{cm} > 81\text{dm}$$

$$37\text{dm}4\text{cm} = 374\text{cm}$$

$$6\text{m}8\text{dm} < 70\text{dm}$$

#### Câu 3:

$$\begin{array}{r} 754 \\ - 441 \\ \hline 313 \end{array}$$

$$\begin{array}{r} 987 \\ - 66 \\ \hline 921 \end{array}$$

$$\begin{array}{r} 202 \\ + 236 \\ \hline 438 \end{array}$$

$$\begin{array}{r} 131 \\ + 114 \\ \hline 245 \end{array}$$

#### Câu 4:

a)  $x + 73 = 100$

$$x = 100 - 73$$

$$x = 27$$

b)  $849 - x = 415$

$$x = 849 - 415$$

$$x = 434$$

#### Câu 5:

$$24\text{m} : 3 = 8\text{m}$$

$$9\text{mm} \times 4 = 36\text{mm}$$

$$15\text{m} : 5 = 3\text{m}$$

$$60\text{dm} : 2 = 30\text{dm}$$

$$18 : 2 = 9$$

$$4 \times 4 = 16$$

$$50 : 5 = 10$$

$$16 : 2 = 8$$

#### Câu 6:

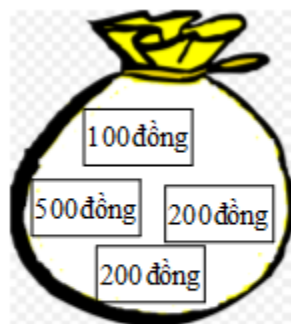
Bài giải

Số lít nước thùng thứ hai chứa được là:

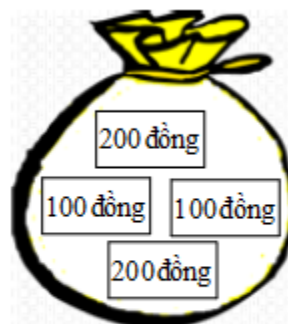
$$134 + 25 = 159(\text{lít})$$

Đáp số: 159 lít

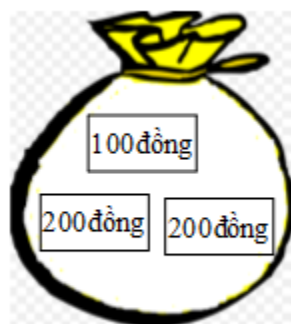
#### Câu 7:



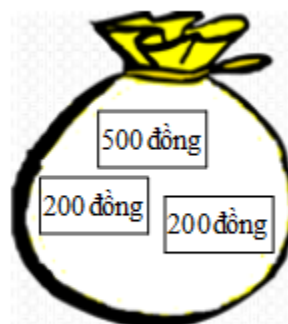
1000 đồng



600 đồng



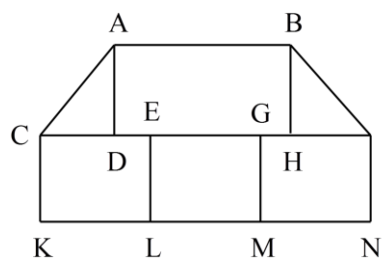
500 đồng



900 đồng

**Câu 8:**

- b) Có 2 hình tam giác
- c) Có 6 hình tứ giác



**Câu 9:**

$$151 > \boxed{147} > 146$$

$$151 > \boxed{148} > 146$$

$$151 > \boxed{149} > 146$$

$$151 > \boxed{150} > 146$$

**ĐỀ SỐ 18**

**Câu 1** (1 điểm)

a) (0,5 điểm). Viết các số sau:

- Bảy trăm năm mươi lăm .....

- Năm trăm mười : .....

b) (0,5 điểm). Đọc các số sau:

805: .....

620: .....

**Câu 2** (1 điểm). Khoanh tròn vào chữ đặt trước câu trả lời đúng nhất.

a) Số liền trước của số 900 là số:

A. 901

B. 898

C. 899

b) Trong các số 564, 358, 385, số bé nhất là:

A. 564

B. 358

C. 385

**Câu 3** (1,5 điểm). Tính nhẩm :

$5 \times 9 = \dots\dots\dots$

$27 : 3 = \dots\dots\dots$

$4 \times 7 = \dots\dots\dots$

$40 : 5 = \dots\dots\dots$

$3 \times 6 = \dots\dots\dots$

$32 : 4 = \dots\dots\dots$

**Câu 4**. (2 điểm). Đặt tính rồi tính:

a)  $567 + 122$

b)  $786 - 180$

c)  $76 + 24$

d)  $43 - 19$

.....

.....

.....

.....

.....

.....

.....

.....

.....

.....

.....

.....

**Câu 5:** (1 điểm) Tìm X.

Tuyển Tập 55 Đề Thi Học Kỳ II Lớp 2 Năm học 2018-2019

***Success has only one destination, but has a lot of ways to go***



**Thầy giáo Hồ Khắc Vũ – GV dạy Toán cấp I-II. SĐT: 037.858.8250 TP Tam Kỳ - Quảng Nam**  
**“Thành Công Có Duy Nhất Một Điểm Đến Nhưng Có Rất Nhiều Con Đường Để Đi”**



**Tuyển Tập 55 Đề Thi Học Kỳ II Lớp 2 Năm học 2018-2019**  
***Success has only one destination, but has a lot of ways to go***

## ĐÁP ÁN ĐỀ SỐ 18

### Câu 1:

a) (0,5)Viết các số sau :                      b) (0,5điểm). Đọc các số sau :

- Bảy trăm năm mươi lăm ...755.....(0,25điểm).....

805 :Tám trăm linh năm.....(0,25 điểm).....

- Năm trăm mười :...515...(0,25 điểm).....

620 : Sáu trăm hai mươi...(0,25 điểm).....

**Câu 2** (1 điểm). Khoanh tròn vào chữ đặt trước câu trả lời đúng nhất.

a) Số liền trước của số 900 là số (0,5 điểm) C. 899

b) Trong các số 564, 358, 385, số bé nhất :( 0,5 điểm) B. 358

**Câu 3** (1,5 điểm). Tính nhẩm :

$$5 \times 9 = \dots 45 \dots$$

$$27 : 3 = \dots 9 \dots$$

$$4 \times 7 = \dots 28 \dots$$

$$40 : 5 = \dots 8 \dots$$

$$3 \times 6 = \dots 18 \dots$$

$$32 : 4 = \dots 8 \dots$$

Mỗi phép tính đúng cho 0,25 điểm

**Câu 4:** Đặt tính rồi tính

- Đặt tính 0,25 điểm

- Tính đúng mỗi phép tính 0,25 điểm

Tuyển Tập 55 Đề Thi Học Kỳ II Lớp 2 Năm học 2018-2019

**Success has only one destination, but has a lot of ways to go**

**Câu 5** : Tìm X

$$X \times 3 = 24$$

$$X : 7 = 5$$

$$X = 24 : 3$$

0,25 đ

$$X = 5 \times 7$$

0,25 đ

$$X = 8$$

0,25 đ

$$X = 35$$

0,25 đ

**Câu 6**: Xem lịch

-Tháng 12 có 31 ngày

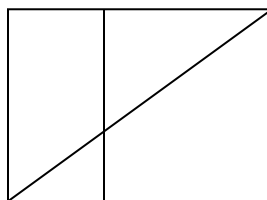
-Có 4 ngày thứ hai

Mỗi ý đúng cho 0,5 điểm.

**Câu 7** : (1điểm). Hình bên có :

a) .....4.....hình tam giá (0,5)

b).....3..... hình chữ nhật(0,5)



**Câu 8**

Bài làm	Điểm
Tóm tắt đúng	0,25 đ
Số con vịt có tất cả là :	0,5 đ
$357 - 137 = 220$ (con)	0,5 đ
Đáp số: 220 con vịt	0,25 đ



ĐỀ SỐ 19

PHẦN I. Trắc nghiệm

Câu 1. Khoanh vào chữ cái đặt trước kết quả đúng:

a) Số lớn nhất trong các số 495; 795; 475; 589 là:

- A. 495                                      B. 795                                      C. 475                                      D. 589

b) Số liền sau của số 499 là:

- A. 497                                      B. 498                                      C. 500                                      D. 501

Câu 2

>
<
=

?

1 km ..... 1000 m

1 dm ..... 10 cm

1 m ..... 99 cm

9 mm ..... 1cm

Câu 3. Viết số thích hợp vào chỗ chấm:

a) 300; 400; 500 ; .....; .....

b) 910; 920; 930; .....; .....

Câu 4. Đúng ghi Đ, sai ghi S vào ô trống:

a) 15 giờ hay còn gọi là 3 giờ chiều

c) 20 giờ hay còn gọi là 9 giờ tối

b) 15 giờ hay còn gọi là 5 giờ chiều

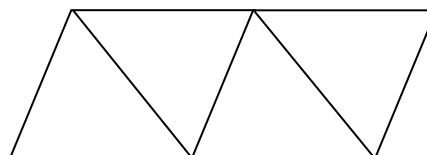
d) 20 giờ hay còn gọi là 8 giờ tối

Câu 5. Viết số thích hợp vào chỗ chấm:

Trong hình vẽ bên có:

a) ..... hình tam giác

b) ..... hình tứ giác



Câu 6. Khoanh vào chữ cái đặt trước kết quả đúng:

Tổng của số nhỏ nhất có 3 chữ số và số lớn nhất có 2 chữ số là:

A. 197

B. 189

C. 199

D. 198

**PHẦN II. Trình bày bài giải các bài toán sau**

**Câu 7.** a) Đặt tính rồi tính:

b) Tính:

$$242 + 413$$

$$652 - 320$$

$$20 : 4 \times 7$$

**Câu 8.**

Tính chu vi hình tam giác ABC biết độ dài các cạnh là:

$$AB = 10 \text{ cm} , BC = 20 \text{ cm} , CA = 15 \text{ cm}$$



Câu 3 a) 300; 400; 500; 600; 700  
b) 910; 920; 930; 940; 950

Câu 4. A)Đ            b) S            c)S            d)Đ

Câu 5. A) có 4 hình tam giác            b) có 4 hình tứ giác

Câu 6. C

## **Phần II.**

**Câu 7.** Học sinh đặt tính đúng được điểm tối đa

$$242 + 413 = 655 \qquad 652 - 320 = 332$$

b) Tính:  $20 : 4 \times 7 = 5 \times 7 = 35$

Câu 8. Chu vi hình tam giác:  $10 + 20 + 15 = 45(cm)$     Đáp số: 45 cm

Câu 9. Số lít dầu buổi chiều cửa hàng bán là :  $370 - 130 = 240$  (l dầu)

Đáp số: 240 l dầu

## **ĐỀ SỐ 20**

### **I. TRẮC NGHIỆM : (4 điểm)**

*Khoanh tròn vào chữ cái trước kết quả đúng:*

**Câu 1:** (0.5đ)  $1m = \dots.cm$  ? (MĐ 1)

A. 10                      B. 100                      C. 110                      D. 1000

**Câu 2:** (0.5đ) Hôm nay là thứ ba ngày 17. Vậy thứ năm tuần trước là ngày ? (MĐ 2)

A.12                      B.13                      C.14                      D.15

**Câu 3:** (0.5đ) 9 giờ tối hay còn gọi là ? (MĐ 1)

A.19 giờ                      B.20 giờ                      C. 21 giờ                      D. 22 giờ

**Tuyển Tập 55 Đề Thi Học Kỳ II Lớp 2 Năm học 2018-2019**

***Success has only one destination, but has a lot of ways to go***

**Câu 4:** (0.5đ) Cho các số 243, 234, 423, 324. Dãy số viết đúng theo thứ tự từ bé đến lớn là:  
(MĐ 2)

- A. 234, 243, 324, 423.                      B. 243, 234, 324, 423.  
C. 234, 243, 423, 324.                      D. 243, 234, 423, 324.

**Câu 5:** (0.5đ) Hình tứ giác có độ dài các cạnh lần lượt là 3dm, 4dm, 2dm, 5dm. Chu vi hình tứ giác là: (MĐ 2)

- A. 14 cm                      B. 14dm                      C. 14m                      D. 14mm

**Câu 6:** (0,5đ)  $2dm + 15cm = \dots cm$  ? (MĐ 3)

- A. 35                      B. 30                      C. 17                      D. 18

**Câu 7:** (0.5đ)  $200cm = 100cm + \dots dm$  ? (MĐ 2)

- A. 100                      B. 1000                      C. 10                      D. 1

**Câu 8:** (0.5đ) Mẹ có 10 quả táo, mẹ chia đều cho 2 người con. Vậy mỗi một người có số quả táo là ? (MĐ 1)

- A. 3 quả                      B. 4 quả                      C. 6 quả                      D. 5 quả

## **II.TỰ LUẬN:** (6đ)

**Bài 1:** (2đ) Đặt tính rồi tính (MĐ 2)

- a)  $27 + 59$                        $171 + 617$   
b)  $83 - 27$                        $897 - 85$

**Bài 2:** (1,0đ) Tìm X (MĐ 2)

- a)  $X \times 5 = 45$   
b)  $X : 7 = 5$

**Bài 3:** (1,0đ) Tính (MĐ 2)

- a)  $15\text{ kg} + 6\text{ kg} - 12\text{ kg}$   
b)  $10\text{ cm} : 2\text{ cm} + 45\text{ cm}$

**Bài 4:** (1,0 đ) Giải bài toán (MĐ 3)

**Thầy giáo Hồ Khắc Vũ – GV dạy Toán cấp I-II. SĐT: 037.858.8250 TP Tam Kỳ - Quảng Nam**  
**“Thành Công Có Duy Nhất Một Điểm Đến Nhưng Có Rất Nhiều Con Đường Để Đi”**

Mẹ có 15m vải, mẹ dùng số vải đó để may 5 bộ quần áo giống nhau. Hỏi mỗi một bộ như thế may hết bao nhiêu mét vải ?

**Bài 5:** (1,0 đ - MĐ 4)

Tìm hiệu của số lớn nhất có ba chữ số với số tròn chục lớn nhất có hai chữ số?

**ĐÁP ÁN ĐỀ SỐ 020**

**I. Trắc nghiệm:**

Câu	Câu 1	Câu 2	Câu 3	Câu 4	Câu 5	Câu 6	Câu 7	Câu 8
Đáp án	B	A	C	A	B	A	C	D
Điểm	0,5	0,5	0,5	0,5	0,5	0,5	0,5	0,5

**II. Tự luận:**

**Bài 1:** Mỗi phép tính đúng được 0,5 điểm

$$\begin{array}{r} + 27 \\ \hline 59 \\ \hline 86 \end{array} \quad \begin{array}{r} + 171 \\ \hline 617 \\ \hline 788 \end{array} \quad \begin{array}{r} - 83 \\ \hline 27 \\ \hline 56 \end{array} \quad \begin{array}{r} - 897 \\ \hline 85 \\ \hline 812 \end{array}$$

**Bài 2:** Mỗi phần đúng được 0,5 điểm

a)  $X \times 5 = 45$

$$x = 45 : 5$$

b)  $X : 7 = 5$

$$x = 5 \times 7$$

**Tuyển Tập 55 Đề Thi Học Kỳ II Lớp 2 Năm học 2018-2019**

***Success has only one destination, but has a lot of ways to go***

$$x = 9$$

$$x = 35$$

**Bài 3:**

- a)  $15 \text{ kg} + 6 \text{ kg} - 12 \text{ kg} = 21 \text{ kg} - 12 \text{ kg}$  0,25 điểm  
 $= 9 \text{ kg}$  0,25 điểm
- b)  $10 \text{ cm} : 2 \text{ cm} + 45 \text{ cm} = 5 \text{ cm} + 45 \text{ cm}$  0,25 điểm  
 $= 50 \text{ cm}$  0,25 điểm

**Bài 4:**

Bài giải

Mỗi một bộ như thế may hết số mét vải là: 0,25 điểm

$$15 : 5 = 3 \text{ (m)} \quad 0,5 \text{ điểm}$$

Đáp số : 3 m 0,25 điểm

**Bài 5:**

Số lớn nhất có ba chữ số là số 999. 0,25 điểm

Số tròn chục lớn nhất có hai chữ số là số 90. 0,25 điểm

Hiệu của hai số đó là:  $999 - 90 = 909$ . 0,5 điểm

**ĐỀ SỐ 21**

Bài 1: Số liền sau của số 499 là:

A. 497      B. 498      C. 500

Bài 2: Điền dấu  $>$ ,  $<$ ,  $=$  tương ứng

457 ..... 467      650 ..... 650

299 ..... 399      401 ..... 397

Bài 3: Giá trị của biểu thức  $20 : 2 - 5$  là:

A. 7      B. 4      C. 5

Bài 4: Giá trị của trong biểu thức  $x \times 3 = 12$  là:

A. 6      B. 4      C. 5

Bài 5: Đặt tính rồi tính

**Tuyển Tập 55 Đề Thi Học Kỳ II Lớp 2 Năm học 2018-2019**

***Success has only one destination, but has a lot of ways to go***

$738 + 241$	$846 - 734$	$48 + 37$	$92 - 19$
.....	.....	.....	.....
.....	.....	.....	.....
.....	.....	.....	.....

Bài 6: Điền số thích hợp vào chỗ chấm

$1m = \dots\dots\dots dm$                        $100cm = \dots\dots\dots m$

$1m = \dots\dots\dots cm$                        $10dm = \dots\dots\dots m$

Bài 7: Tính chu vi tam giác ABC biết độ dài các cạnh là:

$AB = 20cm.$

$BC = 30 cm.$

$CA = 40cm$

Bài giải

.....  
.....  
.....

Bài 8: Đội một trồng được 350 cây, đội hai trồng được nhiều hơn đội một 120 cây. Hỏi đội hai trồng được bao nhiêu cây ?

Bài giải

.....  
.....  
.....  
.....  
.....  
.....

### ĐÁP ÁN ĐỀ SỐ 021

1)C

2)  $457 < 467$        $650 = 650$        $299 < 399$        $401 > 397$

3)C    4)B

5) Mỗi câu đặt tính đúng được điểm tối đa

$738 + 241 = 979$

$846 - 734 = 112$

$48 + 37 = 85$

$92 - 19 = 73$

Bài 6.

$1m = 10 dm$

$100 cm = 1 m$

$1m = 100 cm$

$10 dm = 1 m$

**Tuyển Tập 55 Đề Thi Học Kỳ II Lớp 2 Năm học 2018-2019**

***Success has only one destination, but has a lot of ways to go***



Bài 7. Chu vi tam giác ABC :  $20+30+40=90(cm)$  Đáp số: 90 cm

Bài 8. Số cây đội hai trồng được là :  $350 + 120 = 470(cây)$

### **ĐỀ SỐ 22**

**Câu 1.** Hãy khoanh vào trước cách đọc đúng: (1 điểm – M1)

a. Số 74 đọc là:

- A. Bảy bốn                      B. Bảy mươi tư  
C. Bảy tư                        D. Bảy mươi tư

b. Số "tám mươi hai" viết là:

- A. 802              B. 82              C. 28              D. 208

**Câu 2.** Khoanh vào đáp án đúng: (1 điểm – M1)

a. Các số cần điền vào chỗ chấm:  $74 < \dots, \dots < 77$  là:

- A. 75; 76              B. 78; 79              C. 76; 75              D. 76; 77

b. Thứ tự các số 95, 87, 78, 98, 69 từ bé đến lớn là:

- A. 95, 87, 78, 98, 69                      B. 69, 78, 87, 95, 98  
C. 69, 98, 95, 87, 78                      D. 98, 95, 78, 87, 69

**Câu 3.** Đặt tính rồi tính (1 điểm – M2)

$$5 + 33$$

$$58 - 5$$

$$42 + 24$$

$$87 - 62$$

**Câu 4.** Điền dấu  $>$ ,  $<$ ,  $=$ , thích hợp vào ô trống: (1 điểm – M2)

$$42 + 7 \square 58 - 10$$

$$47 - 7 \square 97 - 50$$

$$45 + 11 \square 31 + 25$$

$$47 - 35 \square 12 + 5 - 5$$

**Câu 5.** Tính. (1 điểm – M2)

$$30 \text{ cm} + 66 \text{ cm} = \dots\dots$$

$$67 - 45 - 2 = \dots\dots$$

$$69 \text{ cm} - 6 \text{ cm} = \dots\dots\dots$$

$$42 - 40 + 8 = \dots\dots$$

**Câu 6.** Số? (1 điểm – M3)

$$\dots\dots + 6 = 38$$

$$80 - \dots\dots = 30$$

$$87 - \dots\dots = 57$$

$$\dots + \dots = 65$$

**Câu 7.** (1 điểm - M3)

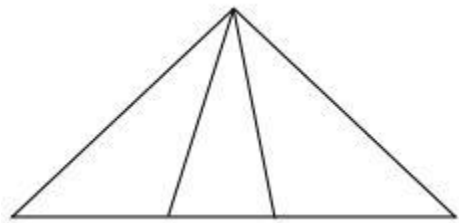
a, Ô tô bắt đầu chạy lúc 7 giờ từ Yên Bái và đến Hà Nội lúc 10 giờ. Hỏi từ Yên Bái đến Hà Nội ô tô chạy hết tất cả mấy giờ?

Trả lời: Ô tô đi từ Yên Bái đến Hà Nội hết tất cả ..... giờ.

b, Mẹ đi công tác 19 ngày. Mẹ đã ở đó 1 tuần lễ. Hỏi mẹ còn phải ở đó mấy ngày nữa?

Trả lời: Mẹ còn ở đó .... ngày nữa.

**Câu 8.** Khoanh vào chữ cái trước đáp án đúng: (1 điểm - M3)



a) Có 6 hình tam giác

b) Có 5 hình tam giác

c) Có 4 hình tam giác

**Câu 9.** Sau khi cửa hàng bán được 3 chục chiếc xe đạp, thì còn lại 45 chiếc xe đạp. Hỏi lúc đầu cửa hàng có bao nhiêu chiếc xe đạp? (1 điểm – M4)

Bài giải

Câu 10. (1 điểm – M4)

a. Viết phép trừ số lớn nhất có hai chữ số với số bé nhất có hai chữ số rồi tính kết quả:

..... - ..... = .....

b. Cho ba chữ số: 1; 2; 3 hãy viết các số có hai chữ số khác nhau:

.....

**ĐÁP ÁN ĐỀ SỐ 022**

**Tuyển Tập 55 Đề Thi Học Kỳ II Lớp 2 Năm học 2018-2019**

***Success has only one destination, but has a lot of ways to go***

1) a) B      b) B      2) a) A      b) B

3) Mỗi câu đặt tính đúng được 0,25đ

$$5 + 33 = 38$$

$$58 - 5 = 53$$

$$42 + 24 = 66$$

$$87 - 62 = 25$$

Câu 4)

$$42 + 7 > 58 - 10$$

$$47 - 7 < 97 - 50$$

$$45 + 11 = 31 + 25$$

$$47 - 35 = 12 + 5 - 5$$

$$5) 30 \text{ cm} + 66 \text{ cm} = 96 \text{ cm}$$

$$67 - 45 - 2 = 20$$

$$69 \text{ cm} - 6 \text{ cm} = 63 \text{ cm}$$

$$42 - 40 + 8 = 10$$

$$6) 32 + 6 = 38$$

$$80 - 50 = 30$$

$$87 - 30 = 57$$

$$30 + 35 = 65$$

7) a) 3 giờ

b) 12 ngày

8) A

9) 3 chục = 30

Số chiếc xe đạp lúc đầu cửa hàng có là :  $45 + 30 = 75$  (chiếc)      Đáp số: 75 chiếc

$$10) a) 99 - 10 = 89$$

$$b) 12; 23; 21; 32; 31; 13$$

## ĐỀ SỐ 23

### I. PHẦN TRẮC NGHIỆM

*Khoanh vào chữ cái đặt trước kết quả đúng nhất trong các câu sau:*

Câu 1: (0,5 đ) Một con gà cân nặng khoảng bao nhiêu ki- lô- gam?

A. 3kg

B. 3g

C. 30g

D. 30kg

Câu 2: (0,5đ) Số gồm : 2 trăm, 0 chục, 5 đơn vị được viết là:

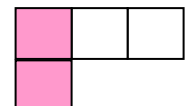

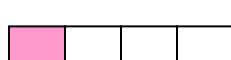

A. 205

B. 25

C. 2005

D. 250

Câu 3: (0,5 đ - M1) Hình được tô màu  $\frac{1}{3}$  số ô vuông là:



Tập 55 Đề Thi Học Kỳ II Lớp 2 Năm học 2018

**Success has only one destination, but has a lot of ways to go**

A

B

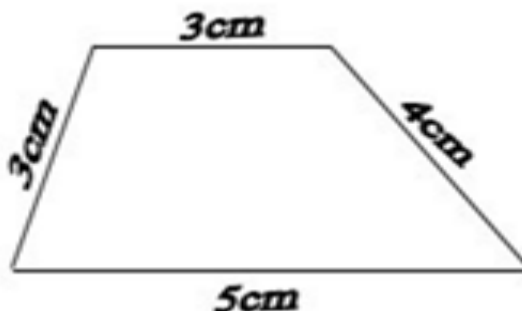
C

D

Câu 4 :(1 đ) Năm nay anh hơn em 12 tuổi. Hỏi 20 năm sau em kém anh bao nhiêu tuổi?

- A. 12 tuổi                      B. 20 tuổi                      C. 22 tuổi                      D. 32 tuổi

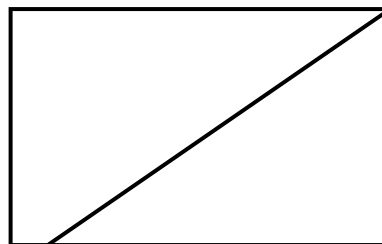
Câu 5: (0,5 đ) Hình tứ giác dưới đây có chu vi là:    A. 12cm    B. 15mm    C. 15cm    D.



15dm

Câu 6:(0,5 đ). Hình vẽ bên có:

- A. 3 hình tam giác, 1 hình tứ giác.  
 B. 2 hình tam giác, 1 hình tứ giác.  
 C. 1 hình tam giác, 2 hình tứ giác.  
 D. 1 hình tam giác, 1 hình tứ giác.



II. PHẦN TƯ LUẬN:

Câu 7: (1đ) Tính

$5 \times 6 : 3 = \dots\dots\dots$   
 $= \dots\dots\dots$

$28 : 4 \times 0 = \dots\dots\dots$   
 $= \dots\dots\dots$

Câu 8: (2 đ) Đặt tính rồi tính

$46 + 34$	$82 - 46$	$235 + 523$	$648 - 205$
.....	.....	.....	.....
.....	.....	.....	.....
.....	.....	.....	.....

Câu 9: ( 1 đ).Tìm  $x$ :

a.  $x : 4 = 7$

.....  
.....

b.  $x \times 3 = 27$

.....  
.....

Câu 10: Điền số ?

a.  $5m = \dots cm$

$1km = \dots m$

b.  $1 \text{ tuần lễ} = \dots \text{ ngày}$

$1 \text{ ngày} = \dots \text{ giờ}$

Câu 11: (1,5 đ) Giải bài toán theo tóm tắt sau:

Tóm tắt

4 túi : 32 quả cam.

1 túi : ..... quả cam?

Bài giải


**ĐÁP ÁN ĐỀ SỐ 023**

Phần	Câu	Số ý	Đáp án chi tiết	Điểm	
I. Trắc nghiệm	1		A	0,5	3,5đ
	2		A	0,5	
	3		C	0,5	
	4		A	1	

	5		C		0,5	
	6		C		0,5	
II. Tự luận	7	2	Mỗi phép tính: - Trình bày đúng : 0,25đ - Tính đúng kq: 0,25đ	$5 \times 6 : 3 = 30 : 3$ $= 10$ $28 : 4 \times 0 = 7 \times 0$ $= 0$	0,5 0,5	1đ
	8	4	Mỗi phép tính: - Đặt tính đúng mỗi phép tính: 0,25đ - Tính đúng kq mỗi phép tính: 0,25đ	80 36 758 443	0,5 0,5 0,5 0,5	2đ
	9	3	Mỗi phép tính: Viết đúng phép tính trung gian của mỗi ý: 0,25đ Viết đúng kq của mỗi ý : 0,25đ	a. $x = 7 \times 4$ $x = 28$ b. $x = 27 : 3$ $x = 9$	0,5 0,5	1đ
	10	4	a. $5m = 500 \text{ cm}$ $1\text{km} = 1000 \text{ m}$ b. $1 \text{ tuần lễ} = 7\text{ngày}$ $1 \text{ ngày} = 24 \text{ giờ}$	0,25 0,25 0,25 0,25	1đ	
	11	1	<u>Bài giải</u> Mỗi túi có số quả cam là:		0,5	1,5đ

				$32 : 4 = 8$ (quả)	0,75
				Đáp số: 8 quả cam	0,25

## ĐỀ SỐ 24

### I. PHẦN TRẮC NGHIỆM:

Câu 1: Số gồm: 6 trăm 2 chục và 3 đơn vị được viết là:

- A. 623      B. 602      C. 603      D. 632

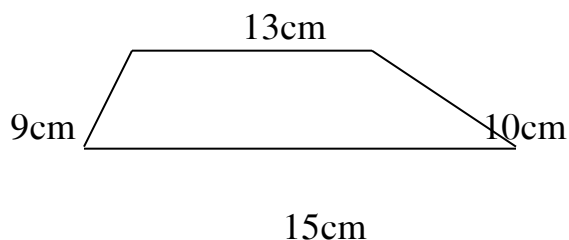
Câu 2. Số liền trước của số 800 là số:

- A. 801      B. 798      C. 799

Câu 3. Trong các số: 247 ; 347 ; 724 ; 274 số lớn nhất là:

- A. 247      B. 724      C. 274      D. 347

Câu 4. Chu vi hình tứ giác sau là:



- a. 47cm      b. 45cm      c. 46cm

Câu 5.. Số điền vào chỗ chấm  $8 \text{ dm} = \dots\dots\dots\text{cm}$  là:

- A. 10      B. 800      C. 80

Câu 6. Khoanh tròn vào chữ cái trước câu trả lời đúng.

Tuyển Tập 55 Đề Thi Học Kỳ II Lớp 2 Năm học 2018-2019

*Success has only one destination, but has a lot of ways to*





Đồng hồ chỉ mấy giờ ?

- a. 10 giờ
- b. 10 giờ 15 phút
- c. 10 giờ 30 phút

## **II. PHẦN TỰ LUẬN:**

**Câu 7.** Đặt tính rồi tính:

a)  $792 - 360$

b)  $426 + 31$

.....

.....

.....

.....

.....

.....

**Câu 8.** Tìm X

a)  $53 + X = 74$

b)  $X \times 4 = 36$

.....

.....

.....

.....

.....

.....

c)  $95 - X = 68$

d)  $35 : X = 5$

.....

.....

.....  
.....

**Câu 9.** Đàn vịt có 457 con, đàn gà có ít hơn đàn vịt 267 con. Hỏi đàn gà có bao nhiêu con ?

**Bài giải**

.....  
.....  
.....

**Câu 10.** Tìm hiệu của số tròn chục lớn nhất có hai chữ số với số chẵn lớn nhất có một chữ số.

**ĐÁP ÁN ĐỀ SỐ 024**

**I. PHẦN TRẮC NGHIỆM (5 điểm)**

<b>Câu</b>	<b>Đáp án</b>	<b>Điểm</b>
1	A	0,5 điểm
2	C	0,5 điểm
3	B	1 điểm
4	A	1 điểm
5	C	1 điểm
6	B	1 điểm

## II. PHẦN TỰ LUẬN (5 điểm)

**Câu 7.** Đặt tính rồi tính: (1đ)

a)  $792 - 360$

b)  $67 + 28$

**Kết quả: 432**

**95**

- Tính đúng mỗi phép tính được 0.5đ

- Kết quả sai nhưng đặt tính đúng thì được 0.25đ

**Câu 8.** Tìm X (2đ)

a)  $58 + X = 74$

b)  $X \times 4 = 36$

$X = 74 - 58$

$X = 36 : 4$

$X = 16$

$X = 9$

c)  $95 - X = 68$

d)  $35 : X = 5$

$X = 95 - 68$

$X = 35 : 5$

$X = 27$

$X = 7$

**Câu 9.** (1đ)

### Bài giải

Số con gà có là: (0,5 điểm)

$457 - 267 = 190$  (con gà) (0,5 điểm)

Đáp số: 190 con gà

Câu 10. (1đ)

Bài giải

Số tròn chục lớn nhất có hai chữ số là: 90

Số chẵn lớn nhất có một chữ số là: 8

Hiệu của hai số là:  $90 - 8 = 82$

**ĐỀ SỐ 25**

**I. Phần trắc nghiệm**

**Câu 1:**

a. Trong phép tính  $3 \times 6 = 18$  có:

- A. 3 là thừa số, 6 là thừa số, 18 là tích.
- B. 3 là thừa số, 18 là thừa số, 6 là tích.
- C. 3 là số hạng, 6 là số hạng, 18 là tổng.

b Tích của 5 và 4 là:

- A. 9.
- B. 20
- C. 29.
- D. 50

c. Số bị chia là 12; Số chia là 3. Lúc đó thương là:

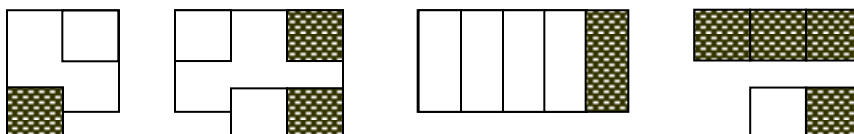
- A. 15
- B. 4
- C. 9
- D. 5

d. Điền tiếp vào dãy số còn thiếu cho phù hợp: 18, 21, 24,.....,.....

- A. 25, 26
- B. 27,28
- C. 27, 30
- D. 28, 33

**Câu 2:**

a. Hình nào có  $\frac{1}{4}$  số ô được tô màu.



Tuyển Tập 55 Đề Thi Học Kỳ II Lớp 2 Năm học 2018-2019

**Success has only one destination, but has a lot of ways to go**





**Thầy giáo Hồ Khắc Vũ – GV dạy Toán cấp I-II. SĐT: 037.858.8250 TP Tam Kỳ - Quảng Nam**  
**“Thành Công Có Duy Nhất Một Điểm Đến Nhưng Có Rất Nhiều Con Đường Để Đi”**

$$\begin{array}{lll} 5) 3 \times 6 = 18 & 4 \times 5 = 20 & 24 : 4 = 6 \\ 5 \times 7 = 35 & 2 \times 5 = 10 & 35 : 5 = 7 \\ 4 \times 9 = 36 & 36 : 4 = 9 & 18 : 3 = 6 \end{array}$$

$$\begin{array}{ll} 6) 4 \times 8 - 7 & 36 : 4 + 19 \\ = 32 - 7 & = 9 + 19 \\ = 25 & = 28 \end{array}$$

$$\begin{array}{ll} 7) 3 \times x = 21 & x : 6 = 4 \\ x = 21 : 3 & x = 4 \times 6 \\ x = 7 & x = 24 \end{array}$$

8) Số quyển truyện 8 học sinh mượn là :  $3 \times 8 = 24$  (quyển truyện)

Đáp số: 24 quyển truyện

Bài 9. Đường gấp khúc có tên : *CDEG* Đường gấp khúc có độ dài : 9 cm

## ĐỀ SỐ 26

### I. TRẮC NGHIỆM (7 điểm)

**Khoanh vào chữ cái trước kết quả đúng:**

**Câu 1.** . (0,5 điểm) Số 815 đọc là :

A. Tám trăm mười năm.    **B. Tám trăm mười lăm.**    C. Tám trăm năm

**Câu 2.** . (0,5 điểm) Chín trăm hai mươi bảy được viết là :

A. 227                      B. 937                      **C. 927**                      D. 717

**Câu 3.** (0,5 điểm) Đúng ghi **Đ**, sai ghi **S** vào ô trống:

$$\begin{array}{llll} \text{a)} \begin{array}{r} 24 \\ + \\ \hline 9 \end{array} & \text{b)} \begin{array}{r} 45 \\ - \\ \hline 9 \end{array} & \text{c)} \begin{array}{r} 5 \\ \times \\ \hline 4 \end{array} & \text{d)} \begin{array}{r} 76 \\ - \\ \hline 9 \end{array} \end{array}$$

**Tuyển Tập 55 Đề Thi Học Kỳ II Lớp 2 Năm học 2018-2019**

***Success has only one destination, but has a lot of ways to go***

33

46

25

67

**Câu 4:** (0,5 điểm) Số tròn chục liền sau 80 là:

A. 90

B. 79

C. 70

D. 81

**Câu 5:** (0,5 điểm) Số liền trước của số 80 là:

A. 82

B. 81

C. 79

D. 78

**Câu 6.** (0,5 điểm) Kết quả đúng của  $x - 34 = 10$  là:

A. 54

B. 44

C. 34

D. 24

**Câu 7.** (0,5 điểm) Kết quả phép tính  $71 - 29$  là:

A. 52

B. 43

C. 42

D. 32

**Câu 8** (0,5 điểm) Kết quả phép tính  $21 : 3 + 20$  là:

A. 27

B. 33

C. 23

D. 63

**Câu 9.** (0,5 điểm) Số thích hợp để điền vào chỗ chấm là:  $40 \text{ dm} = \dots \text{ m}$

A. 40m

B. 400m

C. 4 m

D. 4000m

**Câu 10.** (0,5 điểm) Biết độ dài các cạnh là:  $AB = 25\text{cm}$ ;  $BC = 20\text{cm}$ ;  $AC = 35\text{cm}$ .

Chu vi hình tam giác là:

A. 80cm

B. 100cm


C. 8 dm

D. 800 cm

**Câu 11:** (1 điểm) Hình bên có mấy hình chữ nhật ?

A. 2 hình chữ nhật

B. 3 hình chữ nhật





- C. 4 hình chữ nhật  
D. 5 hình chữ nhật

**Câu 12.** (1 điểm) Thùng thứ nhất có 18 l dầu, thùng thứ hai có nhiều hơn thùng thứ nhất 4l dầu. Thùng thứ hai có số lít dầu là:

- A. 12l                      B. 22l                      C. 32 l                      D. 14 l

**II. TỰ LUẬN: (3 điểm)**

**Câu 1. Tính (1,5điểm)**

$$532 + 246$$

$$486 - 36$$

$$86 - 39$$

.....

.....

.....

.....

**Câu 2:** (0,5 điểm) Điền dấu thích hợp ( $>$  ;  $<$  ;  $=$  ) vào chỗ chấm.

$$6 + 8 \dots\dots 18 - 3$$

$$7 + 5 \dots 4 \times 3$$

**Câu 3. (1 điểm)**

Việt có số bi là số liền sau của số 44 , đem chia đều cho 5 bạn. Hỏi mỗi bạn được mấy viên bi?

*Bài giải*

**HƯỚNG DẪN CHẤM BÀI KIỂM TRA**

**CUỐI HỌC NĂM HỌC**

**Năm học: 2016 – 2017**

**ĐÁP ÁN ĐỀ SỐ 26**

**Môn: Toán – Lớp 2**

---

**I. TRẮC NGHIỆM (7 điểm) Khoanh vào chữ trước câu trả lời đúng**

Câu	Đáp án	Điểm	Câu	Đáp án	Điểm
1	B	0,5	7	C	0,5
2	C	0,5	8	A	0,5
3	A.đ; B.s; C.đ; D.s	0,5	9	C	0,5
4	A	0,5	10	A	0,5
5	C	0,5	11	D	1
6	B	0,5	12	B	1

**II. TỰ LUẬN: (3 điểm)**

**Câu 1. (1 điểm)** Mỗi phép tính đúng được 0,5 điểm.

**Thầy giáo Hồ Khắc Vũ – GV dạy Toán cấp I-II. SĐT: 037.858.8250 TP Tam Kỳ - Quảng Nam**  
**“Thành Công Có Duy Nhất Một Điểm Đến Nhưng Có Rất Nhiều Con Đường Để Đi”**

$\begin{array}{r} + 532 \\ \hline \end{array}$	$\begin{array}{r} - 486 \\ \hline \end{array}$
$\begin{array}{r} 246 \\ \hline \end{array}$	$\begin{array}{r} 36 \\ \hline \end{array}$
$778$	$450$

**Câu 2:** (1 điểm) Điền dấu. Mỗi phép tính đúng được 0,5 điểm.

$$6 + 8 < 18$$

$$7 + 5 = 5 + 7$$

**Câu 2. (1 điểm)**

Bài giải

Mỗi bạn được số viên bi là: (0,25 điểm)

$$50 : 5 = 10 \text{ (viên bi)} \quad (0,5 \text{ điểm})$$

Đáp số: 10 viên bi (0,25 điểm)

(Học sinh có lời giải khác đúng vẫn cho điểm)

**ĐỀ SỐ 27**

*Em hãy chọn và khoanh tròn chữ cái trước kết quả đúng cho mỗi câu hỏi dưới đây:*

**Câu 1.** (1,0 điểm):

a) Số liền sau của 432 là:

A. 431

B. 433

C. 434

b) Giá trị của chữ số 7 trong số 753 là:

A. 700

B. 70

C. 7

**Câu 2.** (1,0 điểm)

a): Số 565 đọc là:

A. Năm trăm năm mươi sáu.

B. Năm trăm sáu lăm

C. Năm trăm sáu mươi lăm

b): Ba trăm hai mươi tám viết là:

A. 382

B. 328

C. 308

**Câu 3.** (1,0 điểm)

a) Lúc 8 giờ đúng,

A. Kim ngắn chỉ số 8, kim dài chỉ số 12

B. Kim ngắn chỉ số 8, kim dài chỉ số 6

C. Kim ngắn chỉ số 8, kim dài chỉ số 3

b) Kết quả của phép tính :  $10 \text{ kg} + 36 \text{ kg} - 21 \text{ kg} = \dots \text{kg}$

A. 24kg

B. 25kg

C. 26kg



$$X \times 5 = 15$$

$$X : 2 = 9$$

.....

.....

.....

.....

**Câu 8.** Đặt tính rồi tính :

a/  $25 + 37$

b/  $639 + 20$

c/  $328 - 106$

d/  $82 - 44$

.....

.....

.....

.....

.....

.....

.....

.....

.....

.....

.....

.....

**Câu 9.** (1,0 đ)

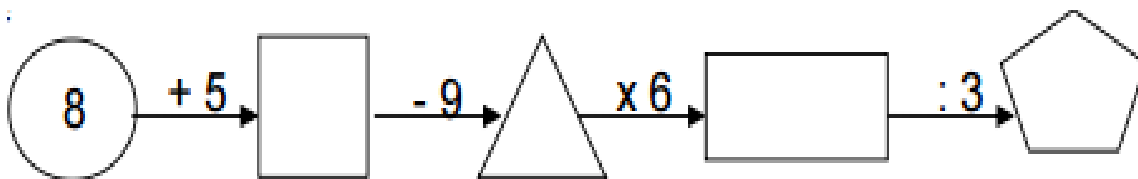
a)  $7\text{cm} = \dots\dots\dots\text{mm}$

b)  $5\text{ m} = \dots\dots\dots\text{ cm}$

c)  $\dots\dots\dots\text{ m} = 1\text{km}$

d)  $1\text{m} = \dots\dots\dots\text{ dm}$

**Câu 10.** (1,0 đ)



**ĐÁP ÁN ĐỀ SỐ 027**

- 1) a) B      b) A  
2) a) C      b) B  
3) a) A      b) B  
4) a) C      b) B  
5) A      6) C

Câu 7.

a)  $3 \times 5 = 15$        $15 : 3 = 5$        $4 \times 7 = 28$        $24 : 4 = 6$        $18 : 2 = 9$

b)

$x \times 5 = 15$	$x : 2 = 9$
$x = 15 : 5$	$x = 9 \times 2$
$x = 3$	$x = 18$

Câu 8. Mỗi câu đặt tính đúng được điểm tối đa

a)  $25 + 37 = 62$       b)  $639 + 20 = 659$   
c)  $328 - 106 = 222$       d)  $82 - 44 = 38$

Câu 9

a)  $7\text{cm} = 70\text{mm}$       b)  $5\text{m} = 500\text{cm}$   
c)  $1000\text{m} = 1\text{km}$       d)  $1\text{m} = 10\text{dm}$

Câu 10  $8 + 5 = 13 - 9 = 4 \times 6 = 24 : 3 = 8$

**ĐỀ SỐ 28**

**Phần 1: Trắc nghiệm (4 điểm)**

Khoanh tròn vào chữ cái đặt trước đáp án đúng.

**Câu 1:** (1 điểm) Trong các số sau: 345, 235, 354, 253. Số lớn nhất là

- A. 354      B. 253      C. 345      D. 235

**Câu 2:** (1 điểm) Dãy tính  $4 \times 5 - 2$  có kết quả là:

Tuyển Tập 55 Đề Thi Học Kỳ II Lớp 2 Năm học 2018-2019

***Success has only one destination, but has a lot of ways to go***


- A. 22      B. 20      C. 12      D. 18

**Câu 3:** (1 điểm) Thứ năm tuần này là ngày 10 tháng 5. Hỏi thứ năm tuần sau là ngày bao nhiêu tháng 5?

- A. 9      B. 17      C. 3

**Câu 4:** (0.5 điểm) Khoanh vào chữ đặt trước câu trả lời đúng:

- A. 2 hình tam giác và 2 hình tứ giác  
B. 2 hình tam giác và 3 hình tứ giác  
C. 2 hình tam giác và 4 hình tứ giác



**Câu 5:** (0.5 điểm) Tìm X

$$X : 2 = 10$$

- A.  $X = 5$       B.  $X = 8$       C.  $X = 20$

## II. Phần tự luận (6 điểm)

**Câu 1:** Đặt tính rồi tính (2 điểm)

$342 + 254$

$789 - 436$

$68 + 17$

$92 - 46$


**Câu 2:** Tính (1 điểm)

$3 \times 8 - 12 =$

$36 : 4 + 81 =$

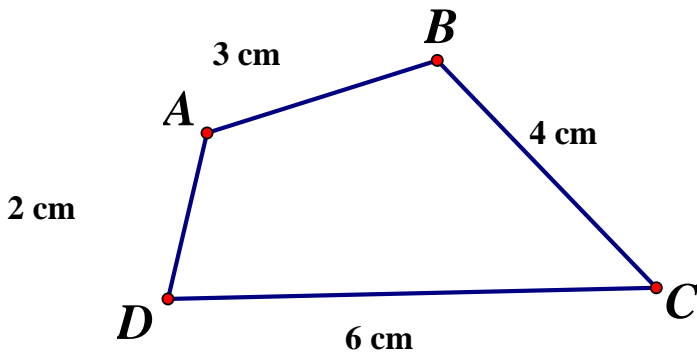



**Câu 3: (1 điểm)**

Mỗi bạn cắt được 3 ngôi sao. Hỏi 6 bạn cắt được tất cả bao nhiêu ngôi sao?

**Bài giải**


**Câu 4: (1 điểm)** Cho hình tứ giác ABCD như hình vẽ:



Tính chu vi của hình tứ giác ABCD.

**Bài giải**


**Câu 5:** (1 điểm) Điền số còn thiếu vào chỗ chấm.

a) 211, 212, ....., ....., ....., 216.

b) 420, 430, ....., ....., ....., 470.

### **ĐÁP ÁN ĐỀ SỐ 028**

#### **I. TRẮC NGHIỆM**

1.A    2.D    3.B    4.C    5.C

#### **II. TỰ LUẬN**

1) Mỗi câu đặt tính đúng được 0,5đ

$$342 + 254 = 596 \qquad 789 - 436 = 353$$

$$68 + 17 = 85 \qquad 92 - 46 = 46$$

Câu 2.

$$3 \times 8 - 12 = 24 - 12 = 12$$

$$36 : 4 + 81 = 9 + 81 = 90$$

Câu 3. Số ngôi sao 6 bạn cắt là :  $3 \times 6 = 18$  (ngôi sao)      Đáp số: 18 ngôi sao

Câu 4. Chu vi tứ giác ABCD :  $2 + 3 + 4 + 6 = 15$  (cm)

Câu 5.

a) 211; 212; 213; 214; 215; 216

b) 420; 430; 440; 450; 460; 470

ĐỀ SỐ 29

**PHẦN I: BÀI TẬP TRẮC NGHIỆM**

**Câu 1:** Khoanh vào chữ đặt trước câu trả lời đúng:

Tổng  $4 + 4 + 4 + 4 + 4$  được viết dưới dạng tích là:

- A.  $5 \times 4$                       B.  $4 \times 5$                       C.  $4 \times 4$                       D.  $4 \times 6$

**Câu 2:** Khoanh vào chữ đặt trước kết quả đúng:

Mẹ mua 24 cái bánh xếp đều vào 3 đĩa. Hỏi mỗi đĩa có mấy cái bánh?

- A. 6 cái bánh.                      B. 7 cái bánh.                      C. 8 cái bánh.                      D. 9 cái bánh.

**Câu 3:** Đúng ghi Đ, sai ghi S

$109 > 110$      

$103 < 105$      

$135 > 125$      

$199 > 200$      

**PHẦN II: TRÌNH BÀY BÀI GIẢI CÁC BÀI TOÁN SAU:**

**Câu 1:** Tính(1,5đ)

$18 + 25 = \dots\dots$        $48 - 35 = \dots\dots$        $24 : 4 = \dots\dots$        $3 \times 6 = \dots\dots$

**Câu 2:** Tính (1,5đ)

$$3 \times 6 + 29 = \dots\dots\dots \quad 0 : 4 + 9 = \dots\dots\dots \quad 4 : 4 \times 0 = \dots\dots\dots$$
$$= \dots\dots\dots \quad = \dots\dots\dots \quad = \dots\dots\dots$$

**Câu 3:** Viết các số tròn chục từ 110 đến 200 (1đ)

.....  
.....  
.....

**Câu 4:** Có 30 bút chì xếp vào các hộp ,mỗi hộp xếp 5 bút chì . Hỏi xếp được bao nhiêu hộp ?  
(1đ)

.....  
.....  
.....  
.....  
.....

### ĐÁP ÁN ĐỀ SỐ 029

1.B    2.C    3. S – Đ – Đ – S

### II. TỰ LUẬN

Câu 1.  $18 + 25 = 43$                    $48 - 35 = 13$                    $24 : 4 = 6$                    $3 \times 6 = 18$

Câu 2

$3 \times 6 + 29$	$0 : 4 + 9$	$4 : 4 \times 0$
$= 18 + 29$	$= 0 + 9$	$= 1 \times 0$
$= 47$	$= 9$	$= 0$

Câu 3. 110;120;130;140;150;160;170;180;190; 200

Tuyển Tập 55 Đề Thi Học Kỳ II Lớp 2 Năm học 2018-2019

*Success has only one destination, but has a lot of ways to go*

Câu 4. Số hộp xếp được là :  $30:5=6$  (hộp)                      Đáp số: 6 hộp

### **ĐỀ SỐ 30**

**Câu 1.** Hãy khoanh vào trước cách đọc đúng: (1 điểm – M1)

a. Số 74 đọc là:

- A. Bảy bốn                      B. Bảy mươi tư  
C. Bảy tư                        D. Bảy mươi tư

b. Số "tám mươi hai" viết là:

- A. 802                      B. 82                      C. 28                      D. 208

**Câu 2.** Khoanh vào đáp án đúng: (1 điểm – M1)

a. Các số cần điền vào chỗ chấm:  $74 < \dots, \dots < 77$  là:

- A. 75; 76                      B. 78; 79                      C. 76; 75                      D. 76; 77

b. Thứ tự các số 95, 87, 78, 98, 69 từ bé đến lớn là:

- A. 95, 87, 78, 98, 69                      B. 69, 78, 87, 95, 98  
C. 69, 98, 95, 87, 78                      D. 98, 95, 78, 87, 69

**Câu 3.** Đặt tính rồi tính (1 điểm – M2)

$$5 + 33$$

$$58 - 5$$

$$42 + 24$$

$$87 - 62$$

**Câu 4.** Điền dấu  $>$ ,  $<$ ,  $=$ , thích hợp vào ô trống: (1 điểm – M2)

$$42 + 7 \square 58 - 10$$

$$47 - 7 \square 97 - 50$$

$$45 + 11 \square 31 + 25$$

$$47 - 35 \square 12 + 5 - 5$$

**Câu 5.** Tính. (1 điểm – M2)

$$30 \text{ cm} + 66 \text{ cm} = \dots\dots$$

$$67 - 45 - 2 = \dots\dots$$

$$69 \text{ cm} - 6 \text{ cm} = \dots\dots\dots$$

$$42 - 40 + 8 = \dots\dots$$

**Câu 6.** Số? (1 điểm – M3)

$$\dots\dots + 6 = 38$$

$$80 - \dots\dots = 30$$

$$87 - \dots\dots = 57$$

$$\dots + \dots = 65$$

**Câu 7.** (1 điểm - M3)

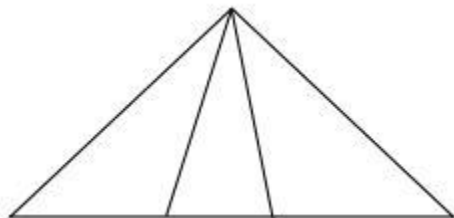
a, Ô tô bắt đầu chạy lúc 7 giờ từ Yên Bái và đến Hà Nội lúc 10 giờ. Hỏi từ Yên Bái đến Hà Nội ô tô chạy hết tất cả mấy giờ?

Trả lời: Ô tô đi từ Yên Bái đến Hà Nội hết tất cả ..... giờ.

b, Mẹ đi công tác 19 ngày. Mẹ đã ở đó 1 tuần lễ. Hỏi mẹ còn phải ở đó mấy ngày nữa?

Trả lời: Mẹ còn ở đó .... ngày nữa.

**Câu 8.** Khoanh vào chữ cái trước đáp án đúng: (1 điểm - M3)



a) Có 6 hình tam giác

b) Có 5 hình tam giác

c) Có 4 hình tam giác

**Câu 9.** Sau khi cửa hàng bán được 3 chục chiếc xe đạp, thì còn lại 45 chiếc xe đạp. Hỏi lúc đầu cửa hàng có bao nhiêu chiếc xe đạp? (1 điểm – M4)

Bài giải

Câu 10. (1 điểm – M4)

a. Viết phép trừ số lớn nhất có hai chữ số với số bé nhất có hai chữ số rồi tính kết quả:

..... - ..... = .....

b. Cho ba chữ số: 1; 2; 3 hãy viết các số có hai chữ số khác nhau:

.....

### **ĐÁP ÁN ĐỀ SỐ 030**

1) a) B      b) B      2) a) A      b) B

3) Mỗi câu đặt tính đúng được 0,25đ

$$5 + 33 = 38$$

$$58 - 5 = 53$$

$$42 + 24 = 66$$

$$87 - 62 = 25$$

Câu 4)

$$42 + 7 > 58 - 10$$

$$47 - 7 < 97 - 50$$

$$45 + 11 = 31 + 25$$

$$47 - 35 = 12 + 5 - 5$$

$$5) 30 \text{ cm} + 66 \text{ cm} = 96 \text{ cm}$$

$$67 - 45 - 2 = 20$$

$$69 \text{ cm} - 6 \text{ cm} = 63 \text{ cm}$$

$$42 - 40 + 8 = 10$$

$$6) 32 + 6 = 38$$

$$80 - 50 = 30$$

$$87 - 30 = 57$$

$$30 + 35 = 65$$

7) a) 3 giờ

b) 12 ngày

8) A

9) 3 chục = 30

Số chiếc xe đạp lúc đầu cửa hàng có là :  $45 + 30 = 75$  (chiếc )

Đáp số: 75 chiếc

$$10) a) 99 - 10 = 89$$

b) 12; 23; 21; 32; 31; 13

**Tuyển Tập 55 Đề Thi Học Kỳ II Lớp 2 Năm học 2018-2019**

***Success has only one destination, but has a lot of ways to go***

**Thầy giáo Hồ Khắc Vũ – GV dạy Toán cấp I-II. Sđt: 037.858.8250 TP Tam Kỳ - Quảng Nam**  
**“Thành Công Có Duy Nhất Một Điểm Đến Nhưng Có Rất Nhiều Con Đường Để Đi”**

**Tuyển Tập 55 Đề Thi Học Kỳ II Lớp 2 Năm học 2018-2019**  
***Success has only one destination, but has a lot of ways to go***