

Thầy giáo Hồ Khắc Vũ – GV dạy Toán cấp I-II. SĐT: 037.858.8250 TP Tam Kỳ - Quảng Nam
“Thành Công Có Duy Nhất Một Điểm Đến Nhưng Có Rất Nhiều Con Đường Để Đi”

TUYỂN TẬP

55 ĐỀ THI HỌC KỲ II LỚP 3 - MÔN TOÁN

Tập 01: 001-030



hokhacvu

Tam Kỳ-Quảng Nam, tháng 02-2019

Tuyển Tập 55 Đề Thi Học Kỳ II Lớp 3 Năm học 2018-2019
Success has only one destination, but has a lot of ways to go

ĐỀ SỐ 001

phần 1:(Trắc nghiệm) Mỗi bài tập dưới đây có kèm theo một câu trả lời A, B,C, D

(là đáp số , kết quả tính). Hãy khoanh vào chữ đặt trước câu trả lời đúng:

1/ Số lớn nhất trong các số 9788; 9887; 7889; 7988 là:

- A. 9788 B. 9887 C. 7889 D. 7988

2/ Số liền sau của số 9999:

- A. 1000 B. 10000 C. 100000 d. 9998

3/ Ngày 27 tháng 5 năm 2016 là thứ sáu thì ngày 3 tháng 6 cùng năm đó là thứ mấy?

- A. Thứ tư B. Thứ năm C. Thứ sáu D. Thứ bảy

4/ Một hình tròn có tâm I có bán kính là 6 cm. Đường kính của hình tròn là:

- A. 10 cm B. 12 cm C. 20cm D. 25 cm

5/ Một hình vuông ABCD có chu vi là 40 cm. tìm cạnh hình vuông đó.

- A. 20 cm B. 15 cm C. 144 cm D. 10 cm

.../ 7 điểm Phần II: (Tự luận)

Bài 1: Đặt tính rồi tính:

.../ 2 điểm a) $18229+35754$ b) $7982-3083$ c) 24043×4 d) $3575 : 5$

.....

.....

.....

.....

.....

Bài 2: Tính:

.../ 2 điểm a) $99637 - 12403 \times 8$

b) $X \times 3 = 18726$

.....
.....
.....

Bài 3:

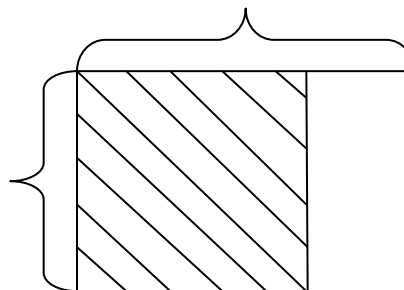
.../ 2 điểm Các phòng học đều được lắp số quạt trần như nhau. Biết 10 phòng học lắp 40 cái quạt trần. Hỏi có 32 cái quạt trần thì lắp được mấy phòng học?

Bài giải

.....
.....
.....
.....
.....

Bài 4:

.../ 1 điểm Một tấm bìa hình chữ nhật có chiều dài 50 cm, chiều rộng 40 cm. người ta cắt lấy ra một hình vuông có cạnh bằng chiều rộng tấm bìa. Tính diện tích tấm bìa còn lại?



ĐÁP ÁN ĐỀ SỐ 001

I. TRẮC NGHIỆM 1.B 2.B 3.B 4.B 5.D

II. TỰ LUẬN

1) Mỗi câu đặt tính đúng được 0,5đ

a) $18229 + 35754 = 53983$

b) $7982 - 3083 = 4899$

c) $24043 \times 4 = 96172$

d) $3575 : 5 = 715$

Bài 2

a) $99637 - 12403 \times 8$

$= 99637 - 99224$

$= 413$

b) $x \times 3 = 18726$

$x = 18726 : 3$

$x = 6242$

Bài 3. Số quạt trần 1 phòng lắp là: $40 : 10 = 4$ (cái quạt)

Số phòng 32 cái quạt trần lắp là: $32 : 4 = 8$ (phòng)

Đáp số: 8 phòng

Bài 4. Diện tích miếng bìa là: $50 \times 40 = 2000 (cm^2)$

Diện tích hình vuông đã cắt ra là: $40 \times 40 = 1600 (cm^2)$

Diện tích còn lại là: $2000 - 1600 = 400 (cm^2)$

Đáp số: $400 cm^2$

ĐỀ SỐ 002

PHẦN I: TRẮC NGHIỆM (3 ĐIỂM)

Khoanh vào chữ đặt trước kết quả đúng

1. Kết quả của phép cộng $46\ 287 + 37\ 605$ là: (0,5đ)

A. 83 882

B. 83 892

C. 73 883

D. 73 892

2. Số gồm 5 chục nghìn, 6 nghìn, 6 chục, 8 đơn vị viết là: (0,5đ)

Tuyển Tập 55 Đề Thi Học Kỳ II Lớp 3 Năm học 2018-2019

Success has only one destination, but has a lot of ways to go

Thầy giáo Hồ Khắc Vũ – GV dạy Toán cấp I-II. SĐT: 037.858.8250 TP Tam Kỳ - Quảng Nam
“Thành Công Có Duy Nhất Một Điểm Đến Nhưng Có Rất Nhiều Con Đường Để Đi”

- A. 5 668 B. 50 668 C. 56 068 D. 56 608

3. Kết quả tính $7 \times 9 + 108$ là: (1điểm)

- A. 63 B. 738 C. 171 D. 161

4. Có 48 cái cốc đóng đều vào các hộp, mỗi hộp 6 cái. Đóng được số hộp là (1điểm)

- A. 6 hộp B. 7 hộp C. 8 hộp D. 9 hộp

PHẦN II: TỰ LUẬN (7 điểm)

Bài 1: (2 điểm) Đặt tính rồi tính

$21375 + 483$

$83516 - 4345$

10314×5

$18544 : 8$

.....

.....

.....

.....

.....

.....

.....

.....

.....

.....

.....

.....

Bài 2: (1 điểm) Tính giá trị biểu thức:

$10\,244 + 43\,217 \times 2 =$

.....

Bài 3: (1 điểm) Tìm x

$x \times 3 = 1791$

$x : 3 = 27\,083$

.....

.....

.....

.....

.....

.....

Bài 4: (2 điểm) Một mảnh vườn hình chữ nhật có chiều dài là 16cm, chiều rộng bằng $\frac{1}{2}$ chiều dài. Tính diện tích của mảnh vườn đó.

Tóm tắt

Bài giải

.....

Bài 5: (1 điểm) Viết chữ số thích hợp vào ô trống.

3	1	
x		3
	3	6

ĐÁP ÁN ĐỀ SỐ 02

PHẦN I: TRẮC NGHIỆM (3 ĐIỂM)

Khoanh vào chữ đặt trước kết quả đúng

2. Kết quả của phép cộng $46287 + 37605$ là: **(0,5đ)**

- A. 83 882 B. 83 892 C. 73 883 D. 73 892

2. Số gồm 5 chục nghìn , 6 nghìn , 6 chục , 8 đơn vị viết là : **(0,5đ)**

- A. 5 668 B. 50 668 C. 56 068 D. 56 608

5. Kết quả tính $7 \times 9 + 108$ là: **(1đ)**

- A. 63 B. 738 C. 171 D. 161

6. Có 48 cái cốc đóng đều vào các hộp , mỗi hộp 6 cái . Đóng được số hộp là : **(1đ)**

- A. 6 hộp B. 7 hộp C. 8 hộp D. 9 hộp

PHẦN II: TỰ LUẬN (7 điểm)

Bài 1: **(2 điểm)** Đặt tính rồi tính

$$\begin{array}{r} 21375 + 483 \\ 21375 \\ + \quad 483 \\ \hline 21858 \end{array}$$

$$\begin{array}{r} 83516 - 4345 \\ 83516 \\ - \quad 4345 \\ \hline 79171 \end{array}$$

$$\begin{array}{r} 10314 \times 5 \\ 10314 \\ \times \quad 5 \\ \hline 51570 \end{array}$$

$$\begin{array}{r} 18544 : 8 \\ 18544 \quad | \quad 4 \\ \hline 25 \quad | \quad 4636 \\ 14 \quad | \\ \hline 24 \quad | \\ \hline 0 \end{array}$$

Bài 2: **(1 điểm)** Tính giá trị biểu thức:

Tuyển Tập 55 Đề Thi Học Kỳ II Lớp 3 Năm học 2018-2019
Success has only one destination, but has a lot of ways to go

Thầy giáo Hồ Khắc Vũ – GV dạy Toán cấp I-II. SĐT: 037.858.8250 TP Tam Kỳ - Quảng Nam
“Thành Công Có Duy Nhất Một Điểm Đến Nhưng Có Rất Nhiều Con Đường Để Đi”

$$10\,244 + 43\,217 \times 2 = 10\,244 + 86\,434 \\ = 96\,678$$

Bài 3: (1 điểm) Tìm x

$$x \times 3 = 1791 \\ x = 1791 : 3 \\ x = 597$$

$$x : 3 = 27\,083 \\ x = 27\,083 \times 3 \\ x = 81\,249$$

Bài 4: (2 điểm) Một hình chữ nhật có chiều dài là 16cm, chiều rộng bằng $\frac{1}{2}$ chiều dài. Tính diện tích của mảnh vườn đó.

Tóm tắt (0,25)

Bài giải

Chiều dài : 16 cm

Chiều dài mảnh vườn đó là: (0,25đ)

Chiều rộng : bằng $\frac{1}{2}$ chiều dài

$$16 : 2 = 8 \text{ (cm)} \quad (0,5đ)$$

Diện tích : ...cm²

Diện tích mảnh vườn đó là: (0,25đ)

$$16 \times 8 = 128 \text{ (cm}^2\text{)} \quad (0,5đ)$$

Đáp số: 128 (cm²) (0,25đ)

Bài 5 : (1 điểm) Viết chữ số thích hợp vào ô trống.

3	1	2
x		3
9	3	6

ĐỀ SỐ 003

Câu 1: (1 điểm) Khoanh tròn chữ cái đặt trước câu trả lời đúng

a) Số lớn nhất có 3 chữ số là:

- A. 998 B. 890 C. 999 D. 900

Tuyển Tập 55 Đề Thi Học Kỳ II Lớp 3 Năm học 2018-2019
Success has only one destination, but has a lot of ways to go

b) Chữ số 5 trong số 153 có giá trị là :

- A. 50 B. 310 C. 3 D. 10

Câu 2: Điền dấu > , < , = vào chỗ chấm (1 điểm)

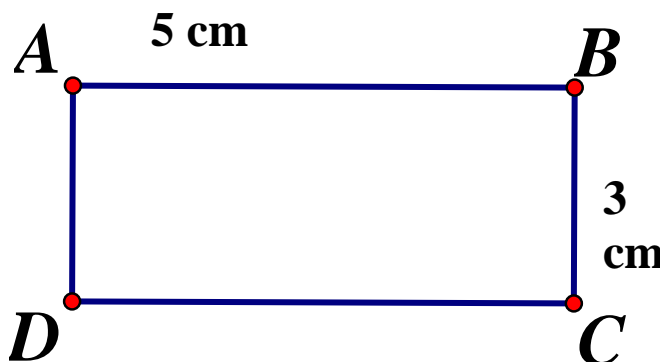
$62971 \dots 6205$

$10819 \dots 10891$

$50000 \dots 58000 + 1000$

$9300 - 300 \dots 8000 + 1000$

Câu 3: (1 điểm). Hình chữ nhật ABCD có kích thước như trên hình vẽ dưới đây:



a) Chu vi hình chữ nhật ABCD là:

A. 12cm B. 36cm

C. 16cm D. 20cm

Diện tích hình chữ nhật là ABCD là:

A. 36 cm² B. 16cm²

C. 15cm² D. 48cm²

Câu 4. (1 điểm) Đúng ghi Đ sai ghi S vào :

$14 \times 3 : 7 = 6 \quad \text{$

$175 - (30 + 20) = 120 \quad \text{$

Câu 5 . (2 điểm) Đặt tính rồi tính:

$30\,472 + 61\,806$

$91\,752 - 6\,328$

$5\,143 \times 3$

$7\,014 : 7$

.....

.....

.....

.....

.....

.....

.....

.....

Thầy giáo Hồ Khắc Vũ – GV dạy Toán cấp I-II. SĐT: 037.858.8250 TP Tam Kỳ - Quảng Nam
“Thành Công Có Duy Nhất Một Điểm Đến Nhưng Có Rất Nhiều Con Đường Để Đi”

.....
.....
.....
.....

Câu 6. (1 điểm) Tìm X:

a) $X \times 2 = 1\ 846$

b) $X : 6 = 456$

.....
.....
.....

Câu 7. (1 điểm)

Một tấm bìa hình chữ nhật có chiều rộng 7 cm, chiều dài 12 cm. Tính diện tích miếng bìa đó?

Bài giải

.....
.....
.....
.....
.....

Câu 8. (2 điểm)

Tuyển Tập 55 Đề Thi Học Kỳ II Lớp 3 Năm học 2018-2019
Success has only one destination, but has a lot of ways to go

Có 45 kg đậu đũa đều trong 9 túi. Hỏi có 20 kg đậu đũa trong mấy túi như thế?

Bài giải

.....
.....
.....
.....
.....

ĐÁP ÁN ĐỀ 003

Câu 1. (1 điểm)

a. Điền đúng được 0,5 điểm.

Câu C. 999

b. Điền đúng được 0,5 điểm.

Câu A. 50

Câu 2. (1 điểm) Mỗi ý đúng được 0,25 điểm

$$62971 > 6205$$

$$10819 < 10891$$

$$50000 < 58000 + 1000$$

$$9300 - 300 = 8000 + 1000$$

Câu 3: (1 điểm). HS xác định đúng mỗi ý được 0,5 điểm.

a) Chu vi hình chữ nhật ABCD là: **c. 16cm**

b) Diện tích hình chữ nhật là ABCD là: **C. 15cm²**

Câu 4. (1 điểm) HS xác định đúng ghi **Đ** sai ghi **S** vào mỗi phép tính được 0,5 điểm. Đáp án đúng là :

Thầy giáo Hồ Khắc Vũ – GV dạy Toán cấp I-II. SĐT: 037.858.8250 TP Tam Kỳ - Quảng Nam
“Thành Công Có Duy Nhất Một Điểm Đến Nhưng Có Rất Nhiều Con Đường Để Đi”

$$14 \times 3 : 7 = 6$$

$$175 - (30 + 20) = 120$$

Câu 5. (2 điểm) Đặt tính rồi tính:

Mỗi phép tính đúng được 0,5 điểm

a. $30\,472 + 61\,806$

$$\begin{array}{r} 30472 \\ + \\ + 61806 \\ \hline 92278 \end{array}$$

b. $91\,752 - 6\,328$

$$\begin{array}{r} 91752 \\ - \\ - 6328 \\ \hline 85424 \end{array}$$

c. $5\,143 \times 3$

$$\begin{array}{r} 5143 \\ \times \\ \quad 3 \\ \hline 15429 \end{array}$$

d. $7\,014 : 7$

$$\begin{array}{r|l} 7014 & 7 \\ \hline 00 & 1002 \\ 014 & \\ \hline 0 & \end{array}$$

Câu 6. (1 điểm) HS thực hiện đúng mỗi câu được 0,5 điểm

a) $X \times 2 = 1\,846$

$$X = 1\,846 : 2$$

$$X = 923$$

b) $X : 6 = 456$

$$X = 456 \times 6$$

$$X = 2\,736$$

Câu 7. (1 điểm)

Diện tích miếng bìa: $0,25 \text{ đ}$

$$5 \times 14 = 84 \text{ (cm}^2\text{)} \quad 0,5 \text{ đ}$$

Đáp số: 84 cm^2 $0,25 \text{ đ}$

Câu 8. (2 điểm)

Bài giải

Mỗi túi đựng được: (0,5 điểm)

$$45 : 9 = 5 \text{ (kg)} \text{ (0,5 điểm)}$$

Số túi đựng 20kg đậu là: (0,5 điểm)

$$20 : 5 = 4 \text{ (túi)} \text{ (0,5 điểm)}$$

Đáp số: 4 túi.

ĐỀ SỐ 004

Thầy giáo Hồ Khắc Vũ – GV dạy Toán cấp I-II. SĐT: 037.858.8250 TP Tam Kỳ - Quảng Nam
“Thành Công Có Duy Nhất Một Điểm Đến Nhưng Có Rất Nhiều Con Đường Để Đi”

A. PHẦN TRẮC NGHIỆM (3 điểm)

Khoanh vào đáp án đúng:

Câu 1 (1 điểm) Cho một hình vuông có cạnh 3 cm, một hình chữ nhật có chiều dài 4 cm, chiều rộng 2 cm.

- A. Chu vi hình vuông bằng chu vi hình chữ nhật
- B. Diện tích hình vuông bằng diện tích hình chữ nhật
- C. Diện tích hình vuông nhỏ hơn diện tích hình chữ nhật
- D. Diện tích hình vuông lớn hơn diện tích hình chữ nhật

Câu 2 (2 đ):

a, Tổng của số chẵn lớn nhất có ba chữ số và số bé nhất có hai chữ số là:

- A. 1000
- B. 1008
- C. 1009
- D. 1108

b, Số dư trong phép chia $12327 : 5$ là :

- A. 2
- B. 3
- C. 4
- D. 5

B. Phần tự luận (7 điểm).

Câu 1 (2 điểm). Đặt tính rồi tính:

- a, $15\ 281 + 68\ 254$
 - b, $12\ 198 \times 4$
 - c, $42\ 190 - 9868$
 - d, $45\ 325 : 5$
-
-
-

Câu 2 (2 điểm) Tìm m :

- a) $m : 5 = 14\ 684$
 - b) $m \times 3 + 2768 = 3113$
-
-
-

Tuyển Tập 55 Đề Thi Học Kỳ II Lớp 3 Năm học 2018-2019
Success has only one destination, but has a lot of ways to go

Thầy giáo Hồ Khắc Vũ – GV dạy Toán cấp I-II. SĐT: 037.858.8250 TP Tam Kỳ - Quảng Nam
“Thành Công Có Duy Nhất Một Điểm Đến Nhưng Có Rất Nhiều Con Đường Để Đi”

Câu 3 (2điểm). Một hình chữ nhật có chiều dài 15 cm, chiều rộng bằng $\frac{1}{3}$ chiều dài.
Tính diện tích hình chữ nhật đó.

.....
.....
.....
.....

ĐÁP ÁN ĐỀ SỐ 004

I. TRẮC NGHIỆM 1.D 2.B 3.A

II. TỰ LUẬN

1) Mỗi câu đặt tính đúng được 0,5đ

a) $15281 + 68254 = 83535$ b) $12198 \times 4 = 48792$

c) $42190 - 9868 = 32322$

Câu 2.

a) $m : 5 = 14684$

$m = 14684 \times 5$

$m = 73420$

b) $m \times 3 + 2768 = 3113$

$m \times 3 = 3113 - 2768$

$m \times 3 = 345$

$m = 345 : 3 = 115$

Câu 3. Chiều rộng hình chữ nhật là : $15 : 3 = 5 (cm)$

Diện tích hình chữ nhật là : $15 \times 5 = 75 (cm^2)$

Đáp số: 75 cm^2

ĐỀ SỐ 005

I. PHẦN TRẮC NGHIỆM (4 ĐIỂM)

Khoanh vào chữ đặt trước câu trả lời đúng:

Câu 1: Số 38 159 có chữ số hàng nghìn là:

A. 5

B. 8

C. 3

Tuyển Tập 55 Đề Thi Học Kỳ II Lớp 3 Năm học 2018-2019

Success has only one destination, but has a lot of ways to go

Câu 2: $5\text{km}4\text{m} = ? \text{ m}$

- A. 54 B. 5004 C. 5400

Câu 3: Giá trị của biểu thức: $(237 + 19) : 4$ là :

- A. 64 B. 66 C. 68

Câu 4: Cho dãy số: 76 309 ; 100 000 ; 87 909 ; 99 999.

Số lớn nhất trong dãy số trên là:

- A. 99 999 B. 87 909 C. 100 000

Câu 5: Hình chữ nhật có chiều dài là 9cm , chiều rộng là 6cm. Diện tích của hình chữ nhật đó là:

- A. 54 cm B. 54cm C. 30cm

Câu 6: Có 42 cái cốc như nhau được xếp đều vào 7 hộp. Có 96 cái cốc cùng loại thì xếp được vào số hộp là:

- A. 6 hộp B. 12 hộp C. 16 hộp

II. PHẦN TỰ LUẬN: (6 ĐIỂM)

Bài 1: Đặt tính rồi tính:(2đ)

- | | | | |
|------------------|--------------------|--------------------|----------------|
| a. $14687 + 564$ | b. $75642 - 38429$ | c. 1506×6 | d. $27652 : 4$ |
| | | | |
| | | | |
| | | | |
| | | | |

Bài 2: Tìm x: (1đ)

- | | |
|----------------------|-------------------|
| a) $x - 357 = 53435$ | b) $x : 5 = 1304$ |
| | |
| | |
| | |

Bài 3. (2đ) Một cửa hàng có 10450 m vải , cửa hàng đã bán trong 4 tuần , mỗi tuần bán được 680m vải. Hỏi cửa hàng còn lại bao nhiêu mét vải ?

Thầy giáo Hồ Khắc Vũ – GV dạy Toán cấp I-II. SĐT: 037.858.8250 TP Tam Kỳ - Quảng Nam
"Thành Công Có Duy Nhất Một Điểm Đến Nhưng Có Rất Nhiều Con Đường Để Đi"

.....
.....
.....
.....
.....
Bài 4: (1đ) Tìm một số, biết rằng nếu lấy số đó bớt đi 3454 rồi gấp lên 3 lần cuối cùng thêm 100 vào thì được 1036.

.....
.....
.....
.....
.....
.....
ĐÁP ÁN ĐỀ SỐ 005

I.PHẦN TRẮC NGHIỆM (4 ĐIỂM)

Câu 1	Câu 2	Câu 3	Câu 4	Câu 5	Câu 6
B (0,5đ)	B (0,5đ)	A (0,5đ)	C (0,5đ)	B (1đ)	C (1đ)

II.PHẦN TỰ LUẬN

Bài 1: (2 điểm). Đặt tính và tính đúng mỗi ý được 0.5 điểm

- a. 15251 b. 37213 c. 9036 d. 6913

Bài 2: (1 điểm) .Làm đúng mỗi ý được 0.5 điểm

- a) $x - 357 = 53435$ b) $x : 5 = 1304$

Tuyển Tập 55 Đề Thi Học Kỳ II Lớp 3 Năm học 2018-2019
Success has only one destination, but has a lot of ways to go

Thầy giáo Hồ Khắc Vũ – GV dạy Toán cấp I-II. SĐT: 037.858.8250 TP Tam Kỳ - Quảng Nam
“Thành Công Có Duy Nhất Một Điểm Đến Nhưng Có Rất Nhiều Con Đường Để Đi”

$$x = 53435 + 357$$

$$x = 1304 \times 5$$

$$x = 53792$$

$$x = 6520$$

Bài 3: (2 điểm)

Bài giải

Cửa hàng đã bán số mét vải là: (0,25đ)

$$680 \times 4 = 2720 \text{ (m)} \quad (0,5đ)$$

Cửa hàng còn lại số mét vải là: (0,25đ)

$$10450 - 2720 = 7730 \text{ (m)} \quad (0,5đ)$$

Đáp số : 7730 m vải (0,5đ)

Bài 4: (1 điểm)

Gọi số phải tìm là X

$$\text{Theo bài ra ta có : } (X - 3454) \times 3 + 100 = 1036$$

$$(X - 3454) \times 3 = 1036 - 100$$

$$(X - 3454) \times 3 = 936$$

$$X - 3454 = 936 : 3$$

$$X - 3454 = 312$$

$$X = 312 + 3454$$

$$X = 3766$$

Vậy số phải tìm là 3766

Đáp số : 3766

Ngoài ra học sinh có thể giải theo cách lập sơ đồ ô trống.

ĐỀ SỐ 006

Tuyển Tập 55 Đề Thi Học Kỳ II Lớp 3 Năm học 2018-2019
Success has only one destination, but has a lot of ways to go

Thầy giáo Hồ Khắc Vũ – GV dạy Toán cấp I-II. SĐT: 037.858.8250 TP Tam Kỳ - Quảng Nam
"Thành Công Có Duy Nhất Một Điểm Đến Nhưng Có Rất Nhiều Con Đường Để Đi"

I/ PHẦN TRẮC NGHIỆM: (4 điểm)

Hãy khoanh vào chữ cái đặt trước câu trả lời đúng nhất.

Câu 1: Mức 1(1 điểm)

a) Số liền sau của số 32565 là:

- A. 32566 B. 32575 C. 32564 D. 32 666

b) kết quả của phép tính: 10303×4 là:

- A. 69066 B. 45733 C. 41212 D. 5587

Câu 2. Mức 1 (1 điểm)

a) Số bé nhất trong các số 93680; 93860; 90386; 90368 là:

- A. 93860 B. 93680 C. 90368 D. 90386

b) Dấu lớn ($>$) ở cặp số:

- A. $8000 \dots 7999 + 1$ B. $78659 \dots 76860$
C. $9000 + 900 \dots 10000$ D. $9000 \dots 9000$

Câu 3. Mức 2 (1 điểm)

a) Số thích hợp cần điền vào chỗ chấm để $8m\ 6\ cm = \dots\ cm$ là :

- A. 86 B. 806 C. 860 D. 8006

b) Từ 7 giờ kém 5 phút đến 7 giờ là :

- A. 5 phút B. 10 phút C. 15 phút D. 20 phút

Câu 4: (Mức 2) Đúng ghi Đ, sai ghi S: (1 điểm)

$37 - 5 \times 5 = 12$

$13 \times 3 - 2 = 13$

II. PHẦN TỰ LUẬN : (6 điểm)

Câu 1: (Mức 1) (1 điểm)

Tuyển Tập 55 Đề Thi Học Kỳ II Lớp 3 Năm học 2018-2019
Success has only one destination, but has a lot of ways to go

Thầy giáo Hồ Khắc Vũ – GV dạy Toán cấp I-II. SĐT: 037.858.8250 TP Tam Kỳ - Quảng Nam
“Thành Công Có Duy Nhất Một Điểm Đến Nhưng Có Rất Nhiều Con Đường Để Đi”

Tính diện tích hình vuông có cạnh là 5cm

.....
.....

Câu 2: (Mức 1) Đặt tính rồi tính (1 điểm)

$24653 + 19274$

$40237 - 28174$

21816×3

$27786 : 3$

Câu 3: (Mức 2) Tìm x: (1 điểm)

$x : 3 = 1527$

$x \times 2 = 1846$

.....
.....

Câu 4: (M3 – 1đ) Hình chữ nhật ABCD có chiều dài bằng 16cm, chiều rộng bằng $\frac{1}{2}$ chiều dài. Tính diện tích của hình chữ nhật đó.

.....
.....
.....
.....
.....
.....

Câu 5: (M3 – 1 đ) Có 2432 viên thuốc chứa đều trong 4 vỉ. Hỏi 3 vỉ thuốc đó chứa bao nhiêu viên thuốc?

.....

.....
.....
.....
.....
.....

Câu 6: (M4 – 1 đ) Tổng hai số là 73 581. Tìm số thứ hai, biết số thứ nhất là 37 552.

.....
.....

ĐÁP ÁN ĐỀ SỐ 006

I/ Phần trắc nghiệm

Câu 1: Mức 1(1 điểm)

- a) A (0,5 điểm)
b) C (0,5 điểm)

Câu 2: Mức 1(1 điểm)

- a) C (0,5 điểm)
b) B (0,5 điểm)

Câu 3: Mức 2(1 điểm) mỗi ý đúng 0,5 điểm

- a. B. 806
b. A. 5 phút

Câu 4: Mức 2(1 điểm) mỗi phép tính được 0.5 điểm

$$37 - 5 \times 5 = 12 \quad \boxed{\text{Đ}} \quad 13 \times 3 - 2 = 13 \quad \boxed{\text{S}}$$

II/ Phần tự luận

Câu 1: Mức 1(1 điểm)

Diện tích hình vuông là: (0,25 điểm)

$$5 \times 5 = 25(\text{cm}^2) \quad (0,75 \text{ điểm})$$

Câu 2. Mức 1 (1 điểm) Đặt và thực hiện đúng mỗi phép tính được 0,25 điểm

a.	24653	b.	40237	c.	21816	d.	27786	$\begin{array}{r} 3 \\ 07 \\ 18 \\ \hline 9262 \end{array}$
+	$\frac{19274}{43927}$	-	$\frac{28174}{12063}$		$\frac{3}{65448}$			

Câu 3: Mức 2 (1 điểm) Tìm x mỗi phép tính được 0,5 điểm

Tuyển Tập 55 Đề Thi Học Kỳ II Lớp 3 Năm học 2018-2019

Success has only one destination, but has a lot of ways to go

Thầy giáo Hồ Khắc Vũ – GV dạy Toán cấp I-II. SĐT: 037.858.8250 TP Tam Kỳ - Quảng Nam
“Thành Công Có Duy Nhất Một Điểm Đến Nhưng Có Rất Nhiều Con Đường Để Đi”

$$\begin{aligned}x : 3 &= 1527 \\x &= 1527 \times 3 \\x &= 4581\end{aligned}$$

$$\begin{aligned}x \times 2 &= 1846 \\x &= 1846 : 2 \\x &= 923\end{aligned}$$

Câu 4: Mức 3(1 điểm)

Bài giải

Chiều rộng hình chữ nhật ABCD là: (0,2 điểm)
 $16 : 2 = 8$ (cm) (0,25 điểm)

Diện tích hình chữ nhật ABCD là: (0,2 điểm)
 $16 \times 8 = 128$ (cm²) (0,25 điểm)

Đáp số: 128 cm² (0,1 điểm)

Câu 5: Mức 3(1 điểm)

Bài giải

Số viên thuốc trong mỗi vỉ là: (0,2 điểm)
 $24 : 4 = 6$ (viên) (0,25 điểm)

Số viên thuốc trong 3 vỉ là: (0,2 điểm)
 $6 \times 3 = 18$ (viên) (0,25 điểm)

Đáp số: 18 viên thuốc. (0,1 điểm)

Câu 6: Mức 4 (1điểm)

Số thứ hai là: (0,25 điểm)
 $73\ 581 - 37\ 552 = 36\ 029$ (0,5điểm)

Đáp số: 36 029 (0,25điểm)

ĐỀ SỐ 007

Bài 1: a) Một hình chữ nhật có chiều dài là 23cm, chiều rộng là 1dm. Diện tích hình chữ nhật đó là:

A. 48cm B. 48cm² C. 230 cm D. 230cm²

b) Ngày 21 tháng 3 là thứ bảy thì ngày 4 tháng 4 là thứ mấy?

A. Thứ bảy B. Chủ nhật C. Thứ hai D. Thứ ba

c) Cho dãy số liệu: 20kg, 30kg, 40 kg, 50kg, 60kg, 70kg. Số hạng thứ năm của dãy số là: A. 30 B. 30kg C. 60 D. 60kg

Bài 2: a) Số ở giữa số 9990 và số 9997 là:

A. 9900 B. 9980 C. 9000 D. 9998

Thầy giáo Hồ Khắc Vũ – GV dạy Toán cấp I-II. SĐT: 037.858.8250 TP Tam Kỳ - Quảng Nam
“Thành Công Có Duy Nhất Một Điểm Đến Nhưng Có Rất Nhiều Con Đường Để Đi”

b) Chữ số 2 trong số 27509 có giá trị là:

- A. 20 000 B. 2000 C. 20 D. 200

Bài 3: a) Các số X, III, XX, IX, VI, XI được sắp xếp theo thứ tự từ lớn đến bé là:

A. XX, XI, IX, X, VI, III

B. XX, IX, XI, X, VI, III

C. XII, X, IX, VIII, V, II

b) Tìm X: $4 \times X = 5148$ Giá trị của X là:

A. 1032

B. 1287

C. 1278

D. 1212

Bài 5: a) $\frac{1}{4}$ của 36 m = ? m

A. 6 m

B. 8 m

C. 9m

D. 12 giờ

b) Một hình tròn có đường kính là 12 cm thì bán kính sẽ là:

A. 6cm

B. 12cm

C. 18cm

D. 24cm

Bài 6: a) Số 4 trong số 94 769 có giá trị là: (M1)

A. 4000

B. 40 000

C. 400

D. 40

b) Số liền sau của số 36 786 là số (M1)

A. 36 800

B. 36 790

C. 36 785

D. 36 787

c). Số 45 705 đọc là: (M2)

A. Bốn mươi lăm nghìn bảy trăm linh năm.

B. Bốn mươi năm nghìn bảy trăm linh năm.

C. Bốn mươi lăm nghìn bảy trăm linh lăm.

d). Số điền vào chỗ chấm $9\text{m } 38\text{cm} = \dots\dots\dots$ là số nào?(M2)

A. 938

B. 938cm

C. 9038cm

D. 9038

Bài 7:a) Ngày 4 tháng 3 là thứ sáu thì ngày 26 tháng 3 là thứ mấy?(M3)

Tuyển Tập 55 Đề Thi Học Kỳ II Lớp 3 Năm học 2018-2019

Success has only one destination, but has a lot of ways to go

Thầy giáo Hồ Khắc Vũ – GV dạy Toán cấp I-II. SĐT: 037.858.8250 TP Tam Kỳ - Quảng Nam
“Thành Công Có Duy Nhất Một Điểm Đến Nhưng Có Rất Nhiều Con Đường Để Đi”

- A. Thứ năm B. Thứ sáu C. Thứ bảy D. Chủ nhật

b). Giá trị của biểu thức $45\ 675 + 7\ 435 : 5$ là: (M2)

- A. 10 262 B. 10 622 C. 47 162 D. 47 621

Bài 8: a) Có 7 thùng mật ong như nhau đựng 56 lít mật ong. Hỏi 4 thùng như thế đựng bao nhiêu lít dầu?(M3)

- A. 2 lít B. 32 lít C. 28 lít D. 14 lít

b). Một hình chữ nhật có chiều dài là 8dm, chiều rộng là 4cm. Diện tích của hình chữ nhật đó là: (M3)

- A. 32 cm B. 32 cm² C. 320 cm D. 320 cm²

Bài 9: a) Cho $X : 6 = 9204$. Giá trị của X là: (M2)

- A. 55 224 B. 1534 C. 9210 D. 9198

b) Số 18 La Mã là số:

- A. XIIIIV B. XVIII C. XIIX D. XXII

Bài 10: Đặt tính rồi tính (M2)

a. $32\ 457 + 46\ 728$	b. $73\ 452 - 46\ 826$	c. $21\ 513 \times 4$	d. $84\ 917 : 7$
.....
.....
.....
.....
.....

$2328 + 78644$

$50527 - 13235$

1304×5

$4786 : 2$

.....

.....

.....

.....

.....

Thầy giáo Hồ Khắc Vũ – GV dạy Toán cấp I-II. SĐT: 037.858.8250 TP Tam Kỳ - Quảng Nam
"Thành Công Có Duy Nhất Một Điểm Đến Nhưng Có Rất Nhiều Con Đường Để Đi"

Bài 11: (M3) Có 7 thùng dầu như nhau đựng tất cả 63 lít dầu. Hỏi có 774 lít dầu thì cần bao nhiêu thùng như thế để chứa hết ?

.....
.....
.....
.....

Bài 12(M4) Một hình vuông có chu vi bằng 32 cm. Hãy tính diện tích của hình vuông đó?

.....
.....
.....

ĐÁP ÁN ĐỀ SỐ 007

I. Phần trắc nghiệm : 5 điểm

<u>Câu 1</u>	<u>Câu 2</u>	<u>Câu 3</u>	<u>Câu 4</u>	<u>Câu 5</u>	<u>Câu 6</u>	<u>Câu 7</u>	<u>Câu 8</u>	<u>Câu 9</u>	<u>Câu 10</u>
A	D	A	B	C	B	C	D	A	B
0.5 đ	0.5 đ	0.5 đ	0.5 đ	0.5 đ	0.5 đ	0.5 đ	0.5 đ	0.5 đ	0.5 đ

II. Phần Tự luận. (5điểm)

Bài 1: Đặt tính rồi tính (2điểm)

Mỗi phép tính đúng : 0.5 điểm. (đặt tính lệch : trừ 0.25)

Bài 2: (2 điểm)

Bài giải

Mỗi thùng dầu chứa số lít dầu là: } 0.75 điểm

Tuyển Tập 55 Đề Thi Học Kỳ II Lớp 3 Năm học 2018-2019,
Success has only one destination, but has a lot of ways to go

Thầy giáo Hồ Khắc Vũ – GV dạy Toán cấp I-II. SĐT: 037.858.8250 TP Tam Kỳ - Quảng Nam
“Thành Công Có Duy Nhất Một Điểm Đến Nhưng Có Rất Nhiều Con Đường Để Đi”

$$63 : 7 = 9 \text{ (lít)}$$

774 lít dầu chứa trong số thùng như thế là: } 1 điểm

$$774 : 9 = 86 \text{ (thùng)}$$

Đáp số: 102 hộp (0.25 điểm)

Bài 3: (1 điểm)

Bài giải

Mỗi cạnh hình vuông dài là: } 0.25 điểm

$$32 : 4 = 8 \text{ (cm)}$$

Diện tích của hình vuông đó là : } 0.5 điểm

$$8 \times 8 = 64 \text{ (cm}^2\text{)}$$

Đáp số: 64 (cm²) (0.25 điểm)

ĐỀ SỐ 008

Câu 1: Đọc số, viết số vào chỗ trống: (1 điểm)

Viết số	Đọc số
87116	
	Mười sáu nghìn ba trăm linh năm
42908	
	Ba mươi một nghìn một trăm bảy mươi một

Câu 2: Đặt tính rồi tính: (2 điểm)

Tuyển Tập 55 Đề Thi Học Kỳ II Lớp 3 Năm học 2018-2019

Success has only one destination, but has a lot of ways to go

Thầy giáo Hồ Khắc Vũ – GV dạy Toán cấp I-II. SĐT: 037.858.8250 TP Tam Kỳ - Quảng Nam
“Thành Công Có Duy Nhất Một Điểm Đến Nhưng Có Rất Nhiều Con Đường Để Đi”

$2907 + 4325$	$14352 - 2540$	7432×5	$2256 : 4$
.....
.....
.....

Câu 3: Tìm X (1 điểm)

$$X : 3 = 2510$$

$$X \times 5 = 1350$$

.....
.....
.....

Câu 4: Khoanh vào chữ đặt trước câu trả lời đúng: (1 điểm)

a) 1 kg bằng:

A. 1000g

B. 100g

C. 10 g

b) $9\text{m } 2\text{cm} = \dots\dots\text{cm}$.

A. 92

B. 902

C. 920

D. 9002

Câu 5: Điền dấu (>, <, =) thích hợp vào ô trống (1 điểm)

1 km 935 m

99 mm.....1m

3m 52cm.....352 cm

1giờ 15 phút.....50 phút

Câu 6: Khoanh vào chữ đặt trước câu trả lời đúng: (1 điểm)

a) Trong một năm có bao nhiêu ngày

A. 365

B. 366

C. 367

D. 368

b) Năm nhuận có bao nhiêu ngày.

A. 355

B. 366

C. 377

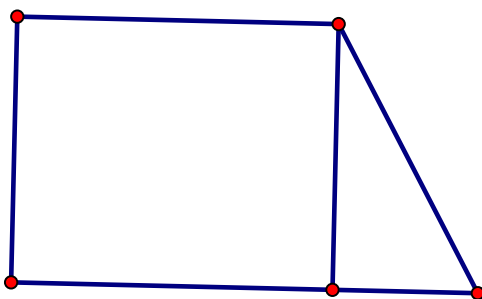
D. 388

Câu 7: Điền số hoặc chữ thích hợp vào chỗ trống: (1 điểm)

Tuyển Tập 55 Đề Thi Học Kỳ II Lớp 3 Năm học 2018-2019

Success has only one destination, but has a lot of ways to go

a) Trong hình bên cógóc vuông



Câu 8: Có 30 kg đường đựng đều trong 6 túi. Hỏi 35 kg đường đựng trong mấy túi như thế?
(2 điểm)

Bài giải:

.....
.....
.....
.....
.....
.....

ĐÁP ÁN ĐỀ SỐ 008

Câu 1: Đọc số, viết số vào chỗ trống: (1 điểm) mỗi cột đúng được 0,25 điểm.

Viết số	Đọc số
87116	Tám mươi bảy nghìn một trăm mười sáu
16305	Mười sáu nghìn ba trăm linh năm
42908	Bốn mươi hai nghìn chín trăm linh tám
31171	Ba mươi một nghìn một trăm bảy mươi một

Thầy giáo Hồ Khắc Vũ – GV dạy Toán cấp I-II. Sđt: 037.858.8250 TP Tam Kỳ - Quảng Nam
“Thành Công Có Duy Nhất Một Điểm Đến Nhưng Có Rất Nhiều Con Đường Để Đi”

Tuyển Tập 55 Đề Thi Học Kỳ II Lớp 3 Năm học 2018-2019
Success has only one destination, but has a lot of ways to go

Thầy giáo Hồ Khắc Vũ – GV dạy Toán cấp I-II. SĐT: 037.858.8250 TP Tam Kỳ - Quảng Nam
“Thành Công Có Duy Nhất Một Điểm Đến Nhưng Có Rất Nhiều Con Đường Để Đi”

Câu 2: Đặt tính rồi tính: (2 điểm) mỗi phép tính được 0,5 điểm.

$2907 + 4325$	$14352 - 2540$	7432×5	$2256 : 4$
2907	14352	7432	2256 4
+ 4325	- 2540	x 5	
.....	25 564
7323	11812	37160	16
			0

Câu 3: Tìm X (1 điểm)

$X : 3 = 2510$	$X \times 5 = 1350$
$X = 2510 \times 3$	$X = 1350 : 5$
$X = 7530$	$X = 270$

Câu 4: Khoanh vào chữ đặt trước câu trả lời đúng: (1 điểm)

a) 1 kg bằng:

A. 1000g

b) 9m 2cm =cm.

A. 92

Câu 5: Điền dấu (>, <, =) thích hợp vào ô trống (1 điểm)

Mỗi phép tính đúng 0,25 điểm.

$$1 \text{ km} > 935 \text{ m}$$

$$99 \text{ mm} < 1 \text{ m}$$

$$3 \text{ m } 52 \text{ cm} = 352 \text{ cm}$$

$$1 \text{ giờ } 15 \text{ phút} > 50 \text{ phút}$$

Câu 6: Khoanh vào chữ đặt trước câu trả lời đúng: (1 điểm)

b) Trong một năm có bao nhiêu ngày

Tuyển Tập 55 Đề Thi Học Kỳ II Lớp 3 Năm học 2018-2019
Success has only one destination, but has a lot of ways to go

Thầy giáo Hồ Khắc Vũ – GV dạy Toán cấp I-II. SĐT: 037.858.8250 TP Tam Kỳ - Quảng Nam
"Thành Công Có Duy Nhất Một Điểm Đến Nhưng Có Rất Nhiều Con Đường Để Đi"

A. 365 B. 366 C. 367 D. 368

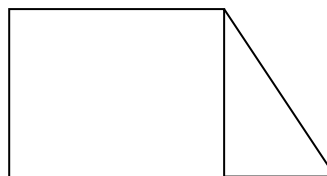
b) Năm nhuận có bao nhiêu ngày.

A. 355 B. 366 C. 377 D. 388

Câu 7: Điền số hoặc chữ thích hợp vào chỗ trống: (1 điểm)

Trả lời đúng phép tính được 1 điểm

b) Trong hình bên có **5** góc vuông



Câu 8: Có 30 kg đường đựng đều trong 6 túi. Hỏi 35 kg đường đựng trong mấy túi như thế?
(2 điểm)

Bài giải:

Số kg đường đựng trong mỗi túi có là (0,25)

$$30 : 6 = 5 \text{ (kg) (0,5)}$$

Có 35 kg đường cần đựng là(0,25)

$$35 : 5 = 7 \text{ (túi) (0,25)}$$

Đáp số : 7 túi (0,5)

ĐỀ SỐ 009

Khoanh vào chữ cái đặt trước câu trả lời đúng:

Câu 1: Số nào lớn nhất trong các số sau: 42 360 , 42 063 , 42 603 , 42 630:

- A. 42 630. B. 42 063. C. 42 603. D. 42 360.

Câu 2: Số liền sau của số 65 590 là:

- A. 65 591. B. 65 589. C. 65 500. D. 65 600.

Câu 3: Kết quả của $52\,379 + 38\,421$ là:

- A. 80 800. B. 90 800. C. 90 890. D. 80 709.

Câu 4: Kết quả của $17\,092 \times 4$ là:

- A. 68 608. B. 68 238. C. 41 686. D. 68 368.

Câu 5: Đặt tính rồi tính:

32564 + 3729

86247 – 52629

2418 x 3

8496 : 6

.....
.....
.....
.....

Thầy giáo Hồ Khắc Vũ – GV dạy Toán cấp I-II. SĐT: 037.858.8250 TP Tam Kỳ - Quảng Nam
"Thành Công Có Duy Nhất Một Điểm Đến Nhưng Có Rất Nhiều Con Đường Để Đi"

Câu 6: Tính giá trị của biểu thức:

$$1031 \times 6 + 2718$$

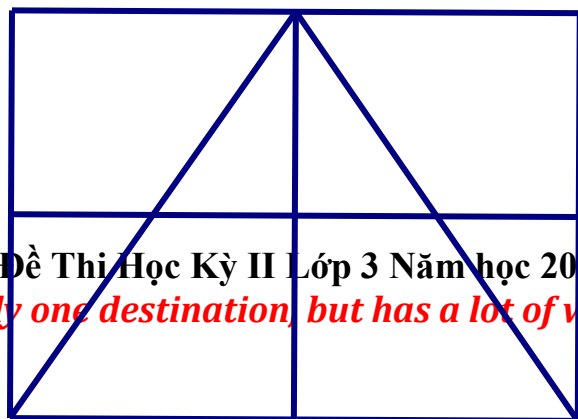
$$57353 - 1672 : 4$$

Câu 7: Một đội công nhân đào đường. Trong 5 ngày đào được 1615 mét đường. Hỏi trong 7 ngày đội công nhân đó đào được bao nhiêu mét đường ?

Tóm tắt

Bài giải

Câu 8: Hãy cho biết cho bao nhiêu hình tam giác ?



Tuyển Tập 55 Đề Thi Học Kỳ II Lớp 3 Năm học 2018-2019
Success has only one destination, but has a lot of ways to go

Trả lời: Có.....hình tam giác

ĐÁP ÁN ĐỀ SỐ 009

Năm học : 2013- 2014

Câu 1: (1 điểm)

A. 42 630.

Câu 2: (1 điểm)

A. 65 591.

Câu 3: (1 điểm)

B. 90 800.

Câu 4: (1 điểm)

D. 68 368.

Câu 5: Đặt tính rồi tính: (Mỗi câu đúng được 0,5 điểm)

$$\begin{array}{r} 32564 \\ + 3729 \\ \hline 36293 \end{array}$$

$$\begin{array}{r} 86247 \\ - 52629 \\ \hline 33618 \end{array}$$

$$\begin{array}{r} 2418 \\ \times 3 \\ \hline 7254 \end{array}$$

$$\begin{array}{r|l} 8496 & 6 \\ 24 & 1416 \\ 09 & \\ 36 & \\ 0 & \end{array}$$

Câu 6: Tính giá trị của biểu thức: Mỗi câu đúng được 1 điểm

$$\begin{aligned} & 1031 \times 6 + 2718 \\ = & 6186 + 2718 \\ = & 8904 \end{aligned}$$

$$\begin{aligned} & 57353 - 1672 : 4 \\ = & 57353 - 418 \\ = & 56935 \end{aligned}$$

Thầy giáo Hồ Khắc Vũ – GV dạy Toán cấp I-II. SĐT: 037.858.8250 TP Tam Kỳ - Quảng Nam
“Thành Công Có Duy Nhất Một Điểm Đến Nhưng Có Rất Nhiều Con Đường Để Đi”

Câu 7:

Tóm tắt (0,25đ)
5 ngày : 1615 mét đường
7 ngày : mét đường ?

Bài giải
Số mét đường đào được trong 1 ngày là:(0,25đ)
 $1615 : 5 = 323$ (m) (0,5đ)
Số mét đường đào được trong 7 ngày là: (0,25đ)
 $323 \times 7 = 2261$ (m) (0,5đ)
Đáp số : 2261 mét đường. (0,25đ)

Câu 8

Trả lời: Có 10 hình tam giác

ĐỀ SỐ 010

Câu 1: Đặt tính rồi tính:

- a) $16539 + 4357$ b) $64872 - 15768$ c) 5874×9 d) $72018 : 9$

.....
.....
.....
.....
.....

Câu 2: Viết vào ô trống cho thích hợp (theo mẫu)

Số lít dầu	20l	10l	30l		
Số can dầu	4can			7can	9can

Chú ý: Số lít dầu ở mỗi can là như nhau.

Câu 3: Viết các số: 65372 ; 56372;76253; 56327 theo thứ tự từ lớn đến bé

.....

Câu 4 : Khoanh vào chữ đặt trước ý trả lời đúng:

Tuyển Tập 55 Đề Thi Học Kỳ II Lớp 3 Năm học 2018-2019
Success has only one destination, but has a lot of ways to go

Thầy giáo Hồ Khắc Vũ – GV dạy Toán cấp I-II. SĐT: 037.858.8250 TP Tam Kỳ - Quảng Nam
“Thành Công Có Duy Nhất Một Điểm Đến Nhưng Có Rất Nhiều Con Đường Để Đi”

a) Số gồm 3 chục nghìn, 8 trăm, 2 đơn vị được viết là :

- A.308002 B. 30802 C. 3802 D. 380

b) ngày 29/ 2/2012 là thứ tư, vậy ngày 1/3 / 2012 là thứ mấy

- A . Thứ năm B . Thứ sáu C. Thứ bảy D.Chủ nhật

c) Dãy số nào dưới đây được viết theo thứ tự từ bé đến lớn

A.56802; 58602; 50 862;52860

B.56802; 58602; 52 860;50862

C.50862; 52860; 56 802;58602

d) Số lớn nhất có 5 chữ số là:

- A .10 000 B . 11111 C. 90 000 D.99 999

Câu 5: Viết số thích hợp vào chỗ chấm (.....) :

a) $17m5cm = \dots cm$

b) Hình vuông có chu vi 936 cm thì cạnh của hình vuông đó là:

- A.9cm B. 6cm C. 144cm D. 234cm

c) Giá trị của biểu thức $1935 + 295 : 5$ là:

- A .1994 B . 246 C. 250 D. 1255

d) Một hình chữ nhật chiều 42 cm và gấp 2 lần chiều rộng. Chu vi của hình chữ nhật đó là

:

- A .126cm B . 470cm C. 407cm D. 47

Câu 6 : Có 45 học sinh xếp đều trong 5 hàng. Hỏi có 801 học sinh thì xếp được bao nhiêu hàng như thế ?.

.....

.....

.....

.....

Thầy giáo Hồ Khắc Vũ – GV dạy Toán cấp I-II. SĐT: 037.858.8250 TP Tam Kỳ - Quảng Nam
"Thành Công Có Duy Nhất Một Điểm Đến Nhưng Có Rất Nhiều Con Đường Để Đi"

.....
.....
.....

ĐÁP ÁN ĐỀ SỐ 010

1) Mỗi câu đặt tính đúng được điểm tối đa

a) $16539 + 4357 = 20896$

b) $64872 - 15768 = 49104$

c) $5874 \times 9 = 52866$

d) $72018 : 9 = 8002$

Câu 2

Số lít dầu	20 l	10 l	30 l	35 l	45 l
Số can dầu	4 can	2 can	6 can	7 can	9 can

Câu 3. Các số từ lớn đến bé: 76253; 65372; 56372; 56327

Câu 4. a) B b) A c) C d) D

Câu 5. a) $17m5cm = 1705cm$ b) D c) A d) A

Câu 6. Số học sinh 1 hàng có là : $45 : 5 = 9$ (em)

Số hàng 801 học sinh xếp là : $801 : 9 = 89$ (hàng) Đáp số: 89 hàng

ĐỀ SỐ 011

I. Phần trắc nghiệm (7 điểm) (Khoanh tròn vào chữ cái đặt trước đáp án đúng.)

Bài 1. (0.5đ). Trong các số: 42 078, 42 075, 42 090, 42 100, 42 099, 42 109, 43 000. Số lớn nhất là:

A. 42 099

B. 43 000

C. 42 075

D. 42 090

Bài 2. (0.5đ). Giá trị của biểu thức $2342 + 403 \times 6$ là:

Tuyển Tập 55 Đề Thi Học Kỳ II Lớp 3 Năm học 2018-2019

Success has only one destination, but has a lot of ways to go

Thầy giáo Hồ Khắc Vũ – GV dạy Toán cấp I-II. SĐT: 037.858.8250 TP Tam Kỳ - Quảng Nam
"Thành Công Có Duy Nhất Một Điểm Đến Nhưng Có Rất Nhiều Con Đường Để Đi"

- A. 4660 B. 4760 C. 4860 D. 4960

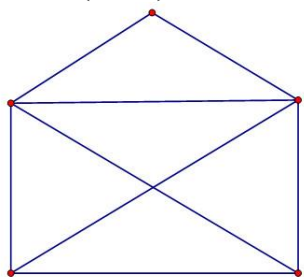
Bài 3. (0.5đ). Hình vuông có cạnh 3cm. Diện tích hình vuông là:

- A. 6cm^2 B. 9cm C. 9cm^2 D. 12cm^2

Bài 4.(0.5đ). Mua 2kg gạo hết 18 000 đồng. Vậy mua 5 kg gạo hết số tiền là:

- A. 35 000 đồng B. 40 000 đồng C. 45 000 đồng D. 50 000 đồng

Bài 5.(0,5đ) Hình trên có bao nhiêu hình tam giác, bao nhiêu hình tứ giác:



- A. 9 hình tam giác, 2 hình tứ giác B. 5 hình tam giác, 4 hình tứ giác
C. 9 hình tam giác, 4 hình tứ giác D. 5 hình tam giác, 5 hình tứ giác

Bài 6. (0.5đ). Giá trị của số 5 trong số 65 478 là:

- A. 50 000 B. 500 C. 5000 D. 50

Bài 7: (0.5đ). Số liền sau của 78999 là:

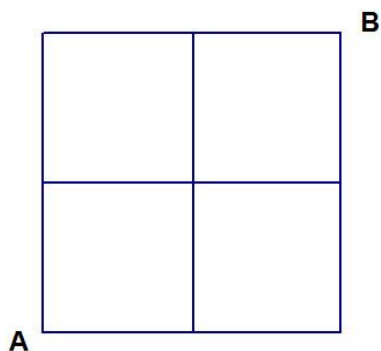
- A. 78901 B. 78991 C. 79000 D. 78100

Bài 8. (1đ) Tìm số tròn nghìn ở giữa số 9068 và 11982 là:

- A. 10000 và 12000 B. 10000 và 11000 C. 11000 và 9000 D. 12000 và 11000

Bài 9.

Tuyển Tập 55 Đề Thi Học Kỳ II Lớp 3 Năm học 2018-2019
Success has only one destination, but has a lot of ways to go



Biết cạnh của mỗi ô vuông trong hình vẽ trên đều dài 1cm. Em hãy tìm xem có bao nhiêu đường gấp khúc đi từ A tới B dài 4 cm.

- A. 3 đường B. 5 đường C. 4 đường D. 6 đường

Bài 10: (1đ) Giá trị của biểu thức $(98725 - 87561) \times 3$ là:

- A. 32493 B. 39432 C. 33492 D. 34293

Bài 11 : (0.5 đ): 2 giờ = phút Số thích hợp điền vào chỗ chấm là :

- A. 60 phút B. 110 phút C. 120 phút

Bài 12: (1đ) Một miếng bìa hình chữ nhật có chiều dài là 12 cm, chiều rộng bằng $\frac{1}{3}$ chiều dài. Chu vi hình chữ nhật đó là:

- A. 32 cm B. 16 cm C. 18 cm D. 36 cm

II: Phần tự luận (3 điểm)

Bài 13: Đặt tính rồi tính: (1đ)

a. $14\,754 + 23\,680$ b. $15\,840 - 8795$ c. $12\,936 \times 3$; d. $68325 : 8$

.....

.....

.....

Thầy giáo Hồ Khắc Vũ – GV dạy Toán cấp I-II. SĐT: 037.858.8250 TP Tam Kỳ - Quảng Nam
“Thành Công Có Duy Nhất Một Điểm Đến Nhưng Có Rất Nhiều Con Đường Để Đi”

.....

.....

.....

.....

.....

Bài 14: (2đ) Một ô tô đi trong 8 giờ thì được 32624 km. Hỏi ô tô đó đi trong 3 giờ được bao nhiêu ki – lô – mét?

Bài giải :

.....

.....

.....

.....

.....

.....

.....

.....

.....

.....

.....

.....

.....

.....

.....

.....

.....

.....

.....

.....

.....

ĐÁP ÁN ĐỀ SỐ 011

I. TRẮC NGHIỆM

1.B 2.B 3.C 4.C 5.C 6.C 7.C 8.B 9.D 10.C 11.C 12.A

II. TỰ LUẬN

Tuyển Tập 55 Đề Thi Học Kỳ II Lớp 3 Năm học 2018-2019
Success has only one destination, but has a lot of ways to go

13) Mỗi câu đặt tính đúng được 0,25 đ

a) $14754 + 23680 = 38434$

b) $15840 - 8795 = 7045$

c) $12936 \times 3 = 38808$

d) $68325 : 8 = 8540$ (dư 5)

14) Số kilomet 1 giờ ô tô đi là : $32624 : 8 = 4078$ (km)

Số kilomet 3 giờ ô tô đó đi là : $4078 \times 3 = 12234$ (km)

Đáp số: 12234 km

ĐỀ SỐ 012

Phần I: Khoanh tròn vào chữ đặt trước câu trả lời đúng ở các bài tập sau:

1. Ba số ở dòng nào được viết theo thứ tự từ bé đến lớn?

A. 2935; 3914; 2945;

B. 6840; 8640; 4860;

C. 8763; 8843; 8853;

D. 3689; 3699; 3698;

2. $7m\ 3cm = ?$ Số thích hợp để điền vào dấu ? là:

A. 73cm;

B. 703cm;

C. 730cm;

D. 7003cm;

3. Tìm y: $y - 37215 = 20305$;

A. $y = 58520$;

B. $y = 57620$;

C. $y = 57530$;

D. $y = 57520$;

Phần II. 1. Đặt tính rồi tính:

$58427 + 40753$;

$26883 - 7826$;

6247×2

$2568 : 6$;

.....

.....

.....

.....

.....

2. Một kho chứa 2280kg thóc gồm thóc nếp và thóc tẻ; số thóc nếp bằng $\frac{1}{4}$ số thóc trong kho. Hỏi mỗi loại thóc có bao nhiêu ki lô gam?

.....

.....

.....

.....

.....

.....

3. Một hình chữ nhật và một hình vuông có cùng chu vi. Biết hình chữ nhật có chiều dài 60m, chiều rộng 40m. Tính độ dài cạnh hình vuông.

.....

.....

.....

.....

.....

.....

ĐÁP ÁN ĐỀ SỐ 012

Phần 1. Trắc nghiệm 1.C 2.B 3.D

Phần II.

1) Mỗi câu đặt tính đúng được điểm tối đa

Thầy giáo Hồ Khắc Vũ – GV dạy Toán cấp I-II. SĐT: 037.858.8250 TP Tam Kỳ - Quảng Nam
“Thành Công Có Duy Nhất Một Điểm Đến Nhưng Có Rất Nhiều Con Đường Để Đi”

$$58427 + 40753 = 99180$$

$$26883 - 7826 = 19057$$

$$6247 \times 2 = 12494$$

$$2568 : 6 = 428$$

2) Số kilogram thóc nếp có là : $2280 : 4 = 570$ (kg thóc)

Số kilogram thóc tẻ có là: $2280 - 570 = 1710$ (kg thóc)

Đáp số: thóc nếp: 570kg ; thóc tẻ: 1710kg

3) Chu vi hình chữ nhật : $(60 + 40) \times 2 = 200(m)$

Vì chu vi hình vuông bằng chu vi hình chữ nhật nên chu vi hình vuông là 200m

Độ dài cạnh hình vuông là : $200 : 4 = 50(m)$

Đáp số: 50 m

ĐỀ SỐ 013

I. Trắc nghiệm: Khoanh vào chữ cái đặt trước câu trả lời đúng (3đ)

Câu 1: (0.5đ) Số liền sau của 78999 là:

- a- 78901 b- 78991 c- 79000 d- 78100

Câu 2 : (0.5đ) Ngày 28 tháng 4 là thứ sáu. Ngày 4 tháng 5 là thứ mấy?

- a- Thứ tư b- Thứ sáu c- Thứ năm d- Chủ nhật

Câu 3: (0.5đ) $9m\ 6dm = \dots\ cm$:

- a- 9600cm b- 96cm c- 906cm d- 960cm

Câu 4: (0.5đ) Chu vi hình vuông là 96cm, cạnh của hình vuông là

- a- 86cm b- 43cm c- 128cm d- 32cm

Câu 5: (0.5đ) Cạnh hình vuông có chu vi 96cm là

- a- 48 cm b- 8 cm c- 6 cm d- 24 cm

Câu 6: (0.5đ) Giá trị biểu thức $700 : 5 \times 4$ là:

- a - 35 b- 560 c- 7500

d- 150.

II. Tự luận (7đ)

Câu 1: Đặt tính rồi tính (2 đ)

$7386 + 9548$

$6732 - 4528$

4635×6

$6336 : 9$

.....

Câu 2: Tìm X (1.5 đ)

a/. $X \times 8 = 2864$

b/. $X : 5 = 1232$

.....

Câu 3: (1đ) Tính diện tích hình chữ nhật có chiều dài là 13 cm ,chiều rộng là 9cm

Bài giải

.....

Câu 4: (2 đ) Mua 9 bút chì hết 5400 đồng.Hỏi mua 6 bút chì như thế hết bao nhiêu tiền ?

Bài giải :

.....

Thầy giáo Hồ Khắc Vũ – GV dạy Toán cấp I-II. SĐT: 037.858.8250 TP Tam Kỳ - Quảng Nam
“Thành Công Có Duy Nhất Một Điểm Đến Nhưng Có Rất Nhiều Con Đường Để Đi”

.....
.....

Câu 5: (0.5đ)

An nghĩ ra một số, nếu lấy số đó chia cho 5 thì được thương là 4 và số dư là số dư lớn nhất. Hãy tìm số đó.

Bài giải :

.....
.....

ĐÁP ÁN ĐỀ SỐ 13

I. Trắc nghiệm: Khoanh vào chữ cái đặt trước câu trả lời đúng (3đ)

Câu 1: (0.5đ) Số liền sau của 78999 là:

c- 79000

Câu 2: (0.5đ) Ngày 28 tháng 4 là thứ sáu. Ngày 4 tháng 5 là thứ mấy?

c- Thứ năm

Câu 3: (0.5đ) $9m\ 6dm = \dots\ cm$:

d- 960cm

Câu 4: (0.5đ) Tính chu vi hình chữ nhật có chiều dài 23cm, chiều rộng 20cm là:

a- 86cm

Câu 5: (0.5đ) Chu vi hình vuông là 96cm, cạnh của hình vuông là

d- 24 cm

Câu 6: (0.5đ) Giá trị biểu thức $700 : 5 \times 4$ là:

b- 560

II. Tự luận (7đ)

Câu 1: Đặt tính rồi tính (2đ)

	$7386 + 9548$	$6732 - 4528$	4635×6	$6336 : 9$	
-	<i>Kết quả đúng, đặt tính thẳng cột,</i>				
	7386	6732	4635	6336	9
	9548	4528	\times	036	704
-	16934	2204	\times	27810	00
	<i>mỗi phép đạt 0.5 điểm</i>	$+$	$-$		
-	<i>Kết quả đúng, đặt tính không thẳng cột, mỗi phép tính trừ 0.25 điểm</i>				

Câu 2: Tìm X: (1.5 đ)

a/. $X \times 8 = 2864$

$X = 2864 : 8$ (0.25đ)

$X = 358$ (0.5đ)

b/. $X : 5 = 1232$

$X = 1232 \times 5$ (0.25đ)

$X = 6160$ (0.5đ)

Câu 3:(1đ) Tính diện tích hình chữ nhật có chiều dài là 13 cm ,chiều rộng là 9cm

Bài giải

Diện tích hình chữ nhật là: (0.25đ)

$13 \times 9 = 117 (m^2)$ (0.5đ)

Đáp số: $117 m^2$ (0.25đ)

Câu 4: (2đ) Mua 9 bút chì hết 5400 đồng. Hỏi mua 6 bút chì như thế hết bao nhiêu tiền ?

Bài giải:

Giá tiền 1 bút chì: (0.25đ)

$5400 : 9 = 600$ (đồng) (0.5đ)

Mua 6 bút chì thì hết: (0.25đ)

$600 \times 6 = 3600$ (đồng) (0.5đ)

Đáp số: 3600 đồng (0.5đ)

Thầy giáo Hồ Khắc Vũ – GV dạy Toán cấp I-II. Sđt: 037.858.8250 TP Tam Kỳ - Quảng Nam

“Thành Công Có Duy Nhất Một Điểm Đến Nhưng Có Rất Nhiều Con Đường Để Đi”

Câu 5: (0.5đ)

An nghĩ ra một số, nếu lấy số đó chia cho 5 thì được thương là 4 và số dư là số dư lớn nhất

Bài giải:

Số dư của phép chia cho 5 lớn nhất sẽ là 4 (0.25đ)

Vậy số An nghĩ ra là:

$$5 \times 4 + 4 = 24 \quad (0.25đ)$$

Đáp số: 24

ĐỀ SỐ 014

PHẦN I: TRẮC NGHIỆM (6 điểm)

Câu 1: Khoanh vào chữ cái đặt trước kết quả đúng: **0.5 (Mức 1)**

Số liền sau của số 54 829 là:

- A. 54 828. B. 54 839. C. 54 830. D. 54 819.

Câu 2: **0,5 đ (Mức 1)**

Giá trị của chữ số 9 trong số 19 785 là:

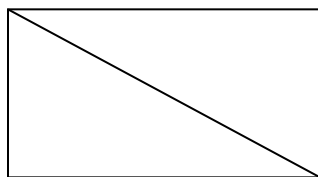
- a. 9 000 b. 900 c. 90 d. 9

Câu 3: **0,5 đ (Mức 1)**

Kết quả của phép chia 81: 9=

- a. 9 b. 90 c. 19 d. 10

Câu 4: Hình bên cógóc vuông vàgóc không vuông. **0,5 đ (Mức 1)**



Câu 5: Hình vuông có cạnh 3cm. Diện tích hình vuông là: **1 đ (Mức 1)**

- A. 6cm² B. 9cm C. 9cm² D. 12cm

Tuyển Tập 55 Đề Thi Học Kỳ II Lớp 3 Năm học 2018-2019

Success has only one destination, but has a lot of ways to go

Thầy giáo Hồ Khắc Vũ – GV dạy Toán cấp I-II. SĐT: 037.858.8250 TP Tam Kỳ - Quảng Nam

“Thành Công Có Duy Nhất Một Điểm Đến Nhưng Có Rất Nhiều Con Đường Để Đi”

Câu 6: $2m\ 2cm = \dots\ cm$. Số thích hợp điền vào chỗ trống là: **1 đ (Mức 2)**

A. 4 cm. B. 22 cm. C. 202 cm. D. 220 cm.

Câu 7: Kết quả của phép chia $4525 : 5$ là: **1 đ (Mức 2)**

A. 405 B. 95 C. 905 D. 9025

Câu 8: Lan có 5000 đồng, Mai có số tiền gấp 3 lần số tiền của Lan. Vậy số tiền Mai có là: **1 đ (Mức 3)**

A. 8000 đồng B. 3000 đồng C. 15 000 đồng D. 18 000 đồng

PHẦN II: TỰ LUẬN (4 điểm)

Câu 1: Tính: **1 đ (Mức 1)**

$8 \times 7 = \dots\dots\dots$ $9 \times 9 = \dots\dots\dots$ $54 : 6 = \dots\dots\dots$ $72 : 8 = \dots\dots\dots$

Câu 2: Đặt tính rồi tính: **1 đ (Mức 2)**

$12\ 459 + 21\ 546$ $18\ 257 - 12\ 87$ 686×8 $54781 : 6$

.....
.....
.....

Câu 3: Một cửa hàng buổi sáng bán được 1840 cái bút chì. Buổi chiều bán được gấp 3 lần số bút chì sáng bán. Hỏi cả hai buổi của hàng đó bán được tất cả bao nhiêu cái bút chì? **1,5 đ (Mức 3)**

.....
.....
.....
.....
.....
.....

Câu 4: (0,5 điểm) (**Mức 4**)

Lan nghĩ ra một số. Lấy số đó chia cho 6 thì được thương bằng 9 và số dư là số dư lớn nhất. Vậy số đó là:.....

Tuyển Tập 55 Đề Thi Học Kỳ II Lớp 3 Năm học 2018-2019
Success has only one destination, but has a lot of ways to go

Thầy giáo Hồ Khắc Vũ – GV dạy Toán cấp I-II. Sđt: 037.858.8250 TP Tam Kỳ - Quảng Nam

“Thành Công Có Duy Nhất Một Điểm Đến Nhưng Có Rất Nhiều Con Đường Để Đi”

.....

.....

ĐÁP ÁN ĐỀ SỐ 014

I. TRẮC NGHIỆM 1.C 2.A 3.A

4. Hình bên có 2 góc vuông và 4 góc không vuông.

5.C 6.D 7.C 8.C

II. TỰ LUẬN

1) $8 \times 7 = 56$ $9 \times 9 = 81$ $54 : 6 = 9$ $72 : 8 = 9$

2) Mỗi câu đặt tính đúng được 0,25đ

$12459 + 21546 = 34005$ $18257 - 1287 = 16970$

$686 \times 8 = 5488$ $54781 : 6 = 9130(\text{du } 1)$

3) Số bút chì buổi chiều cửa hàng bán là : $1840 \times 3 = 5520$ (cái)

Số bút chì cả hai buổi cửa hàng bán là : $1840 + 5520 = 7360$ (cái)

Đáp số: 7360 cái

Câu 4) Vì số chia là 6 nên số dư lớn nhất là 5

Số Lan cần tìm là : 59

Đáp số: 59

ĐỀ SỐ 015

Câu 1: (1,0 điểm). Khoanh vào trước câu trả lời đúng: (Mức 1)

a) Số liền sau của 42 099 là:

Tuyển Tập 55 Đề Thi Học Kỳ II Lớp 3 Năm học 2018-2019
Success has only one destination, but has a lot of ways to go

“Thành Công Có Duy Nhất Một Điểm Đến Nhưng Có Rất Nhiều Con Đường Để Đi”

- A. 42 100 B. 42 098 C. 43 099 D. 43 100

b) Số lớn nhất trong các số: 8 576 ; 8 756 ; 8 765 ; 8 675 là:

- A. 8 576 B. 8 756 C. 8 765 D. 8 675

c) 1 giờ 15 phút = ... phút

- A. 115 phút B. 615 phút C. 65 phút D. 75 phút

d) Ngày 28 tháng 4 là thứ sáu. Ngày 4 tháng 5 là thứ mấy?

- A. Thứ tư B. Thứ năm C. Thứ bảy D. Chủ nhật

Câu 2: (1,0 điểm). Điền dấu: $> < =$ (Mức 1)

a) 76 635 ... 76 653

b) 18 536 ... 17 698

c) 47 526 ... 47 520 + 6

b) 92 569 ... 92 500 + 70

Câu 3: (1,0 điểm). Hình chữ nhật ABCD có chiều dài 6 cm, chiều rộng 4 cm. (Mức 2)

a) Diện tích của hình chữ nhật là:

- A. 24 cm² B. 24cm C. 20 cm² D. 20 cm

b) Chu vi của hình chữ nhật là:

- A. 10 cm B. 20cm C. 24 cm² D. 24 cm

Câu 4: (1,0 điểm). 12m7dm = ... dm. Số thích hợp điền vào chỗ chấm là: (Mức 1)

- A. 1 207 dm B. 127 dm C. 1 270 dm D. 1 027 dm

Câu 5: (2,0 điểm). Đặt tính rồi tính: (Mức 2)

- | | | | |
|--------------------|-------------------|--------------|---------------|
| a) 27 684 + 11 023 | b) 84 695 – 2 367 | c) 1 041 x 7 | d) 24 672 : 6 |
| | | | |
| | | | |

ĐÁP ÁN ĐỀ SỐ 15

ĐÁP ÁN ĐỀ SỐ 015

Câu 1: (1,0 điểm). Khoanh đúng mỗi câu được 0,25 điểm.

- a). A b). C c). D d). B

Câu 2: (1,0 điểm). Điền đúng kết quả mỗi dòng được 0,25 điểm.

a) $76\ 635 < 76\ 653$ (0,25 điểm).

b) $18\ 536 > 17\ 698$ (0,25 điểm).

c) $47\ 526 = 47\ 520 + 6$ (0,25 điểm).

d) $92\ 569 < 92\ 500 + 70$ (0,25 điểm).

Câu 3: (1,0 điểm). Khoanh đúng mỗi câu được 0,5 điểm.

a) Diện tích của hình chữ nhật là: A. 24 cm^2 (0,5 điểm).

b) Chu vi của hình chữ nhật là: B. 20 cm (0,5 điểm).

Câu 4: (1,0 điểm). Khoanh đúng câu B. 127 dm .

Câu 5: (2,0 điểm).

- Đặt tính và tính đúng kết quả mỗi bài được 0,5 điểm; thiếu dấu gạch ngang 2 bài trừ 0,25 điểm.

Thầy giáo Hồ Khắc Vũ – GV dạy Toán cấp I-II. SĐT: 037.858.8250 TP Tam Kỳ - Quảng Nam

“Thành Công Có Duy Nhất Một Điểm Đến Nhưng Có Rất Nhiều Con Đường Để Đi”

- Sắp đúng phép tính, sai kết quả, mỗi bài được 0,25 điểm.

Kết quả đúng:

a) 38 707 b) 82 328 c) 7 287 d) 4 112

Câu 6: (1,0 điểm). Tính đúng mỗi bước tính được 0,5 điểm.

a). $229 + 126 \times 3 = 229 + 378$ (0,25 điểm).

$= 607$ (0,25 điểm).

b). $(9\ 759 - 7\ 428) \times 2 = 2\ 331 \times 2$ (0,25 điểm).

$= 4\ 662$ (0,25 điểm).

Câu 7: (1,0 điểm). Tìm X: Tính đúng mỗi câu được 0,5 điểm; mỗi bước tính đúng 0,25 điểm.

a). $X \times 6 = 2\ 412$

$X = 2\ 412 : 6$ (0,25 điểm).

$X = 402$ (0,25 điểm).

b). $X : 3 = 1\ 824$

$X = 1\ 824 \times 3$ (0,25 điểm).

$X = 5\ 472$ (0,25 điểm).

Câu 8: (2,0 điểm).

Bài giải:

Trong 1 giờ người đi ô tô đi được là: (0,25 điểm).

$82 : 2 = 41$ (km). (0,75 điểm).

Trong 5 giờ người đi ô tô đi được là: (0,25 điểm).

$41 \times 5 = 205$ (km). (0,5 điểm).

Đáp số: 205 km. (0,25 điểm).

Tuyển Tập 55 Đề Thi Học Kỳ II Lớp 3 Năm học 2018-2019
Success has only one destination, but has a lot of ways to go

ĐỀ SỐ 016

Câu 1: Khoanh vào chữ cái đặt trước kết quả đúng: (M1 - 0.5)

Số liền sau của số 54 829 là:

- A. 54 828. B. 54 839. C. 54 830. D. 54 819.

Câu 2: $2\text{m } 2\text{cm} = \dots \text{ cm}$. Số thích hợp điền vào chỗ trống là: (M2- 0.5)

- A. 4 cm. B. 22 cm. C. 202 cm. D. 220 cm.

Câu 3: Đúng ghi Đ, sai ghi S: (M1- 0.5)

II: Hai

IV: Bốn

IV: Sáu

V: Năm

X: Mười

VI: Sáu

XI: Chín

IX: Chín

Câu 4: Hình vuông có cạnh 3cm. Diện tích hình vuông là: (M1 - 0.5)

- A. 6cm^2 B. 9cm C. 9cm^2 D. 12cm

Câu 5: Kết quả của phép chia $4525 : 5$ là: (M1- 0.5)

- A. 405 B. 95 C. 905 D. 9025

Câu 6: Đặt tính rồi tính: (M2- 1)

$16\ 427 + 8\ 109$

$93\ 680 - 7\ 2451$

724×5

$21847 : 7$

.....

.....

.....

.....

.....

Câu 7: Tính: (M1- 0.5)

$8 \times 7 = \dots\dots\dots$

$9 \times 9 = \dots\dots\dots$

$54 : 6 = \dots\dots\dots$

$72 : 8 = \dots\dots\dots$

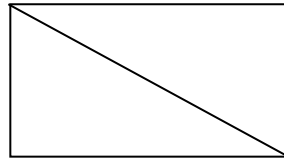
Câu 8: Bốn bạn Xuân, Hạ, Thu, Đông có cân nặng lần lượt là 33kg, 37kg, 35kg, 39kg. Dựa vào số liệu trên hãy sắp xếp cân nặng của các bạn theo thứ tự tăng dần. (M3- 1)

Tuyển Tập 55 Đề Thi Học Kỳ II Lớp 3 Năm học 2018-2019

Success has only one destination, but has a lot of ways to go

“Thành Công Có Duy Nhất Một Điểm Đến Nhưng Có Rất Nhiều Con Đường Để Đi”

.....
Câu 9: Hình bên cógóc vuông (M1- 0.5)
vàgóc không vuông.



Câu 10: Lan có 5000 đồng, Mai có số tiền gấp 3 lần số tiền của Lan. Vậy số tiền Mai có là: (M2 - 0.5)

- A. 8000 đồng B. 3000 đồng C. 15 000 đồng D. 18 000 đồng

Câu 11: Vẽ hình tròn tâm O, đường kính MN = 6cm. (M2 - 1)

.....
.....
.....
.....
Câu 12: 45 chiếc ghế được xếp thành 5 hàng. Hỏi 63 chiếc ghế như thế xếp được thành mấy hàng? (M3 - 2)

.....
.....
.....
.....
Câu 13: Tính nhanh: (M4 - 1)

$4 \times 126 \times 25$

$134 \times 100 + 250 \times 100 - 84 \times 100$

ĐÁP ÁN ĐỀ SỐ 016

1.C 2.C

3.

Đ	Đ
S	Đ
Đ	Đ
S	Đ

4.C 5.C

6. Mỗi câu đặt tính đúng được điểm tối đa

$$16427 + 8109 = 24536$$

$$93680 - 72451 = 21229$$

$$724 \times 5 = 3620$$

$$21847 : 7 = 3121$$

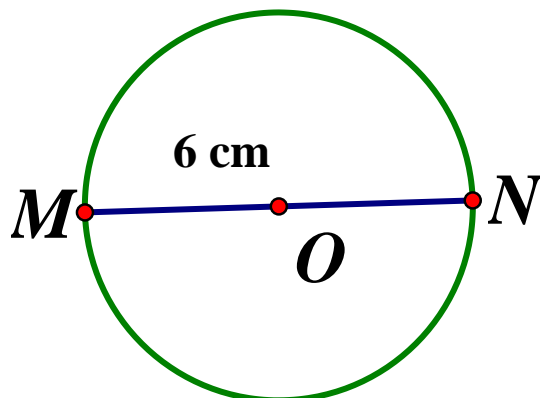
Câu 7. $8 \times 7 = 56$ $9 \times 9 = 81$ $54 : 6 = 9$ $72 : 8 = 9$

Câu 8. Sắp xếp cân nặng tăng dần : Xuân, Thu, Hạ , Đông

Câu 9. Hình bên có 4 góc vuông và 4 góc không vuông

Câu 10. C

Câu 11.



Câu 12. Số chiếc ghế 1 hàng có là : $45 : 5 = 9$ (cái ghế)

Thầy giáo Hồ Khắc Vũ – GV dạy Toán cấp I-II. SĐT: 037.858.8250 TP Tam Kỳ - Quảng Nam

“Thành Công Có Duy Nhất Một Điểm Đến Nhưng Có Rất Nhiều Con Đường Để Đi”

Số hàng 63 chiếc ghế có là : $63:9=7$ (hàng)

Đáp số: 7 hàng.

Câu 13.

a) $4 \times 126 \times 25 = 126 \times (4 \times 25) = 126 \times 100 = 12\,600$

b) $134 \times 100 + 250 \times 100 - 84 \times 100 = 100 \times (134 + 250 - 84) = 100 \times 300 = 30\,000$

ĐỀ SỐ 017 – GIỐNG ĐỀ SỐ 016

Câu 1: Khoanh vào chữ cái đặt trước kết quả đúng: (M1 - 0.5)

Số liền sau của số 54 829 là:

A. 54 828. B. 54 839. C. 54 830. D. 54 819.

Câu 2: $2\text{m } 2\text{cm} = \dots \text{ cm}$. Số thích hợp điền vào chỗ trống là: (M2- 0.5)

A. 4 cm. B. 22 cm. C. 202 cm. D. 220 cm.

Câu 3: Đúng ghi Đ, sai ghi S: (M1- 0.5)

II: Hai

IV: Bốn

IV: Sáu

V: Năm

X: Mười

VI: Sáu

XI: Chín

IX: Chín

Câu 4: Hình vuông có cạnh 3cm. Diện tích hình vuông là: (M1 - 0.5)

A. 6cm^2 B. 9cm C. 9cm^2 D. 12cm

Câu 5: Kết quả của phép chia $4525 : 5$ là: (M1- 0.5)

A. 405 B. 95 C. 905 D. 9025

Câu 6: Đặt tính rồi tính: (M2- 1)

$16\,427 + 8\,109$

$93\,680 - 7\,2451$

724×5

$21847 : 7$

.....
.....
.....

Tuyển Tập 55 Đề Thi Học Kỳ II Lớp 3 Năm học 2018-2019

Success has only one destination, but has a lot of ways to go

Thầy giáo Hồ Khắc Vũ – GV dạy Toán cấp I-II. SĐT: 037.858.8250 TP Tam Kỳ - Quảng Nam

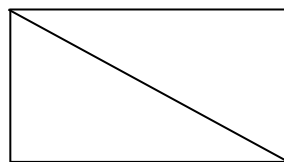
“Thành Công Có Duy Nhất Một Điểm Đến Nhưng Có Rất Nhiều Con Đường Để Đi”

.....
.....
Câu 7: Tính: (M1- 0.5)

$8 \times 7 = \dots\dots\dots$ $9 \times 9 = \dots\dots\dots$ $54 : 6 = \dots\dots\dots$ $72 : 8 = \dots\dots\dots$

Câu 8: Bốn bạn Xuân, Hạ, Thu, Đông có cân nặng lần lượt là 33kg, 37kg, 35kg, 39kg. Dựa vào số liệu trên hãy sắp xếp cân nặng của các bạn theo thứ tự tăng dần. (M3- 1)

.....
Câu 9: Hình bên cógóc vuông (M1- 0.5)
vàgóc không vuông.



Câu 10: Lan có 5000 đồng, Mai có số tiền gấp 3 lần số tiền của Lan. Vậy số tiền Mai có là: (M2 - 0.5)

- A. 8000 đồng B. 3000 đồng C. 15 000 đồng D. 18 000 đồng

Câu 11: Vẽ hình tròn tâm O, đường kính MN = 6cm. (M2 - 1)

.....
.....
.....
.....
Câu 12: 45 chiếc ghế được xếp thành 5 hàng. Hỏi 63 chiếc ghế như thế xếp được thành mấy hàng? (M3 - 2)

Câu 13: Tính nhanh: (M4 - 1)

$$4 \times 126 \times 25$$

$$134 \times 100 + 250 \times 100 - 84 \times 100$$

.....

.....

.....

.....

.....

ĐỀ SỐ 018

I. Trắc nghiệm: Khoanh vào chữ cái đặt trước câu trả lời đúng (3 điểm)

Câu 1: (0.5đ). Số liền sau của 78999 là:

- a. 78901 b. 78991 c. 79000 d. 78100

Câu 2: (0.5đ). Ngày 28 tháng 4 là thứ sáu. Ngày 4 tháng 5 là thứ mấy?

- a. Thứ tư b. Thứ sáu c. Thứ năm d. Chủ nhật

Câu 3: (0.5đ). $9\text{m } 6\text{dm} = \dots \text{ cm}$:

- a. 9600cm b. 96cm c. 906cm d. 960cm

Câu 4: (0.5đ). Chu vi hình vuông là 96cm, cạnh của hình vuông là:

- a. 86cm b. 43cm c. 24cm d. 32cm

Câu 5: (0.5đ) Giá trị biểu thức $700 : 5 \times 4$ là:

- a. 35 b. 560 c. 7500 d. 150.

II. Tự luận (7đ)

Câu 1: Đặt tính rồi tính: (2đ)

$$7386 + 9548$$

$$6732 - 4528$$

$$4635 \times 6$$

$$6336 : 9$$

.....

.....

.....

.....

Câu 2: Tìm X: (1.5 đ)

a/. $X \times 8 = 2864$

b/. $X : 5 = 1232$

.....

.....

Thầy giáo Hồ Khắc Vũ – GV dạy Toán cấp I-II. SĐT: 037.858.8250 TP Tam Kỳ - Quảng Nam

“Thành Công Có Duy Nhất Một Điểm Đến Nhưng Có Rất Nhiều Con Đường Để Đi”

Câu 3: (1đ) Tính diện tích hình chữ nhật có chiều dài là 13 cm, chiều rộng là 9cm

.....
.....
.....
.....

Câu 4: (2đ) Mua 9 bút chì hết 5400 đồng. Hỏi mua 6 bút chì như thế hết bao nhiêu tiền?

.....
.....
.....
.....
.....

Câu 5: (0.5đ) An nghĩ ra một số, nếu lấy số đó chia cho 5 thì được thương là 4 và số dư là số dư lớn nhất. Hãy tìm số đó?

.....
.....
.....
.....
.....

ĐÁP ÁN ĐỀ SỐ 018

I. TRẮC NGHIỆM

1.C 2.C 3.D 4.C 5.B

II. TỰ LUẬN

1) Mỗi câu đặt tính đúng được 0,5đ

$$7386 + 9548 = 16934$$

$$6732 - 4528 = 2204$$

$$4635 \times 6 = 27810$$

$$6336 : 9 = 704$$

Tuyển Tập 55 Đề Thi Học Kỳ II Lớp 3 Năm học 2018-2019

Success has only one destination, but has a lot of ways to go

Thầy giáo Hồ Khắc Vũ – GV dạy Toán cấp I-II. SĐT: 037.858.8250 TP Tam Kỳ - Quảng Nam

“Thành Công Có Duy Nhất Một Điểm Đến Nhưng Có Rất Nhiều Con Đường Để Đi”

Câu 2. Tìm x

a) $x \times 8 = 2864$

$x = 2864 : 8$

$x = 358$

b) $x : 5 = 1232$

$x = 1232 \times 5$

$x = 6160$

Câu 3. Diện tích hình chữ nhật là : $13 \times 9 = 117 (cm^2)$ Đáp số: $117 cm^2$

Câu 4. Số tiền mua 1 chiếc bút chì là : $5400 : 9 = 600$ (đồng)

Số tiền mua 6 chiếc bút chì là : $600 \times 6 = 3600$ (đồng) Đáp số: 3600 đồng.

Câu 5. Vì số dư lớn nhất nên dư là 4

Số cần tìm: $4 \times 5 + 4 = 24$ Đáp số: 24

ĐỀ SỐ 019

Câu 1: (1,0 điểm). Khoanh vào trước câu trả lời đúng: (Mức 1)

a) Số liền sau của 42 099 là:

A. 42 100

B. 42 098

C. 43 099

D. 43 100

b) Số lớn nhất trong các số: 8 576 ; 8 756 ; 8 765 ; 8 675 là:

A. 8 576

B. 8 756

C. 8 765

D. 8 675

c) 1 giờ 15 phút = ... phút

A. 115 phút

B. 615 phút

C. 65 phút

D. 75 phút

d) Ngày 28 tháng 4 là thứ sáu. Ngày 4 tháng 5 là thứ mấy?

A. Thứ tư

B. Thứ năm

C. Thứ bảy

D. Chủ nhật

Câu 2: (1,0 điểm). Điền dấu: $> < =$ (Mức 1)

a) 76 635 ... 76 653

Tuyển Tập 55 Đề Thi Học Kỳ II Lớp 3 Năm học 2018-2019
Success has only one destination, but has a lot of ways to go

“Thành Công Có Duy Nhất Một Điểm Đến Nhưng Có Rất Nhiều Con Đường Để Đi”

c) $18\ 536 \dots 17\ 698$

c) $47\ 526 \dots 47\ 520 + 6$

c) $92\ 569 \dots 92\ 500 + 70$

Câu 3: (1,0 điểm). Hình chữ nhật ABCD có chiều dài 6 cm, chiều rộng 4 cm. (Mức 2)

a) Diện tích của hình chữ nhật là:

A. 24 cm^2

B. 24cm

C. 20 cm^2

D. 20 cm

b) Chu vi của hình chữ nhật là:

A. 10 cm

B. 20cm

C. 24 cm^2

D. 24 cm

Câu 4: (1,0 điểm). $12\text{m}7\text{dm} = \dots\text{ dm}$. Số thích hợp điền vào chỗ chấm là: (Mức 1)

A. 1 207 dm

B. 127 dm

C. 1 270 dm

D. 1 027 dm

Câu 5: (2,0 điểm). Đặt tính rồi tính: (Mức 2)

b) $27\ 684 + 11\ 023$

b) $84\ 695 - 2\ 367$

c) $1\ 041 \times 7$

d) $24\ 672 : 6$

.....

.....

.....

.....

.....

.....

.....

.....

.....

.....

.....

.....

.....

.....

.....

.....

.....

.....

.....

.....

.....

.....

.....

.....

Câu 6: (1,0 điểm). Tính giá trị của biểu thức: (Mức 2)

a). $229 + 126 \times 3 = \dots$

b). $(9\ 759 - 7\ 428) \times 2 =$

.....

Thầy giáo Hồ Khắc Vũ – GV dạy Toán cấp I-II. Sđt: 037.858.8250 TP Tam Kỳ - Quảng Nam

“Thành Công Có Duy Nhất Một Điểm Đến Nhưng Có Rất Nhiều Con Đường Để Đi”

= =

.....

Câu 7: (1,0 điểm). Tìm X: (Mức 2)

a). $X \times 6 = 2\ 412$

b). $X : 3 = 1\ 824$

.....

.....

.....

.....

Câu 8: (2,0 điểm). (Mức 3)

Một người đi ô tô trong 2 giờ đi được 82 km. Hỏi trong 5 giờ người đó đi ô tô đi được bao

nhiêu kí- lô- mét?

Bài Giải

ĐÁP ÁN ĐỀ SỐ 19

Câu 1: (1,0 điểm). Khoanh đúng mỗi câu được 0,25 điểm.

Tuyển Tập 55 Đề Thi Học Kỳ II Lớp 3 Năm học 2018-2019
Success has only one destination, but has a lot of ways to go

Thầy giáo Hồ Khắc Vũ – GV dạy Toán cấp I-II. SĐT: 037.858.8250 TP Tam Kỳ - Quảng Nam

“Thành Công Có Duy Nhất Một Điểm Đến Nhưng Có Rất Nhiều Con Đường Để Đi”

- a). A b). C c). D d). B

Câu 2: (1,0 điểm). Điền đúng kết quả mỗi dòng được 0,25 điểm.

a) $76\ 635 < 76\ 653$ (0,25 điểm).

b) $18\ 536 > 17\ 698$ (0,25 điểm).

c) $47\ 526 = 47\ 520 + 6$ (0,25 điểm).

d) $92\ 569 < 92\ 500 + 70$ (0,25 điểm).

Câu 3: (1,0 điểm). Khoanh đúng mỗi câu được 0,5 điểm.

a) Diện tích của hình chữ nhật là: A. 24 cm^2 (0,5 điểm).

b) Chu vi của hình chữ nhật là: B. 20 cm (0,5 điểm).

Câu 4: (1,0 điểm). Khoanh đúng câu B. 127 dm .

Câu 5: (2,0 điểm).

- Đặt tính và tính đúng kết quả mỗi bài được 0,5 điểm; thiếu dấu gạch ngang 2 bài trừ 0,25 điểm.

- Sắp đúng phép tính, sai kết quả, mỗi bài được 0,25 điểm.

Kết quả đúng:

a) $38\ 707$ b) $82\ 328$ c) $7\ 287$ d) $4\ 112$

Câu 6: (1,0 điểm). Tính đúng mỗi bước tính được 0,5 điểm.

a). $229 + 126 \times 3 = 229 + 378$ (0,25 điểm).

$= 607$ (0,25 điểm).

b). $(9\ 759 - 7\ 428) \times 2 = 2\ 331 \times 2$ (0,25 điểm).

$= 4\ 662$ (0,25 điểm).

Câu 7: (1,0 điểm). Tìm X: Tính đúng mỗi câu được 0,5 điểm; mỗi bước tính đúng 0,25 điểm.

Tuyển Tập 55 Đề Thi Học Kỳ II Lớp 3 Năm học 2018-2019
Success has only one destination, but has a lot of ways to go

Thầy giáo Hồ Khắc Vũ – GV dạy Toán cấp I-II. Sđt: 037.858.8250 TP Tam Kỳ - Quảng Nam

“Thành Công Có Duy Nhất Một Điểm Đến Nhưng Có Rất Nhiều Con Đường Để Đi”

a). $X \times 6 = 2\ 412$

$$X = 2\ 412 : 6 \quad (0,25 \text{ điểm}).$$

$$X = 402 \quad (0,25 \text{ điểm}).$$

b). $X : 3 = 1\ 824$

$$X = 1\ 824 \times 3 \quad (0,25 \text{ điểm}).$$

$$X = 5\ 472 \quad (0,25 \text{ điểm}).$$

Câu 8: (2,0 điểm).

Bài giải:

Trong 1 giờ người đi ô tô đi được là: (0,25 điểm).

$$82 : 2 = 41 \text{ (km)}. \quad (0,75 \text{ điểm}).$$

Trong 5 giờ người đi ô tô đi được là: (0,25 điểm).

$$41 \times 5 = 205 \text{ (km)}. \quad (0,5 \text{ điểm}).$$

Đáp số: 205 km. (0,25 điểm).

ĐỀ SỐ 020

A. PHẦN TRẮC NGHIỆM (3 điểm)

Khoanh vào đáp án đúng:

Câu 1 (1 điểm) Cho một hình vuông có cạnh 3 cm, một hình chữ nhật có chiều dài 4 cm, chiều rộng 2 cm.

A. Chu vi hình vuông bằng chu vi hình chữ nhật

B. Diện tích hình vuông bằng diện tích hình chữ nhật

C. Diện tích hình vuông nhỏ hơn diện tích hình chữ nhật

D. Diện tích hình vuông lớn hơn diện tích hình chữ nhật

Tuyển Tập 55 Đề Thi Học Kỳ II Lớp 3 Năm học 2018-2019

Success has only one destination, but has a lot of ways to go

Thầy giáo Hồ Khắc Vũ – GV dạy Toán cấp I-II. SĐT: 037.858.8250 TP Tam Kỳ - Quảng Nam

“Thành Công Có Duy Nhất Một Điểm Đến Nhưng Có Rất Nhiều Con Đường Để Đi”

.....
.....
.....
.....
.....

ĐÁP ÁN ĐỀ SỐ 020

A. TRẮC NGHIỆM 1.D 2.a)B b)A

B. TỰ LUẬN

1) Mỗi câu đặt tính đúng được 0,5đ

a) $15281 + 68254 = 83535$

b) $12198 \times 4 = 48792$

c) $42190 - 9868 = 32322$

d) $45325 : 5 = 9065$

Câu 2.

a) $m : 5 = 14684$

b) $m \times 3 + 2768 = 3113$

$m = 14684 \times 5$

$m \times 3 = 3113 - 2768$

$m = 73420$

$m \times 3 = 345$

$m = 345 : 3$

$m = 115$

Câu 3. Chiều rộng hình chữ nhật là : $15 : 3 = 5(cm)$

Diện tích hình chữ nhật là: $15 \times 5 = 75(cm^2)$

Đáp số: $75 cm^2$

ĐỀ SỐ 021

Bài 1: Khoanh vào trước chữ đặt trước kết quả đúng: (3 điểm)

1) Số liền sau của số 53789 là :

A.53788

B.53790

C.53780

D.53799

Tuyển Tập 55 Đề Thi Học Kỳ II Lớp 3 Năm học 2018-2019

Success has only one destination, but has a lot of ways to go

“Thành Công Có Duy Nhất Một Điểm Đến Nhưng Có Rất Nhiều Con Đường Để Đi”

2) Kết quả của phép tính $3583 + 2706$ là :

A. 5289

B. 6289

C. 6279

3) Kết quả của phép tính $5068 - 2875$ là :

A. 2293

B. 2392

C. 2193

4) Kết quả của phép tính 327×8 là :

A. 2616

B. 2566

C. 2516

5) Kết quả của phép tính $7230 : 5$ là :

A. 106

B. 1446

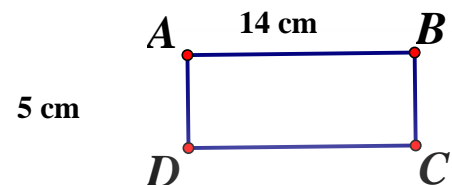
C. 146

6) Giá trị của biểu thức $(4036 - 1768) : 2$ là :

A. 1434

B. 1134

C. 4434



Bài 2 : (1 điểm) viết kết quả thích hợp vào chỗ chấm :

1) Một hình chữ nhật có kích thước như hình bên

a) Chu vi hình chữ nhật ABCD là :

A 68 cm

B 38 cm

C 40cm

D 70cm

b) Diện tích hình chữ nhật là : A 68 cm^2 B 38 cm^2 C 40 cm^2 D 70 cm^2

2) Viết số thích hợp vào chỗ chấm: $5 \text{ m } 7 \text{ cm} = \dots\dots\dots \text{ cm}$

Bài 3 : Đặt tính rồi tính. (2 điểm)

21718×3 ,

$5925 + 3567$,

$2570 : 5$,

$98764 - 36427$

“Thành Công Có Duy Nhất Một Điểm Đến Nhưng Có Rất Nhiều Con Đường Để Đi”

.....
.....
.....

Bài 4 Tính giá trị biểu thức : (2 điểm)

a) $321 + 4 \times 7 = \dots\dots\dots$, b) $27572 - (232 + 340) = \dots\dots\dots$
.....
.....

Bài 5 : Giải toán (2 điểm)

a) Một cửa hàng có 9612 m vải. Đã bán được bằng $\frac{1}{4}$ số vải. Hỏi cửa hàng còn lại bao nhiêu mét vải?

Giải

.....
.....
.....
.....

ĐÁP ÁN ĐỀ SỐ 021

Bài 1. Trắc nghiệm

1.B 2.B 3.C 4.A 5.B 6.B

Bài 2. 1)a) B b) D 2) $5m7cm = 507cm$

Bài 3. Mỗi câu đặt tính đúng được 0,5đ

$21718 \times 3 = 65154$ $2570 : 5 = 514$
 $5925 + 3567 = 9492$ $98764 - 36427 = 62337$

Thầy giáo Hồ Khắc Vũ – GV dạy Toán cấp I-II. Sđt: 037.858.8250 TP Tam Kỳ - Quảng Nam

“Thành Công Có Duy Nhất Một Điểm Đến Nhưng Có Rất Nhiều Con Đường Để Đi”

Bài 4.

$$\begin{aligned} a) & 321 + 4 \times 7 \\ & = 321 + 28 \\ & = 349 \end{aligned}$$

$$\begin{aligned} b) & 27572 - (232 + 340) \\ & = 27572 - 572 \\ & = 27000 \end{aligned}$$

Bài 5. Số mét vải cửa hàng đã bán là : $9612 : 4 = 2403$ (m vải)

Số mét vải cửa hàng còn lại là: $9612 - 2403 = 7209$ (m vải)

Đáp số: 7209_m vải

Thầy giáo Hồ Khắc Vũ – GV dạy Toán cấp I-II. Sđt: 037.858.8250 TP Tam Kỳ - Quảng Nam

“Thành Công Có Duy Nhất Một Điểm Đến Nhưng Có Rất Nhiều Con Đường Để Đi”

ĐỀ SỐ 022

BÀI 1: 2,5 điểm

Khoanh vào chữ trước câu trả lời đúng:

a) Số liền trước của 150 là:

- A. 151 B. 140 C. 149 D. 160

b) Số liền sau của số 65739 là :

- A. 65729 B. 65749 C. 65740 D. 65738

c) Số lớn nhất trong các số 8354; 8353; 8453; 8534

- A. 8354 B. 8353 C. 8453 D. 8534

d) Chữ số 8 trong số 786 có giá trị là:

- A. 800 B. 80 C. 86 D. 8

e) Giá trị của chữ X trong phép tính $X \times 5 = 125$ là :

- A. 21 B. 25 C. 52

BÀI 2: 2 điểm

Đặt tính rồi tính:

54275 + 22107

75362 - 24935

4805 × 4

20645 : 5

.....

.....

.....

.....

.....

.....

.....

.....

.....

.....

.....

.....

.....

.....

.....

.....

BÀI 3: 1 điểm

Tuyển Tập 55 Đề Thi Học Kỳ II Lớp 3 Năm học 2018-2019

Success has only one destination, but has a lot of ways to go

“Thành Công Có Duy Nhất Một Điểm Đến Nhưng Có Rất Nhiều Con Đường Để Đi”

Đúng ghi Đ, sai ghi S vào ô trống :

- a) Giá trị của biểu thức $56 + 24 : 6$ là : 60
- b) Giá trị của biểu thức $21 \times 4 : 7$ là : 12

BÀI 4: 1 điểm

Khoanh vào chữ trước câu trả lời đúng:

- a) Cho $3m5cm = \dots cm$

Số thích hợp để điền vào chỗ chấm là:

- A. 305 B. 350 C. 530

- b) Cho $8m = 80 \dots$

Đơn vị đo thích hợp để điền vào chỗ chấm là:

- A. m B. dm C. cm

- c) 1 kg bằng :

- A. 1000g B. 100g C. 10g


- d) Trong cùng một năm , ngày 27 tháng 4 là thứ năm thì ngày 1 tháng 5 là :

- A. Thứ hai B. Thứ ba C. Thứ tư D. Thứ năm

BÀI 5: 1,5 điểm

Trong hình tứ giác ABCD có hai góc vuông và hai góc không vuông. Viết tiếp vào chỗ chấm cho thích hợp

- a) Góc có đỉnh ... là góc vuông
b) Góc có đỉnh ... là góc không vuông



- c) Kẻ thêm một đoạn thẳng vào hình vẽ để được một hình chữ nhật và một hình tam giác

BÀI 6: 2 điểm

Một cửa hàng có 65015 quyển vở. Người chủ cửa hàng đã bán vở cho 4trường

Thầy giáo Hồ Khắc Vũ – GV dạy Toán cấp I-II. Sđt: 037.858.8250 TP Tam Kỳ - Quảng Nam

“Thành Công Có Duy Nhất Một Điểm Đến Nhưng Có Rất Nhiều Con Đường Để Đi”

tiểu học, mỗi trường 15000 quyển vở. Hỏi của hàng còn lại bao nhiêu quyển vở?

Bài giải

.....

.....

.....

.....

.....

.....

ĐÁP ÁN ĐỀ SỐ 022

1.Khoanh tròn

a)C b)C c)D d)B e)B

Bài 2. Mỗi câu đặt tính đúng được 0,5đ

$$54275 + 22107 = 76382$$

$$75362 - 24935 = 50427$$

$$4805 \times 4 = 19220$$

$$20645 : 5 = 4129$$

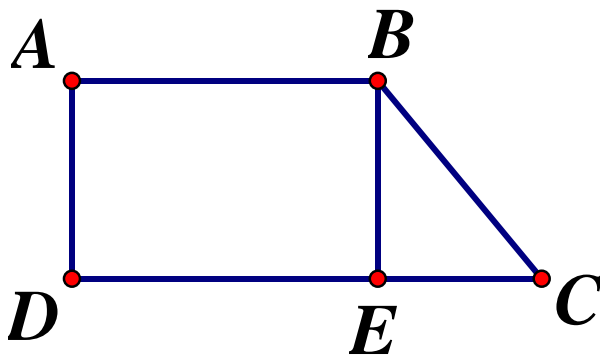
Bài 3. a) Đ b) Đ

Bài 4. a) A b) B c) A d) A

Bài 5. Góc có đỉnh A, D là góc vuông Góc có đỉnh B, C là góc không vuông

c)

Tuyển Tập 55 Đề Thi Học Kỳ II Lớp 3 Năm học 2018-2019
Success has only one destination, but has a lot of ways to go



Bài 6. Số quyển vở cửa hàng đã bán là : $15000 \times 4 = 60000$ (quyển vở)

Số quyển vở cửa hàng còn lại là : $65015 - 60000 = 5015$ (quyển vở)

Đáp số: 5015 quyển vở

ĐỀ SỐ 023

Câu 1: Hãy khoanh vào chữ đặt trước câu trả lời đúng:

a/ Số 3055 đọc là:

A. Ba nghìn năm mươi năm.

B. Ba nghìn không trăm năm mươi lăm.

C. Ba nghìn không trăm năm mươi năm

D. Ba trăm năm mươi lăm.

b/ 2012 được viết thành tổng là:

A. $2000 + 100 + 20$

B. $2000 + 012 + 12 + 1$

C. $2000 + 10 + 2$

D. $2012 + 012 + 12 + 2$

c/ Hình tròn có đường kính bằng 28cm, thì bán kính hình tròn là:

A. 28 cm

B. 56cm

C. 14 dm

D. 14cm

d/ Trong một năm, tổng số tháng có 30 ngày là:

Tuyển Tập 55 Đề Thi Học Kỳ II Lớp 3 Năm học 2018-2019

Success has only one destination, but has a lot of ways to go

Thầy giáo Hồ Khắc Vũ – GV dạy Toán cấp I-II. Sđt: 037.858.8250 TP Tam Kỳ - Quảng Nam

“Thành Công Có Duy Nhất Một Điểm Đến Nhưng Có Rất Nhiều Con Đường Để Đi”

A. 7 tháng

B. 6 tháng

C. 5 tháng

D. 4 tháng

Câu 2: Đúng ghi Đ, sai ghi S vào ô trống:

a) $4\text{m } 6\text{ dm} = 406\text{ m}$

b) $2\text{dm}^2 3\text{cm} = 203\text{cm}$

c) $2\text{phút} > 121\text{ giây}$

d) $2\text{tuần} = 14\text{ giờ}$

Câu 3: Viết các số từ 2 đến 9 bằng chữ số La Mã theo thứ tự từ lớn đến bé.

.....

Câu 4: Đặt tính rồi tính:

$123 + 4078$

$2490 - 1974$

975×5

$7697 : 6$

.....

.....

.....

.....

.....

Câu 5 : Nam mua 5 quyển vở như nhau hết 30 500đồng. Hỏi Nam mua 7 quyển vở như thế hết bao nhiêu tiền?

.....

.....

.....

.....

Tuyển Tập 55 Đề Thi Học Kỳ II Lớp 3 Năm học 2018-2019

Success has only one destination, but has a lot of ways to go

Thầy giáo Hồ Khắc Vũ – GV dạy Toán cấp I-II. Sđt: 037.858.8250 TP Tam Kỳ - Quảng Nam

“Thành Công Có Duy Nhất Một Điểm Đến Nhưng Có Rất Nhiều Con Đường Để Đi”

Câu 6: Một hình chữ nhật có chiều dài bằng 24cm, chiều rộng bằng $\frac{1}{3}$ chiều dài. Tính diện tích hình chữ nhật đó?

.....

.....

.....

.....

.....

Câu 7: Ông năm nay 62 tuổi, hai năm nữa ông sẽ gấp 8 lần tuổi cháu. Hỏi hiện nay cháu bao nhiêu tuổi ?

.....

.....

.....

.....

.....

.....

ĐỀ SỐ 023

- 1) a) B b) C c) C d) D
- 2) a) S b) Đ c) S d) S
- 3) IX; VIII; VII; V; IV; III; II

Câu 4. Mỗi câu đặt tính đúng được điểm tối đa

Tuyển Tập 55 Đề Thi Học Kỳ II Lớp 3 Năm học 2018-2019
Success has only one destination, but has a lot of ways to go

Thầy giáo Hồ Khắc Vũ – GV dạy Toán cấp I-II. Sđt: 037.858.8250 TP Tam Kỳ - Quảng Nam

“Thành Công Có Duy Nhất Một Điểm Đến Nhưng Có Rất Nhiều Con Đường Để Đi”

$$123 + 4078 = 4201$$

$$2490 - 1974 = 516$$

$$975 \times 5 = 4875$$

$$7697 : 6 = 1282 (\text{du } 5)$$

Câu 5. Số tiền Nam mua 1 quyển vở là: $30500 : 5 = 6100$ (đồng)

Số tiền Nam mua 7 quyển vở là : $6100 \times 7 = 42700$ (đồng)

Câu 6. Chiều rộng hình chữ nhật là : $24 : 3 = 8$ (cm)

Diện tích hình chữ nhật là : $24 \times 8 = 192$ (cm²)

Đáp số: 192 cm^2

Câu 7. Tuổi cháu hai năm nữa là : $(62 + 2) : 8 = 8$ (tuổi)

Tuổi cháu hiện nay là : $8 - 2 = 6$ (tuổi) Đáp số: 6 tuổi

ĐỀ SỐ 024

Câu 1:(1 điểm)

Viết số	Đọc số
20654	
	Năm mươi hai nghìn tám trăm linh ba
79140	
	Sáu mươi nghìn năm trăm linh hai
12738	

Câu 2:(1 điểm)

Viết các số: 56034, 61300, 49876, 55914, 62044.

a) Theo thứ tự từ bé đến lớn.

b) Theo thứ tự từ lớn đến bé.

Câu 3:(1 điểm)

Tính nhẩm:

$$2000 \times 2 + 600 =$$

$$99000 - 5000 =$$

$$60000 + 20000 =$$

$$30000 : 3 : 2 =$$

Câu 4:(2 điểm)

a) Đặt tính rồi tính:

Tuyển Tập 55 Đề Thi Học Kỳ II Lớp 3 Năm học 2018-2019

Success has only one destination, but has a lot of ways to go

Thầy giáo Hồ Khắc Vũ – GV dạy Toán cấp I-II. SĐT: 037.858.8250 TP Tam Kỳ - Quảng Nam

“Thành Công Có Duy Nhất Một Điểm Đến Nhưng Có Rất Nhiều Con Đường Để Đi”

$$21567 + 42385$$

$$89205 - 63582$$

$$7138 \times 6$$

$$5213 \times 5$$

b) Tính:

$$\begin{array}{r|l} 65283 & 4 \\ \hline \end{array}$$

$$\begin{array}{r|l} 72605 & 5 \\ \hline \end{array}$$

$$\begin{array}{r} 8063 \\ + 1647 \\ \hline 252 \end{array}$$

$$\begin{array}{r} 9364 \\ + 4281 \\ \hline 3504 \end{array}$$

Câu 5:(2 điểm)

Một nhà hát tổ chức biểu diễn ba buổi, buổi đầu bán được 4568 vé, buổi sau bán được 2709 vé, buổi cuối bán được 5123 vé. Hỏi tổng số vé bán được cả ba buổi là bao nhiêu?

Câu 6:(1 điểm)

Một quyển vở giá 2700 đồng. Viết số tiền thích hợp vào ô trống trong bảng:

Số quyển vở	2 quyển	5 quyển	9 quyển	10 quyển
Thành tiền				

Câu 7:(1 điểm)

Tính diện tích hình chữ nhật bằng xăngtimét vuông có chiều dài 3dm, chiều rộng 6cm.

Câu 8:(1 điểm)

Khoanh vào chữ đặt trước kết quả đúng.

a) Giá trị của biểu thức: $97895 - 18759 \times 4$ là:

A. 25892

B. 22859

C. 29852

D. 22589

b) Kết quả của phép tính $80704 : 8$ là:

A. 1088

B. 10808

C. 1880

D. 10088

ĐÁP ÁN ĐỀ SỐ 024

Câu 1.

20654: Hai mươi nghìn sáu trăm năm mươi bốn

Năm mươi hai nghìn tám trăm linh ba: 52 803

79 140: Bảy mươi chín nghìn một trăm bốn mươi

Sáu mươi nghìn năm trăm linh hai: 60 502

12 738 : Mười hai nghìn bảy trăm ba mươi tám

Tuyển Tập 55 Đề Thi Học Kỳ II Lớp 3 Năm học 2018-2019

Success has only one destination, but has a lot of ways to go

Thầy giáo Hồ Khắc Vũ – GV dạy Toán cấp I-II. SĐT: 037.858.8250 TP Tam Kỳ - Quảng Nam

“Thành Công Có Duy Nhất Một Điểm Đến Nhưng Có Rất Nhiều Con Đường Để Đi”

Câu 2. a) Bé đến lớn: 49876;55914;56034;61300;62044

Lớn đến bé: 62044;61300;56034;55914;49876.

Câu 3. Tính nhẩm:

$$2000 \times 2 + 600 = 4600$$

$$99000 - 5000 = 94000$$

$$60000 + 20000 = 80000$$

$$30000 : 3 : 2 = 5000$$

Câu 4. a) Đặt tính đúng 1 câu được 0,25đ

$$21567 + 42385 = 63952$$

$$7138 \times 6 = 42838$$

$$89205 - 63582 = 25623$$

$$5213 \times 5 = 26065$$

b) $65283 : 4 = 16320$ (du 3)

$$72605 : 5 = 14521$$

$$8063 + 1647 + 252 = 9962$$

$$9364 + 4281 + 3504 = 17149$$

Câu 5. Tổng số vé ba buổi nhà hát bán được là :

$$2709 + 4568 + 5123 = 12400 \text{ (vé)}$$

Đáp số: 12 400 vé

Câu 6.

Số quyển vở	2 quyển	5 quyển	9 quyển	10 quyển
Thành tiền	5400 đồng	13500 đồng	24 300 đồng	27 000 đồng

Câu 7.

$$3 \text{ dm} = 30 \text{ cm}$$

Diện tích hình chữ nhật là : $30 \times 6 = 180 \text{ (cm}^2\text{)}$

Đáp số: 180 cm^2

Câu 8) a) B b) D

Tuyển Tập 55 Đề Thi Học Kỳ II Lớp 3 Năm học 2018-2019

Success has only one destination, but has a lot of ways to go

ĐỀ SỐ 025

Câu 1:(1 điểm)

Số ?

Số liền trước	Số đã cho	Số liền sau
	60000	
	59801	
	73265	
	90349	
	13452	

Câu 2:(1 điểm)

?	>	79826 79758	65000 + 30000 95000
	<		
	=	89999 90000	100000 – 20000 79900

Câu 3:(2 điểm)

a) Đặt tính rồi tính:

$$21675 + 58093$$

$$76952 - 5875$$

$$43567 + 879$$

$$12750 - 3912$$

b) Tính:

$$\begin{array}{r} 21825 \\ \times 3 \\ \hline \end{array}$$

$$\begin{array}{r} 7913 \\ \times 9 \\ \hline \end{array}$$

$$\begin{array}{r} 73200 \\ | 2 \\ \hline \end{array}$$

$$\begin{array}{r} 29842 \\ | 7 \\ \hline \end{array}$$

Câu 4:(2 điểm)

Nội bài toán tìm x với giá trị đúng của x :

$$x - 42631 = 25280$$

$$x \times 6 = 98724$$

$$15759 + x = 80423$$

$$x : 8 = 1523$$

$$x = 67911$$

$$x = 12184$$

$$x = 64664$$

$$x = 16454$$

Câu 5:(1 điểm)

Một hình vuông có cạnh 7cm. Tính:

a) Chu vi của hình vuông.

b) Diện tích của hình vuông.

Câu 6:(1 điểm)

Viết số thích hợp vào chỗ chấm:

$$100000 \text{ đồng} = 60000 \text{ đồng} + \dots\dots\dots \text{ đồng}$$

Thầy giáo Hồ Khắc Vũ – GV dạy Toán cấp I-II. SĐT: 037.858.8250 TP Tam Kỳ - Quảng Nam

“Thành Công Có Duy Nhất Một Điểm Đến Nhưng Có Rất Nhiều Con Đường Để Đi”

$$\begin{aligned} &= 50000 \text{ đồng} + \dots\dots\dots \text{ đồng} \\ &= 30000 \text{ đồng} + \dots\dots\dots \text{ đồng} \\ &= 90000 \text{ đồng} + \dots\dots\dots \text{ đồng} \\ &= 100000 \text{ đồng} + \dots\dots\dots \text{ đồng} \end{aligned}$$

Câu 7:(0,5 điểm)

Viết các số sau thành các số La Mã: 4, 12, 25, 14, 19.

Câu 8:(1,5 điểm)

- | | | | |
|--------|---|----------------------------------|--------------------------|
| Đ
S | ? | a) Tháng hai có 31 ngày | <input type="checkbox"/> |
| | | b) $(51000 + 23200) : 4 = 18550$ | <input type="checkbox"/> |
| | | c) $10\text{km} = 10000\text{m}$ | <input type="checkbox"/> |
| | | d) $12000 \times 5 > 60000$ | <input type="checkbox"/> |
| | | e) 33 tuần lễ có 231 ngày | <input type="checkbox"/> |

ĐÁP ÁN ĐỀ SỐ 025

Câu 1:

Số liền trước	Số đã cho	Số liền sau
59999	60000	60001
59800	59801	59802
73264	73265	73266
90348	90349	90350
13451	13452	13453

Câu 2:

$$\begin{aligned} 79826 &> 79758 & 65000 + 30000 &= 95000 \\ 89999 &< 90000 & 100000 - 20000 &.> 79900 \end{aligned}$$

Câu 3:

$$\begin{aligned} \text{a) } 21675 + 58093 &= 79768 & 43567 + 879 &= 44446 \\ 76952 - 5875 &= 71077 & 12750 - 3912 &= 8838 \\ \text{b) } 65475; 71217; 73200: 36600; & 29842 : 7 &= 4263 \text{ (dư 1)} \end{aligned}$$

Câu 4: HS tự làm.

Câu 5:

Bài giải

a) Chu vi của hình vuông là:

Tuyển Tập 55 Đề Thi Học Kỳ II Lớp 3 Năm học 2018-2019

Success has only one destination, but has a lot of ways to go

Thầy giáo Hồ Khắc Vũ – GV dạy Toán cấp I-II. Sđt: 037.858.8250 TP Tam Kỳ - Quảng Nam

“Thành Công Có Duy Nhất Một Điểm Đến Nhưng Có Rất Nhiều Con Đường Để Đi”

$$7 \times 4 = 28 \text{ (cm)}$$

b) Diện tích của hình vuông là:

$$7 \times 7 = 49 \text{ (cm}^2\text{)}$$

Đáp số: a) 28cm.

b) 49cm².

Câu 6:

$$\begin{aligned} 100000 \text{ đồng} &= 60000 \text{ đồng} + 40000 \text{ đồng} \\ &= 50000 \text{ đồng} + 50000 \text{ đồng} \\ &= 30000 \text{ đồng} + 70000 \text{ đồng} \\ &= 90000 \text{ đồng} + 10000 \text{ đồng} \\ &= 100000 \text{ đồng} + 0 \text{ đồng} \end{aligned}$$

Câu 7: IV, XII, XXV, XIV, XIX.

Câu 8:

a) Tháng hai có 31 ngày

S

b) $(51000 + 23200) : 4 = 18550$

Đ

c) $10\text{km} = 10000\text{m}$

Đ

d) $12000 \times 5 > 60000$

S

e) 33 tuần lễ có 231 ngày

Đ

ĐỀ SỐ 026

Khoanh tròn vào chữ cái đặt trước đáp án đúng.

Bài 1. Trong các số: 42 078, 42 075, 42 090, 42 100, 42 099, 42 109, 43 000. Số lớn nhất là:

A. 42 099

B. 43 000

C. 42 075

D. 42 090

Bài 2. Giá trị của biểu thức $2342 + 403 \times 6$ là:

A. 4660

B. 4760

C. 4860

D. 4960

Bài 3. Hình vuông có cạnh 3cm. Diện tích hình vuông là:

A. 6cm²

B. 9cm

C. 9cm²

D. 12cm

Bài 4. Mua 2kg gạo hết 18 000 đồng. Vậy mua 5 kg gạo hết số tiền là:

Tuyển Tập 55 Đề Thi Học Kỳ II Lớp 3 Năm học 2018-2019

Success has only one destination, but has a lot of ways to go

Thầy giáo Hồ Khắc Vũ – GV dạy Toán cấp I-II. SĐT: 037.858.8250 TP Tam Kỳ - Quảng Nam

“Thành Công Có Duy Nhất Một Điểm Đến Nhưng Có Rất Nhiều Con Đường Để Đi”

- A. 35 000 đồng B. 40 000 đồng C. 45 000 đồng D. 50 000 đồng

Bài 5. Ngày 25 tháng 8 là ngày thứ 7. Ngày 2 tháng 9 cùng năm đó là ngày thứ:

- A. Thứ sáu B. Thứ bảy C. Chủ nhật D. Thứ hai

Bài 6. Giá trị của số 5 trong số 65 478 là:

- A. 50 000 B. 500 C. 5000 D. 50

Bài 7. 12m7dm bằng bao nhiêu dm :

- A. 1207dm B. 127dm C. 1270dm D. 1027dm

II. PHẦN TỰ LUẬN

1. Đặt tính rồi tính:

$$14\ 754 + 23\ 680 \quad ; \quad 15\ 840 - 8795 \quad ; \quad 12\ 936 \times 3 \quad ; \quad 68325 : 8$$

.....

.....

.....

.....

.....

.....

.....

2. Tính giá trị của biểu thức:

$$15\ 840 + 7932 \times 5 = \dots\dots\dots ; \quad (15\ 786 - 13\ 982) \times 3 = \dots\dots\dots$$

$$= \dots\dots\dots \quad = \dots\dots\dots$$

$$239 + 1267 \times 3 = \dots\dots\dots ; \quad 2505 : (403 - 398) = \dots\dots\dots$$

$$= \dots\dots\dots \quad = \dots\dots\dots$$

3. Tìm x:

$$x : 8 = 3721$$

$$24\ 860 : x = 5$$

.....

.....

.....

$$49\ 623 + X = 78\ 578$$

$$78\ 026 - X = 69\ 637$$

Thầy giáo Hồ Khắc Vũ – GV dạy Toán cấp I-II. Sđt: 037.858.8250 TP Tam Kỳ - Quảng Nam

“Thành Công Có Duy Nhất Một Điểm Đến Nhưng Có Rất Nhiều Con Đường Để Đi”

.....
.....
.....

4. Một ô tô đi trong 8 giờ thì được 32624 km. Hỏi ô tô đó đi trong 3 giờ được bao nhiêu ki - lô - mét?

Bài giải

.....
.....
.....
.....
.....
.....

5. Một người đi bộ trong 5 phút được 450 m. Hỏi trong 8 phút người đó đã đi được bao nhiêu mét (quãng đường đi được trong mỗi phút đều như nhau)?

Bài làm

.....
.....
.....
.....
.....

6. Một hình chữ nhật có chiều dài 12 cm, chiều rộng bằng $\frac{1}{3}$ chiều dài. Tính diện tích hình chữ nhật đó?

Bài làm

.....
.....
.....
.....
.....

7. Một thửa ruộng hình chữ nhật có chiều rộng 8m, chiều dài gấp 3 lần chiều rộng. Tính diện tích thửa ruộng đó?

Tuyển Tập 55 Đề Thi Học Kỳ II Lớp 3 Năm học 2018-2019
Success has only one destination, but has a lot of ways to go

Thầy giáo Hồ Khắc Vũ – GV dạy Toán cấp I-II. Sđt: 037.858.8250 TP Tam Kỳ - Quảng Nam

“Thành Công Có Duy Nhất Một Điểm Đến Nhưng Có Rất Nhiều Con Đường Để Đi”

Bài giải

.....
.....
.....
.....
.....
.....

Thầy giáo Hồ Khắc Vũ – GV dạy Toán cấp I-II. Sđt: 037.858.8250 TP Tam Kỳ - Quảng Nam

“Thành Công Có Duy Nhất Một Điểm Đến Nhưng Có Rất Nhiều Con Đường Để Đi”

ĐÁP ÁN ĐỀ SỐ 026

1.B 2.B 3.C 4.C 5.C 6.C 7.B

II. TỰ LUẬN

1) Mỗi câu đặt tính đúng được điểm tối đa

$$14754 + 23680 = 38434$$

$$12936 \times 3 = 38808$$

$$15840 - 8795 = 7045$$

$$68325 : 8 = 8540 (\text{du } 5)$$

2) Tính giá trị biểu thức

$$15840 + 7932 \times 5$$

$$= 15840 + 39660$$

$$= 55500$$

$$(15786 - 13982) \times 3$$

$$= 1804 \times 3$$

$$= 5412$$

$$239 + 1267 \times 3$$

$$= 239 + 3801$$

$$= 4040$$

$$2505 : (403 - 308)$$

$$= 2505 : 5$$

$$= 501$$

3) Tìm x

$$x : 8 = 3721$$

$$x = 3721 \times 8$$

$$x = 29768$$

$$49623 + x = 78578$$

$$x = 78578 - 49623$$

$$x = 28955$$

$$24860 : x = 5$$

$$x = 24860 : 5$$

$$x = 4972$$

$$78026 - x = 69637$$

$$x = 78026 - 69637$$

$$x = 8389$$

4) Số kilomet 1 giờ ô tô đó đi là : $32624 : 8 = 4078 (km)$

Số kilomet trong 3 giờ ô tô đó đi là : $4078 \times 3 = 12234 (km)$

5) Số mét 1 phút người đó đi là : $450 : 5 = 90 (m)$

Số mét 8 phút người đó đi là : $90 \times 8 = 720 (m)$

Đáp số: 720 m

Tuyển Tập 55 Đề Thi Học Kỳ II Lớp 3 Năm học 2018-2019
Success has only one destination, but has a lot of ways to go

6) Chiều rộng hình chữ nhật là: $12:3=4(cm)$

Diện tích hình chữ nhật là : $12\times4=48(cm^2)$ Đáp số: 48 cm^2

7) Chiều dài thửa ruộng là : $8\times3=24(m)$

Diện tích thửa ruộng là : $24\times8=192(m^2)$ Đáp số: 192 m^2

ĐỀ SỐ 027

Bài 1: Tính giá trị biểu thức:

$$239 + 1267 \times 3 = \dots\dots\dots ; 2505 : (403 - 398) = \dots\dots\dots$$
$$= \dots\dots\dots \qquad \qquad \qquad = \dots\dots\dots$$

$$1682 : (4 \times 2) = \dots\dots\dots ; 21406 \times 2 + 35736 = \dots\dots\dots$$
$$= \dots\dots\dots \qquad \qquad \qquad = \dots\dots\dots$$

$$4 \times (3785 - 1946) = \dots\dots\dots ; 5746 + 1572 : 6 = \dots\dots\dots$$
$$= \dots\dots\dots \qquad \qquad \qquad = \dots\dots\dots$$

$$(13824 + 20718) : 2 = \dots\dots\dots ; (37829 - 20718) \times 2 = \dots\dots\dots$$
$$= \dots\dots\dots ; \qquad \qquad \qquad = \dots\dots\dots$$

Bài 2: Đặt tính rồi tính

4629×2	$7482 - 946$	$1877 : 3$	$2414 : 6$
.....			
.....			
.....			
.....			

Bài 3:

$6m\ 3cm = \dots\dots$ $1m\ 10\text{ cm} = \dots\dots$

Thầy giáo Hồ Khắc Vũ – GV dạy Toán cấp I-II. Sđt: 037.858.8250 TP Tam Kỳ - Quảng Nam

“Thành Công Có Duy Nhất Một Điểm Đến Nhưng Có Rất Nhiều Con Đường Để Đi”

$4m\ 3dm = \dots\dots$

$9m\ 8cm = \dots\dots$

$4m\ 50\ cm = \dots\dots$

$8m\ 62cm = \dots\dots$

Bài 4: Có 30 kg đậu đựng đều vào 6 túi . Hỏi 4 túi như vậy có bao nhiêu kg đậu?

Giải

.....
.....
.....
.....
.....

Bài 5: Để ốp thêm một mảnh tường người ta dùng hết 8 viên gạch men, mỗi viên gạch hình vuông cạnh 10 cm. Hỏi diện tích mảnh tường được ốp thêm là bao nhiêu cm?

Giải

.....
.....
.....
.....
.....

Bài 6: Một người đi ô tô trong 2 giờ đi được 94 km . Hỏi trong 5 giờ người đi ô tô đó đi được bao nhiêu km? (Quãng đường đi trong mỗi giờ đều như nhau)

Bài giải:

.....
.....
.....
.....
.....
.....

Thầy giáo Hồ Khắc Vũ – GV dạy Toán cấp I-II. SĐT: 037.858.8250 TP Tam Kỳ - Quảng Nam

“Thành Công Có Duy Nhất Một Điểm Đến Nhưng Có Rất Nhiều Con Đường Để Đi”

ĐÁP ÁN ĐỀ SỐ 027

Bài 1

$$239 + 1267 \times 3$$

$$= 239 + 3801$$

$$= 4040$$

$$1682 : (4 \times 2)$$

$$= 1682 : 8$$

$$= 210 (\text{du } 2)$$

$$4 \times (3785 - 1946)$$

$$= 4 \times 1839$$

$$= 7356$$

$$(13824 + 20718) : 2$$

$$= 34542 : 2$$

$$= 17271$$

$$2505 : (403 - 398)$$

$$= 2505 : 5$$

$$= 501$$

$$21406 \times 2 + 35736$$

$$= 42812 + 35736$$

$$= 78548$$

$$5746 + 1572 : 6$$

$$= 5746 + 262$$

$$= 6008$$

$$(37829 - 20718) \times 2$$

$$= 17111 \times 2$$

$$= 34222$$

Bài 2. Mỗi bài đặt tính đúng được điểm tối đa

$$4629 \times 2 = 9258$$

$$7482 - 946 = 6536$$

$$1877 : 3 = 625 (\text{du } 2)$$

$$2416 : 6 = 402 (\text{du } 2)$$

$$6 \text{ m } 3 \text{ cm} = 603 \text{ cm}$$

$$1 \text{ m } 10 \text{ cm} = 110 \text{ cm}$$

Bài 3. $4 \text{ m } 3 \text{ dm} = 43 \text{ dm}$

$$9 \text{ m } 8 \text{ cm} = 908 \text{ cm}$$

$$4 \text{ m } 50 \text{ cm} = 450 \text{ cm}$$

$$8 \text{ m } 62 \text{ cm} = 862 \text{ cm}$$

Bài 4. Số kilogram đậu 1 túi đựng là : $30 : 6 = 5 (\text{kg})$

Số kilogram đậu 4 túi đựng là : $5 \times 4 = 20 (\text{kg})$

Đáp số: 20 kg

Bài 5. Diện tích 1 viên gạch là : $10 \times 10 = 100 (\text{cm}^2)$

Diện tích mảnh tường ốp thêm là : $100 \times 8 = 800 (\text{cm}^2)$

Đáp số: 800 cm^2

Bài 6. Số kilomet 1 giờ ô tô đi là : $94 : 2 = 47 (\text{km})$

Số kilomet 5 giờ ô tô đó đi là : $47 \times 5 = 235 (\text{km})$ Đáp số: 235 km

Tuyển Tập 55 Đề Thi Học Kỳ II Lớp 3 Năm học 2018-2019

Success has only one destination, but has a lot of ways to go

ĐỀ SỐ 028

I. PHẦN TRẮC NGHIỆM

Khoanh tròn vào chữ cái đặt trước đáp án đúng.

1. Trong các số: 62 078, 82 075, 82 090, 82 100, 82 099, 92 109, 93 000. Số lớn nhất là:

- A. 92 109 B. 82 075 C. 82 090 D. 93 000

2. Giá trị của biểu thức $7892 + 403 \times 9$ là:

- A. 3627 B. 11519 C. 11591 D. 11520

3. Hình vuông có cạnh 9cm. Diện tích hình vuông là:

- A. 72cm^2 B. 81cm C. 81cm^2 D. 72cm

4. Mua 4kg gạo hết 14 000 đồng. Vậy mua 5 kg gạo hết số tiền là:

- A. 35 00 đồng B. 17500 đồng C. 14500 đồng D. 10500 đồng

5. Ngày 25 tháng 8 là ngày thứ 7. Ngày 2 tháng 9 cùng năm đó là ngày thứ:

- A. Thứ sáu B. Thứ bảy C. Chủ nhật D. Thứ hai

II. PHẦN TỰ LUẬN

1. Đặt tính rồi tính:

$65\ 754 + 23\ 480$ $19\ 880 - 8795$ $68\ 936 \times 3$ $12784 : 8$

.....
.....
.....
.....

2. Tính giá trị của biểu thức:

$15\ 879 + 7987 \times 7$ $(97\ 786 - 87\ 982) \times 3$

.....
.....
.....
.....

3. Tìm x:

$X : 8 = 7890$ $42534 : x = 6$

Thầy giáo Hồ Khắc Vũ – GV dạy Toán cấp I-II. Sđt: 037.858.8250 TP Tam Kỳ - Quảng Nam

“Thành Công Có Duy Nhất Một Điểm Đến Nhưng Có Rất Nhiều Con Đường Để Đi”

4. Một ô tô đi trong 8 giờ thì được 32624 km. Hỏi ô tô đó đi trong 3 giờ được bao nhiêu ki - lô - mét?

5. Một thửa ruộng hình chữ nhật có chiều rộng 9 m, chiều dài gấp 3 lần chiều rộng. Tính diện tích thửa ruộng hình chữ nhật đó?

ĐÁP ÁN ĐỀ SỐ 028

I. TRẮC NGHIỆM

1.D 2.B 3.C 4.B 5.C

II. TỰ LUẬN

1) Mỗi câu đặt tính đúng được điểm tối đa

$$65754 + 23480 = 89234$$

$$19880 - 8795 = 11085$$

$$68936 \times 3 = 206808$$

$$12784 : 8 = 1598$$

$$2) 15879 + 7987 \times 7$$

$$(97786 - 87982) \times 3$$

$$= 15879 + 55909$$

$$= 9804 \times 3$$

$$= 71788$$

$$= 29412$$

$$3) x : 8 = 7890$$

$$42534 : x = 6$$

$$x = 7890 \times 8$$

$$x = 42534 : 6$$

$$x = 63120$$

$$x = 7089$$

4) Số kilomet 1 giờ ô tô đó đi là : $32624 : 8 = 4078(km)$

Số kilomet 3 giờ ô tô đó đi là : $4078 \times 3 = 12234(km)$

Đáp số: 12234km

5) Chiều dài thửa ruộng là : $9 \times 3 = 27(m)$

Tuyển Tập 55 Đề Thi Học Kỳ II Lớp 3 Năm học 2018-2019

Success has only one destination, but has a lot of ways to go

Thầy giáo Hồ Khắc Vũ – GV dạy Toán cấp I-II. SĐT: 037.858.8250 TP Tam Kỳ - Quảng Nam

“Thành Công Có Duy Nhất Một Điểm Đến Nhưng Có Rất Nhiều Con Đường Để Đi”

Diện tích thửa ruộng là : $27 \times 3 = 81(m^2)$

Đáp số: $81m^2$

ĐỀ SỐ 029

I. PHẦN TRẮC NGHIỆM

Khoanh tròn vào chữ cái đặt trước đáp án đúng.

1, Trong các số: 98 078, 98 075, 98 090, 98 100, 98 099, 98 109, 99 000. Số lớn nhất là:

A. 98 078 B. 98 100 C. 98 109 D. 99 000

2. Giá trị của biểu thức $2342 + 21168 : 7$ là:

A. 5366 B. 5367 C. 5766 D 6751

3. Hình vuông có cạnh 7cm. Diện tích hình vuông là:

A. $49cm^2$ B. 49cm C. $28cm^2$ D 28cm

4. Mua 8kg gạo hết 32456 đồng. Vậy mua 5 kg gạo hết số tiền là:

A. 20285 đồng B. 20258 đồng C. 20259 đồng D. 20528 đồng

5. Ngày 25 tháng 8 là ngày thứ 7. Ngày 2 tháng 9 cùng năm đó là ngày thứ:

A. Thứ sáu B. Thứ bảy C. Chủ nhật D. Thứ hai

II. PHẦN TỰ LUẬN

1. Đặt tính rồi tính:

$78\ 244 + 89\ 660$ $78\ 840 - 18\ 795$ $65\ 236 \times 9$ $468\ 120 : 6$

.....
.....
.....
.....

2. Tính giá trị của biểu thức:

$15\ 840 + 32046 : 7$ $32\ 464 : 8 - 3956$

.....
.....
.....
.....

3. Tìm x:

$X : 5 = 3721$ $18\ 315 : x = 9$

Tuyển Tập 55 Đề Thi Học Kỳ II Lớp 3 Năm học 2018-2019

Success has only one destination, but has a lot of ways to go

Thầy giáo Hồ Khắc Vũ – GV dạy Toán cấp I-II. Sđt: 037.858.8250 TP Tam Kỳ - Quảng Nam

“Thành Công Có Duy Nhất Một Điểm Đến Nhưng Có Rất Nhiều Con Đường Để Đi”

.....
.....
.....
.....

4. Một ô tô đi trong 9 giờ thì được 4 914 km. Hỏi ô tô đó đi trong 3 giờ được bao nhiêu ki - lô - mét?

.....
.....
.....

5. Cho hình chữ nhật ABCD có chiều dài 5cm, chiều rộng 3 cm. và hình vuông có cạnh 5 cm

a) Tính chu vi mỗi hình

b) Tính diện tích mỗi hình

ĐÁP ÁN ĐỀ SỐ 029

I. TRẮC NGHIỆM

1.D 2.A 3.A 4.A 5.C

II. TỰ LUẬN

1) Mỗi câu đặt tính đúng được điểm tối đa

$$78244 + 89660 = 167904$$

$$78840 - 18795 = 60045$$

$$65236 \times 9 = 587124$$

$$468120 : 6 = 78020$$

$$2) 15840 + 32046 : 7$$

$$32464 : 8 - 3956$$

$$= 15840 + 4578$$

$$= 4058 - 3956$$

$$= 20418$$

$$= 102$$

3) Tìm x

Tuyển Tập 55 Đề Thi Học Kỳ II Lớp 3 Năm học 2018-2019

Success has only one destination, but has a lot of ways to go

Thầy giáo Hồ Khắc Vũ – GV dạy Toán cấp I-II. Sđt: 037.858.8250 TP Tam Kỳ - Quảng Nam

“Thành Công Có Duy Nhất Một Điểm Đến Nhưng Có Rất Nhiều Con Đường Để Đi”

$$x : 5 = 3721$$

$$x = 3721 \times 5$$

$$x = 18605$$

$$18315 : x = 9$$

$$x = 18315 : 9$$

$$x = 2035$$

4) Số kilomet 1 giờ ô tô đi là : $4914 : 9 = 546$ (km)

Số kilomet 3 giờ ô tô đó đi là : $546 \times 3 = 1638$ (km)

Đáp số: 1638km

5) a) Chu vi hình vuông là : $5 \times 4 = 20$ (cm)

Chu vi hình chữ nhật là : $(5 + 3) \times 2 = 16$ (cm)

b) Diện tích hình vuông là : $5 \times 5 = 25$ (cm²)

Diện tích hình chữ nhật là : $5 \times 3 = 15$ (cm²)

Đáp số: a) 20 cm, 16 cm

b) 25 cm² ; 15 cm²

ĐỀ SỐ 030

I. PHẦN TRẮC NGHIỆM

Khoanh tròn vào chữ cái đặt trước đáp án đúng.

1, Trong các số: 78 654, 78 765, 87 456, 79 123, Số lớn nhất là:

A. 78 654

B. 78 765

C. 87 456

D. 79 123

Xếp các số trên theo thứ tự từ bé đến lớn:.....

2. Giá trị của biểu thức $78946 - 42560 : 7$ là:

A. 4660

B. 74 562

C. 6 080

D. 72 866

3. Hình vuông có cạnh 6 dm. Diện tích hình vuông là:

A. 36cm²

B. 36dm

C. 36dm²

D. 36cm

4. Mua 2kg gạo hết 8 178 đồng. Vậy mua 5 kg gạo hết số tiền là:

A. 4 089 đồng

B. 20 445 đồng

C. 25 000 đồng

D. 20 545 đồng

5. Ngày 25 tháng 8 là ngày thứ 7. Ngày 2 tháng 9 cùng năm đó là ngày thứ:

Tuyển Tập 55 Đề Thi Học Kỳ II Lớp 3 Năm học 2018-2019

Success has only one destination, but has a lot of ways to go

Thầy giáo Hồ Khắc Vũ – GV dạy Toán cấp I-II. Sđt: 037.858.8250 TP Tam Kỳ - Quảng Nam

“Thành Công Có Duy Nhất Một Điểm Đến Nhưng Có Rất Nhiều Con Đường Để Đi”

A. Thứ sáu B. Thứ bảy C. Chủ nhật D. Thứ hai

II. PHẦN TỰ LUẬN

1. Đặt tính rồi tính:

$$65\ 789 + 98\ 637 \quad 78\ 456 - 9\ 897 \quad 75389 \times 8 \quad 81\ 576 : 9$$

.....
.....
.....
.....

2. Tính giá trị của biểu thức:

$$15\ 840 + 8972 \times 6 \qquad (12\ 879 - 9\ 876) \times 4$$

.....
.....
.....
.....

3. Tìm x:

$$X : 6 = 9876 \qquad 49\ 623 : x = 7 \qquad 78\ 026 - X = 69\ 637$$

.....
.....
.....
.....

4. Một ô tô đi trong 3 giờ thì được 27 135 km. Hỏi ô tô đó đi trong 8 giờ được bao nhiêu ki - lô - mét?

.....
.....
.....
.....

5. Một thửa ruộng hình vuông có chiều rộng 8m, chiều dài gấp 3 lần chiều rộng. Hỏi diện tích thửa ruộng đó bằng bao nhiêu m² ?

.....
.....
.....

Tuyển Tập 55 Đề Thi Học Kỳ II Lớp 3 Năm học 2018-2019

Success has only one destination, but has a lot of ways to go

ĐÁP ÁN ĐỀ SỐ 030

I. TRẮC NGHIỆM

1.C

Sắp xếp bé đến lớn: 78654; 78765; 79123; 87456

2D 3C 4B 5C

II. TỰ LUẬN

1) Mỗi câu đặt tính đúng được điểm tối đa

$$65789 + 98637 = 164426$$

$$75389 \times 8 = 603112$$

$$78456 - 9897 = 68559$$

$$81576 : 9 = 9064$$

$$2) 15840 + 8972 \times 6$$

$$= 15840 + 53832$$

$$= 69672$$

$$(12879 - 9876) \times 4$$

$$= 3003 \times 4$$

$$= 12012$$

$$3) x : 6 = 9876$$

$$49623 : x = 7$$

$$x = 9876 \times 6$$

$$x = 49623 : 7$$

$$x = 59256$$

$$x = 7089$$

$$78026 - x = 69637$$

$$x = 78026 - 69637$$

$$x = 8389$$

4) Số kilomet trong 1 giờ người đó đi là : $27135 : 3 = 9045(km)$

Số kilomet trong 8 giờ người đó đi là : $9045 \times 8 = 72360(km)$

Đáp số: 72360km

Bài 5. Chiều dài thửa ruộng là : $8 \times 3 = 24(m)$

Diện tích thửa ruộng là : $24 \times 8 = 192(m^2)$

Đáp số: $192m^2$